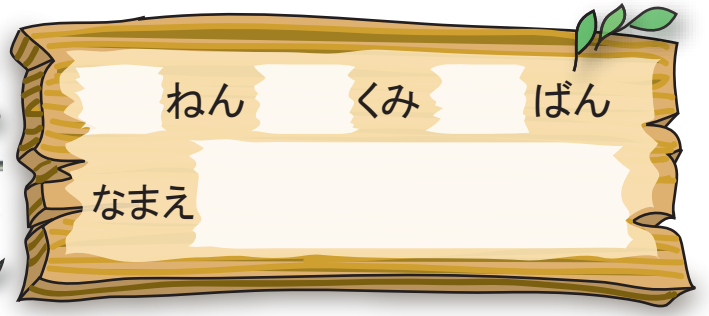





20よりおおきいかず
20より おおきいかず①



たまご

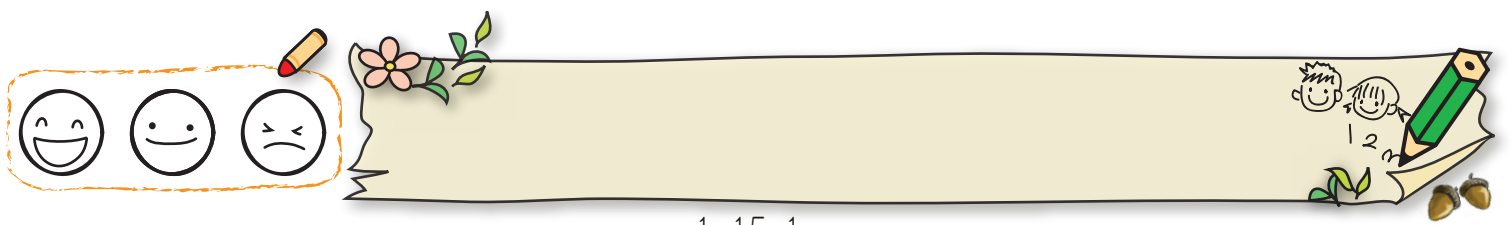
1 は なんこ あるでしょう。
かぞえて に かずを かきましょう。



 が こと、 が ことで こ。

2 を 5 こと を 3 こ あわせた かずは 。

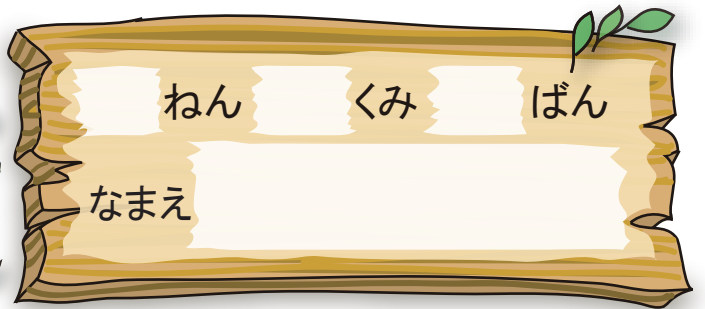
3 を 3 こと を 9 こ あわせた かずは 。





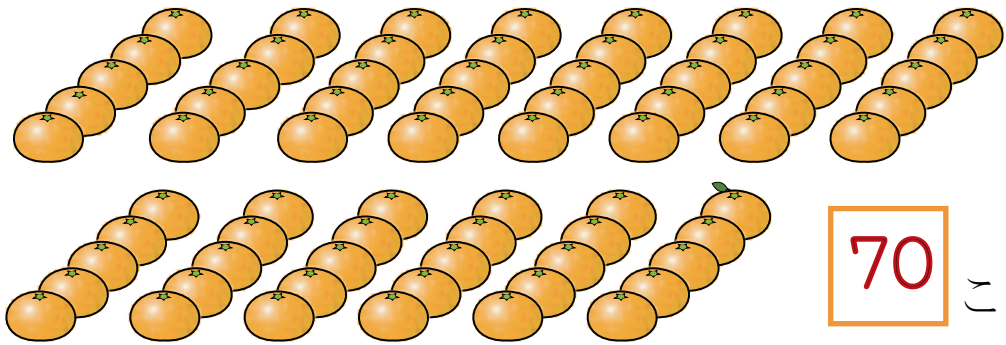
20よりおおきいかず

20より おおきいかず②





□ に あてはまる かずを かきましょう。


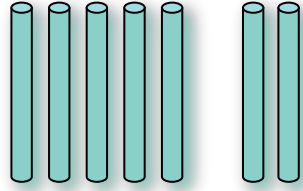
1 ○ は なんこ あるでしょう。




2

	
じゅう 十のくらい	いち 一のくらい
1	5

3

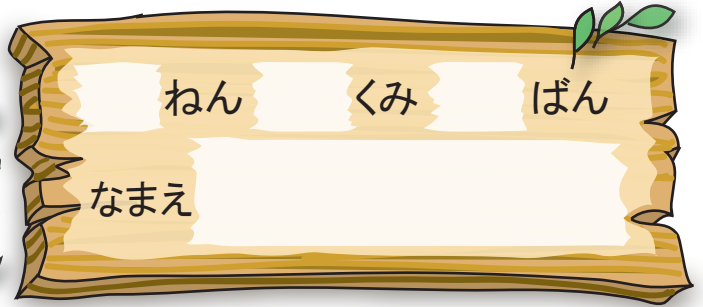
	
じゅう 十のくらい	いち 一のくらい
3	7






20よりおおきいかず

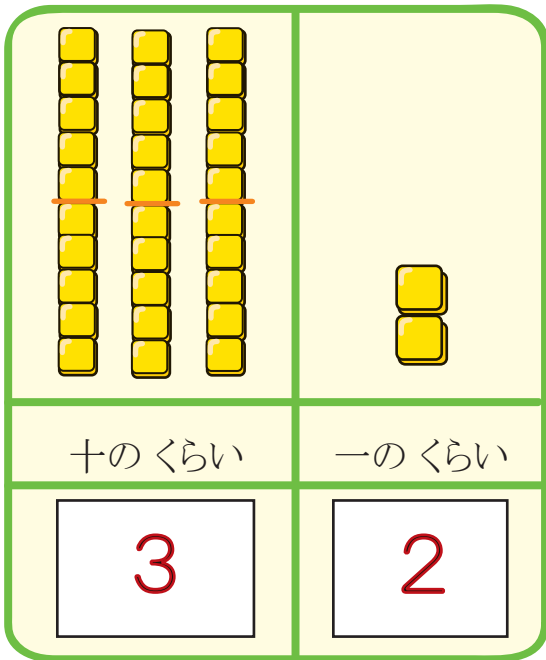
20より おおきいかず③



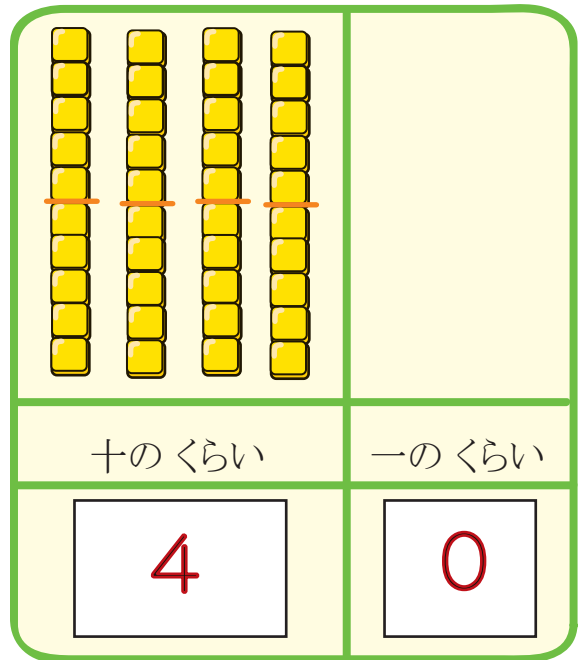
 は なんこ あるでしょう。

 に あてはまる かずを かきましょう。

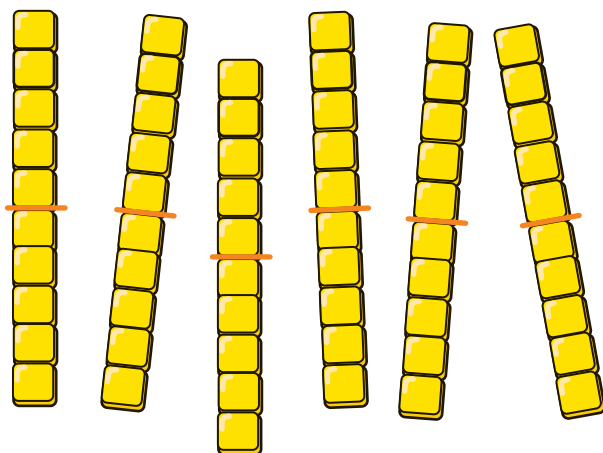
1



2



3



いくつ
あるかな。


65



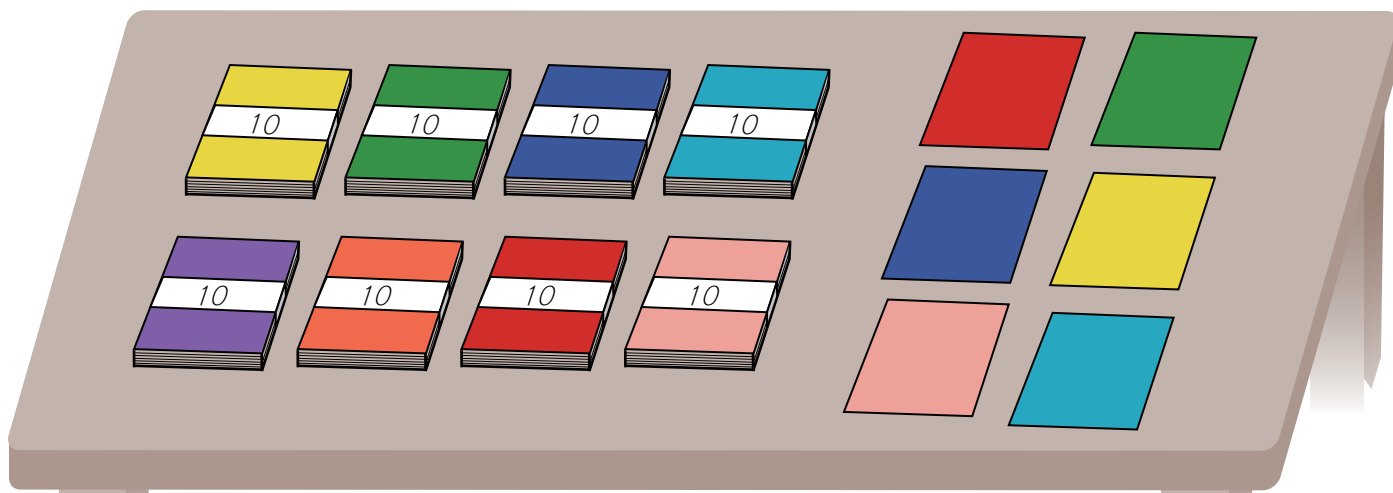



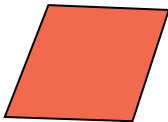
20よりおおきいかず

20より おおきいかず④




1 86について □にあてはまる かずをかきましょう。



86は  を 8 たば と  を 6 まい
あわせたかず。

2 31は 10を 3 たば と 1を 1 こ あわせたかず。


3 62は 10を 6 たば と 1を 2 こ あわせたかず。




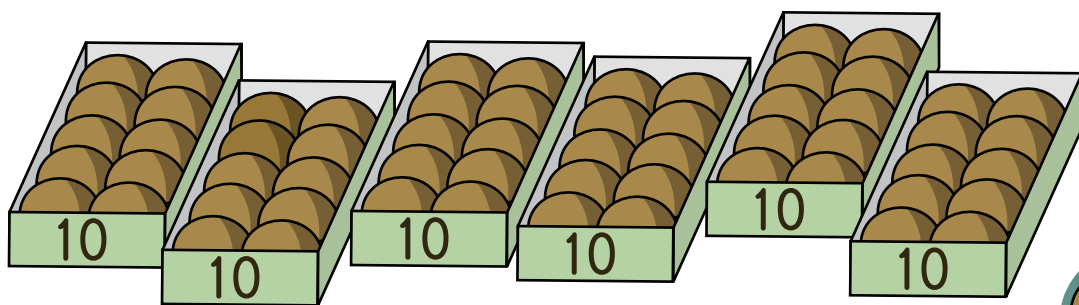


20よりおおきいかず

20より おおきいかず⑤



1 おまんじゅうは なんこ あるでしょうか。



67 こ

2 を 7 こと を 2 こ あわせた かずは

72



3 10を 8 こ あつめた かずは

80

4 92は 10を


9

こと

1を

2

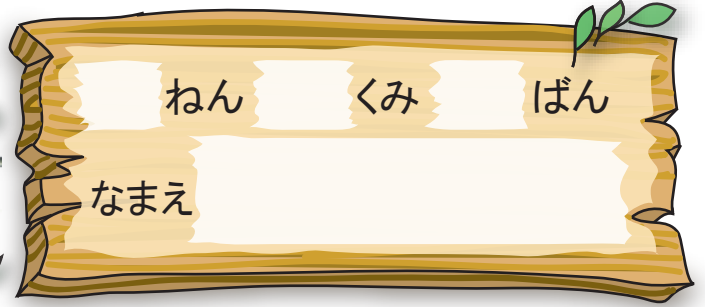
こ あわせた かず





20よりおおきいかず

20より おおきいかず⑥



ねん くみ ばん

なまえ

1 63 は  を 6 こと  を 3 こ あわせた かず。


2 93 は 10 を 9 こと 1 を 3 こ あつめた かず。

3 十のくらいが 2、一のくらいが 7 の かずは 27

4 十のくらいが 5、一のくらいが 1 の かずは 51

5 80 の 十のくらいの すうじは、 8
 一のくらいの すうじは、 0

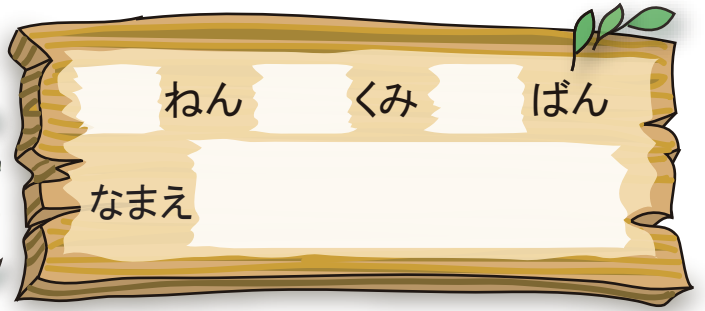
6 29 の 十のくらいの すうじは、 2
 一のくらいの すうじは、 9





20よりおおきいかず

99より おおきいかず



いくつありますか。すうじでかきましょう。

1

100

2

100

3

100


10のまとまりで
かぞえるといいよ。





20よりおおきいかず

かずの ならびかた①




1 あいている □ にあう かずを かきましよう。

0	1	2	3	4	5	6	7	8	9
10	11	12	13	14	15	16	17	18	19
20	21	22	23	24	25	26	27	28	29
30	31	32	33	34	35	36	37	38	39
40	41	42	43	44	45	46	47	48	49
50	51	52	53	54	55	56	57	58	59
60	61	62	63	64	65	66	67	68	69
70	71	72	73	74	75	76	77	78	79
80	81	82	83	84	85	86	87	88	89
90	91	92	93	94	95	96	97	98	99
100									

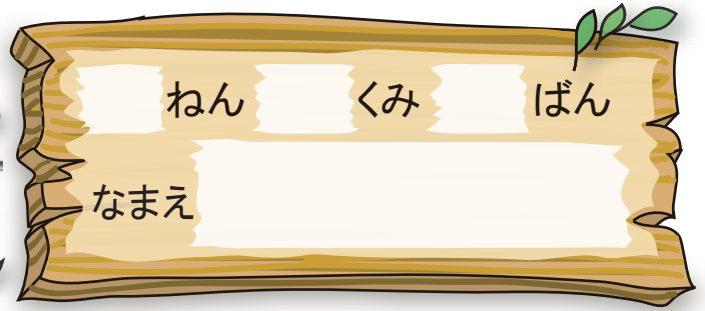
2 一のくらいが 2 のかず に いろをぬりましよう。

3 十のくらいが 3 のかず に いろをぬりましよう。





20よりおおきいかず
かずの ならびかた②



1 □ に あてはまる かずを かきましょう。

1 95 96 **97** 98 99 **100**

2 100 90 **80** 70 **60** 50

3 10 15 **20** 25 30 **35**

4 100 **99** 98 97 **96** 95

5 86 88 **90** 92 94 **96**

2 おおきいほうに ○ を つけましょう。

1 40 29
(○) ()


2 76 67
(○) ()

どっちが
おおきいかな？





20よりおおきいかず
かずの ならびかた③



にあてはまる かずを かきましょう。



10 が 10 こで **100** です。

もんだいを
よく よんでね。



100 は 99 より **1** おおきい かず です。



79 より 1 おおきい かずは **80** です。




68 より 4 おおきい かずは **72** です。



80 より 4 おおきい かずは **84** です。




100 より 2 ちいさい かずは **98** です。





20よりおおきいかず

100より おおきい かず



にあてはまる かずを かきましょう。

①

98 — 99 — 100 — 101 — 102

②

118 — 119 — 120 — 121 — 122

③

109 — 110 — 111 — 112 — 113

④

100が 5つで

500


です。

⑤

100が 1つと 1が3つで

103


です。





20よりおおきいかず

たしざん と ひきざん①



けいさんを しましょう。

1 $10 + 30 = 40$

2 $40 + 20 = 60$

3 $30 + 50 = 80$

4 $40 + 60 = 100$

5 $20 + 80 = 100$


6 $50 - 20 = 30$

7 $70 - 30 = 40$

8 $90 - 40 = 50$

9 $100 - 30 = 70$

10 $100 - 70 = 30$



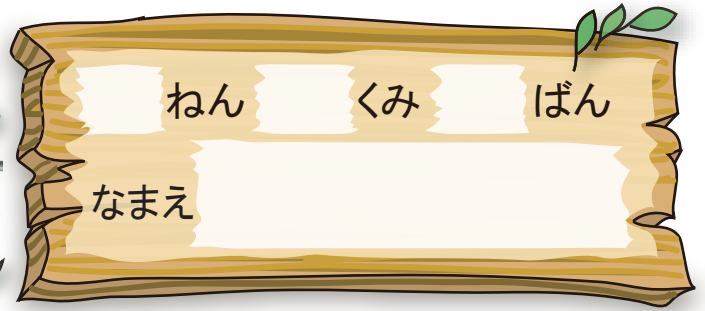
30えんは 10えんだまが
3こ なんだね。





20よりおおきいかず

たしざん と ひきざん②



🐾 けいざんを しましよ。

1 $40 + 6 = 46$

2 $65 - 5 = 60$

3 $50 + 6 = 56$

4 $20 + 9 = 29$

5 $82 - 2 = 80$

6 $77 - 7 = 70$

7 $60 + 9 = 69$

8 $34 - 4 = 30$

9 $90 + 3 = 93$

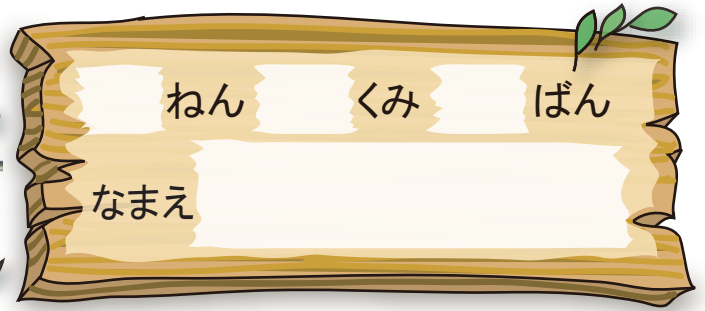
10 $53 - 3 = 50$





20よりおおきいかず

たしざん と ひきざん③



🐾 けいざんを しましよ。

1 $58 - 3 = 55$

2 $25 + 3 = 28$

3 $58 - 4 = 54$

4 $39 - 4 = 35$

5 $95 + 2 = 97$

6 $43 + 4 = 47$

7 $37 - 4 = 33$

8 $85 + 3 = 88$

9 $74 + 3 = 77$

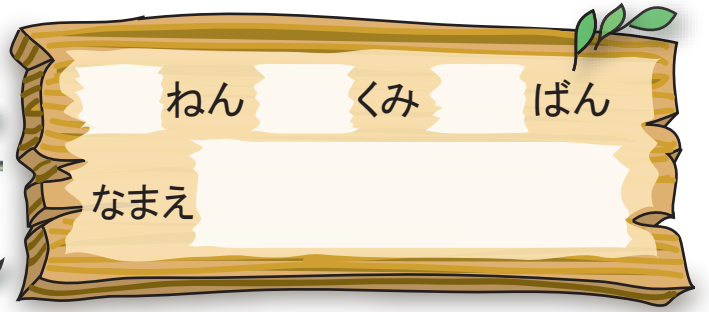
10 $77 - 2 = 75$



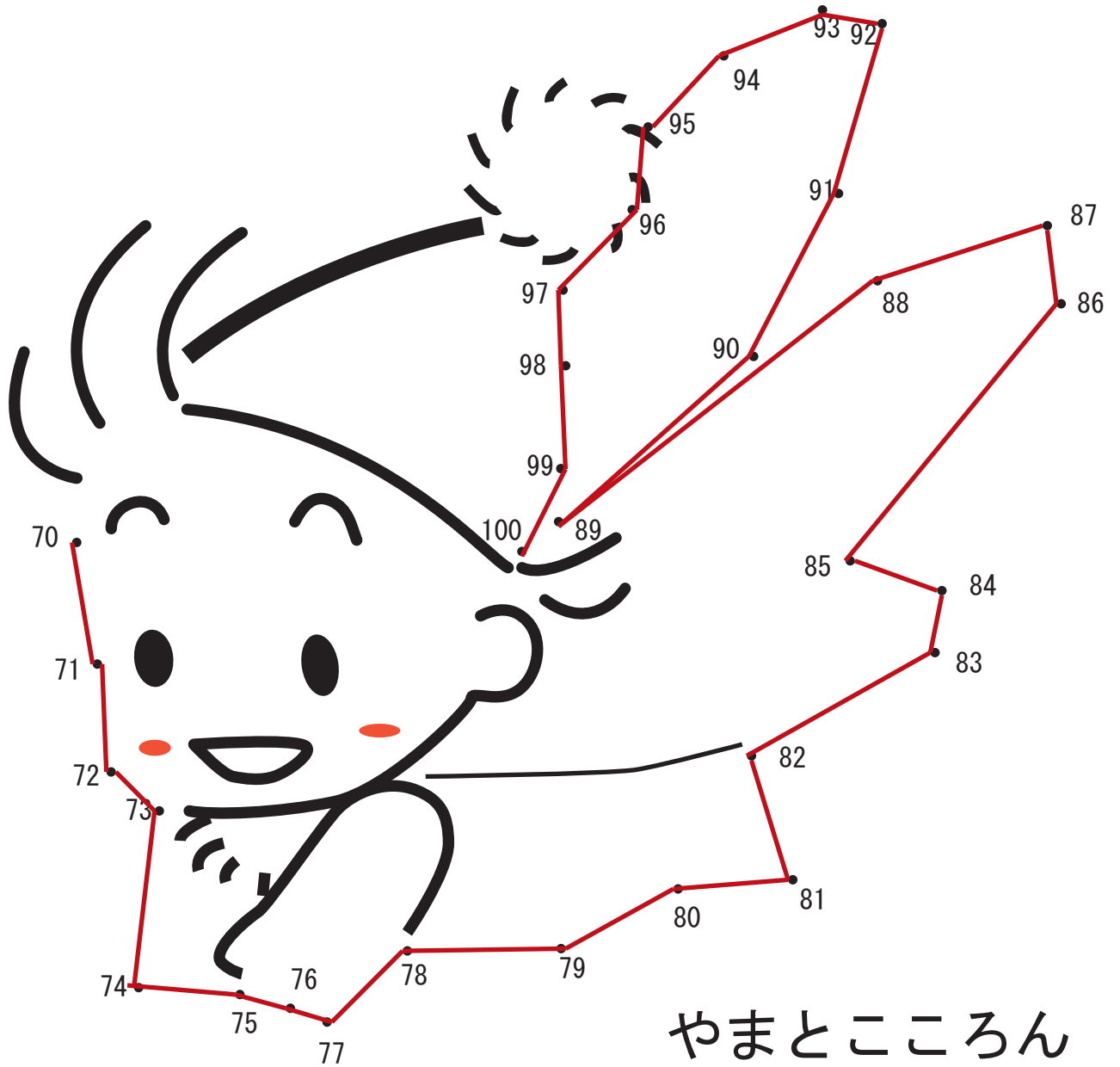


20よりおおきいかず


やってみよう①



70から 100まで じゆんに せんで むすびましょう。



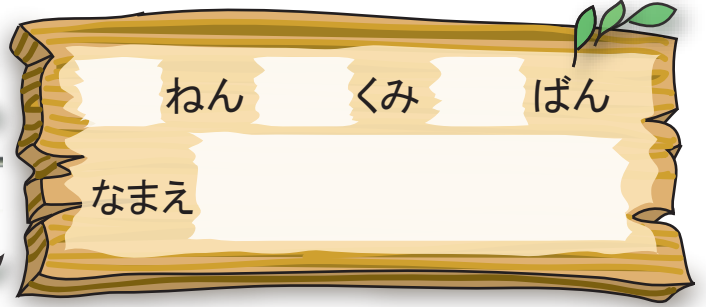
やまところん





20よりおおきいかず

やってみよう②



ねん

くみ

ばん

なまえ

さいころを ふって すごろくを しましょう。

スタート

1 2 3 4 5 6 7 8 9 10 11 12 13 14 15 16 17 18 19 20 21 22 23 24 25 26 27 28 29 30 31 32 33 34 35 36 37 38 39 40 41 42 43 44 45 46 47 48 49 50 51 52 53 54 55 56 57 58 59 60 61 62 63 64 65 66 67 68 69 70 71 72 73 74 75 76 77 78 79 80 81 82 83 84 85 86 87 88 89 90 91 92 93 94 95 96 97 98 99 100

7 4つすすむ

19 3つもどる

37 1かいやすみ

61 10すすむ

52 10もどる

45 1かいやすみ

73 4つもどる

79 1かいやすみ

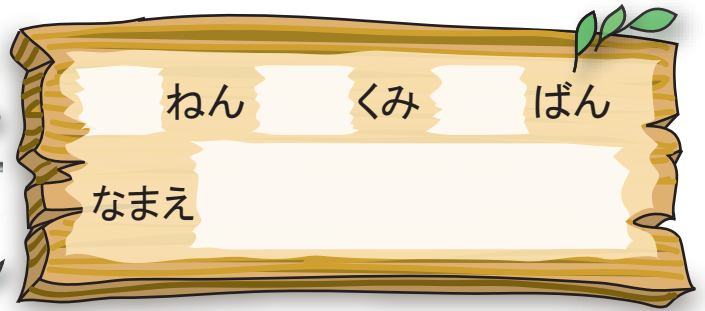
90 3つもどる

ゴール



20より おおきいかず

やってみよう③



ねん

くみ

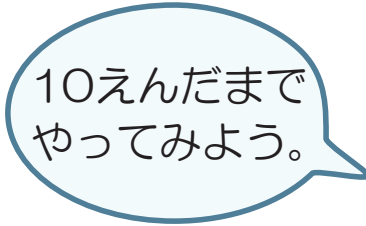
ばん

なまえ

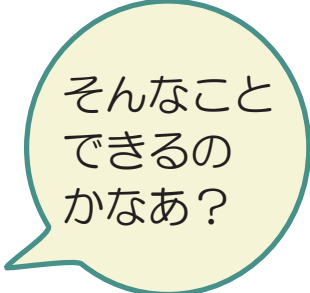


10えんだまが 7こ、したの ずの ように ならべて あります。
このうち 2まいを うごかして、 たても よこも 50えんになるように しましょう。

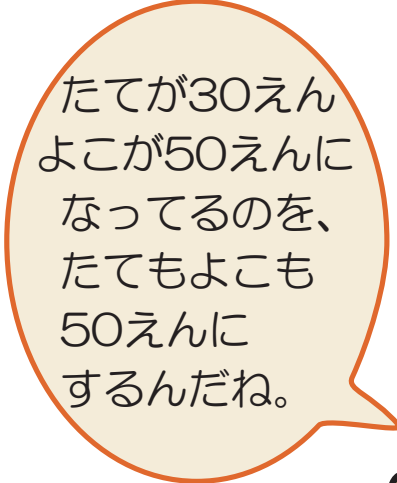
(略)



10えんだまで やってみよう。



そんなこと できるの かなあ？



たてが30えん よこが50えん になってるのを、 たてもよこも 50えんに するんだね。

