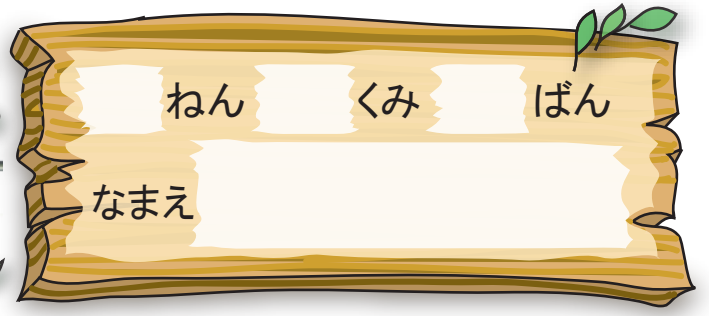





20よりおおきいかず  
20より おおきいかず①



たまご

1 は なんこ あるでしょう。  
かぞえて  に かずを かきましょう。



 が  こと、 が  ことで  こ。

2  10 を 5 こと  1 を 3 こ あわせた かずは  。

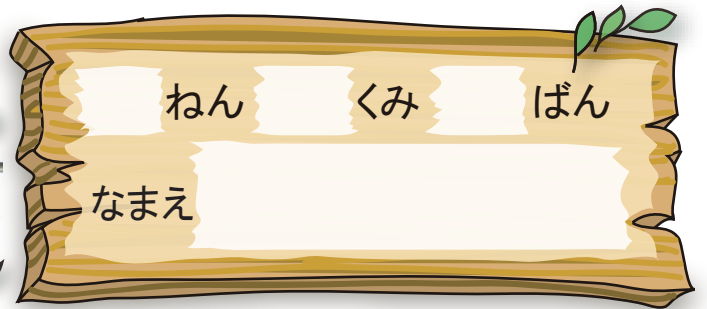
3  10 を 3 こと  1 を 9 こ あわせた かずは  。





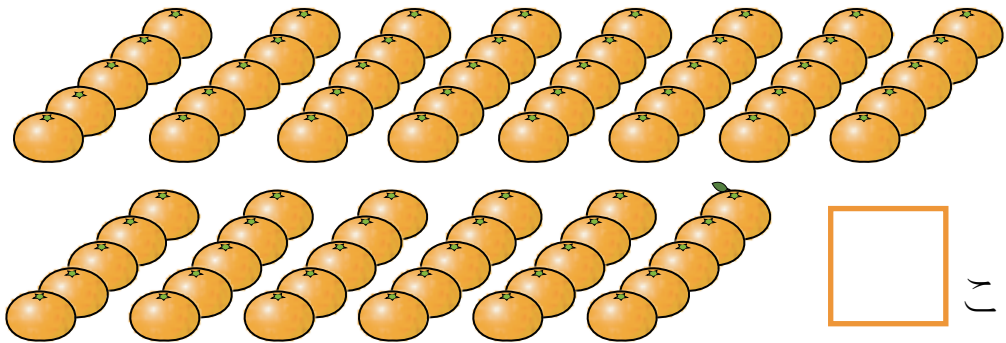
20よりおおきいかず

20より おおきいかず②



□ に あてはまる かずを かきましょう。

1 ○ は なんこ あるでしょう。




2

じゅう 十のくらい	いち 一のくらい
□	□

3

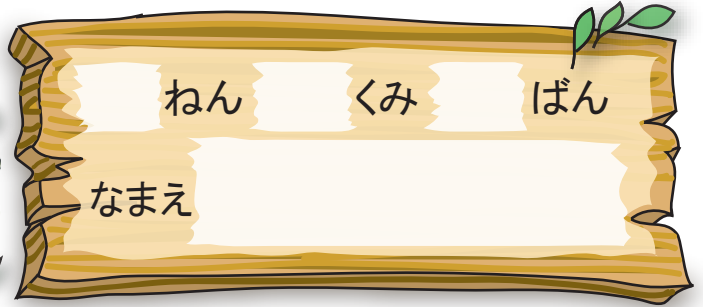
じゅう 十のくらい	いち 一のくらい
□	□







20よりおおきいかず

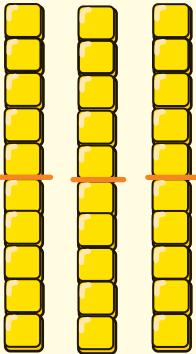

20より おおきいかず③



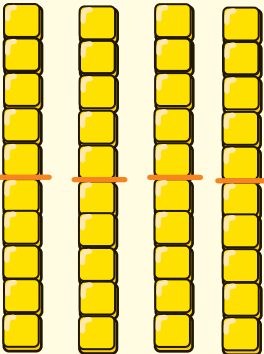
 は なんこ あるでしょう。

 に あてはまる かずを かきましょう。

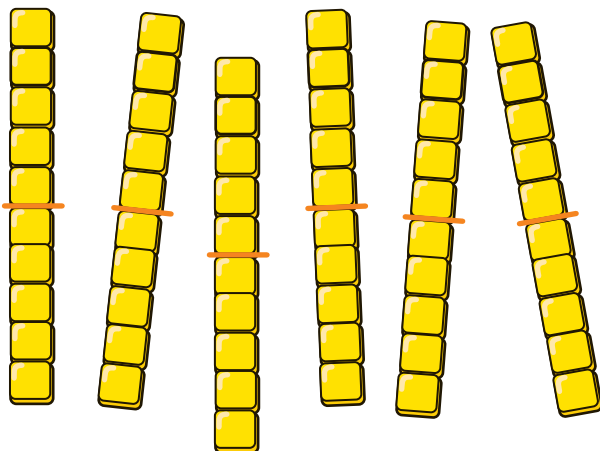
1

	
十のくらい	一のくらい
<input type="text"/>	<input type="text"/>



2

	
十のくらい	一のくらい
<input type="text"/>	<input type="text"/>

3



いくつ  
あるかな。







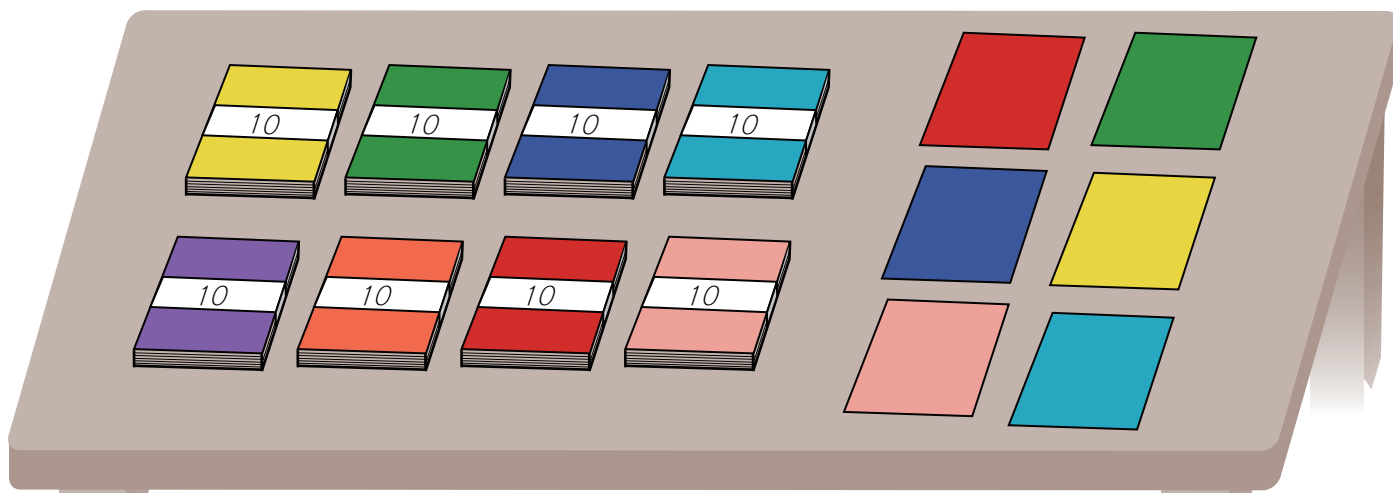


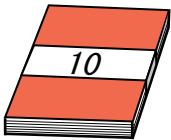
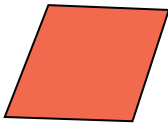
20よりおおきいかず

20より おおきいかず④




1 86について □にあてはまる かずをかきましょう。



86は  を □ たば と  を □ まい  
あわせたかず。

2 31は 10を □ たば と 1を □ こ あわせたかず。


3 62は 10を □ たば と 1を □ こ あわせたかず。



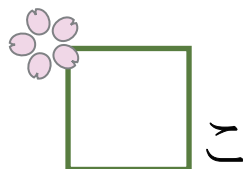
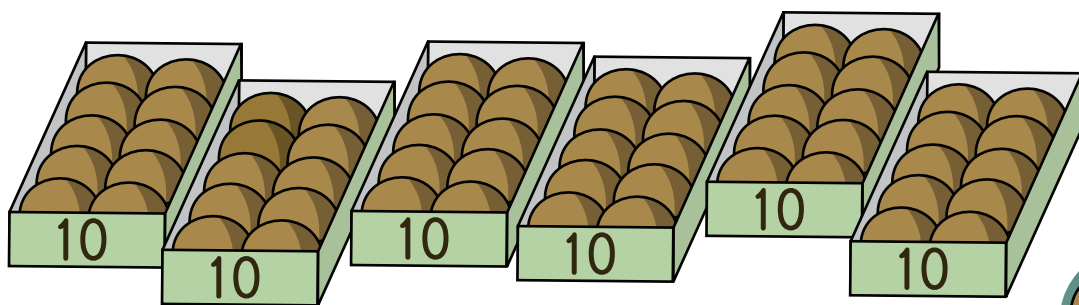


20よりおおきいかず


20より おおきいかず⑤



1 おまんじゅうは なんこ あるでしょうか。



2 を 7 こと を 2 こ あわせた かずは



3 10を 8 こ あつめた かずは



4 92は 10を




こと

1を



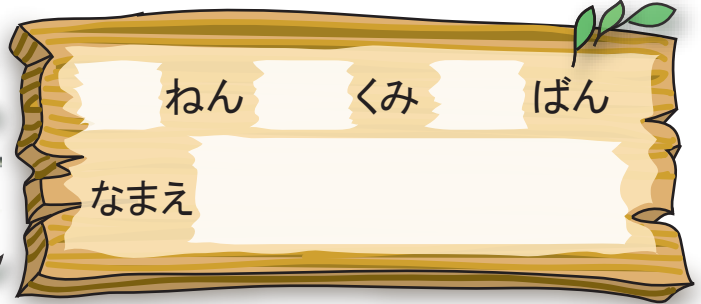
こ あわせた かず





20よりおおきいかず

20より おおきいかず⑥



ねん くみ ばん

なまえ

1 63 は  を  こと  を 3 こ あわせた かず。

2 93 は 10 を  こと 1 を  こ あつめた かず。

3 十のくらいが 2、一のくらいが 7 の かずは


4 十のくらいが 5、一のくらいが 1 の かずは

5 80 の 十のくらいの すうじは、

一のくらいの すうじは、

6 29 の 十のくらいの すうじは、

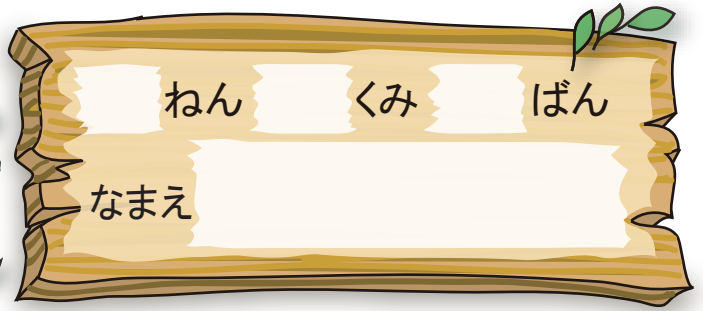
一のくらいの すうじは、





20よりおおきいかず

99より おおきいかず



いくつありますか。すうじでかきましょう。

1

2

3


10の まとまりで  
かぞえると いいよ。





20よりおおきいかず

# かずの ならびかた①




1 あいている □ にあう かずを かきましよう。

0	1	2	3	4	5		7	8	9
10	11	12	13	14	15		17	18	19
20	21	22	23	24	25		27	28	29
30	31	32	33	34	35		37	38	39
40	41	42	43	44	45		47	48	49
50	51	52	53	54	55		57	58	59
60	61	62	63	64	65		67	68	69
80	81	82	83	84	85		87	88	89
90	91	92	93	94	95		97	98	99
100									

2 一のくらいが 2 のかず に いろをぬりましよう。


3 十のくらいが 3 のかず に いろをぬりましよう。





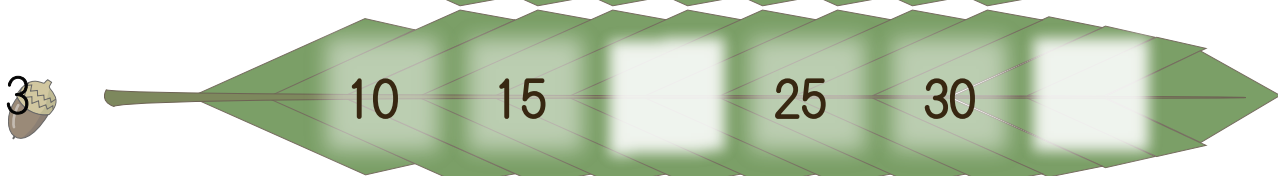
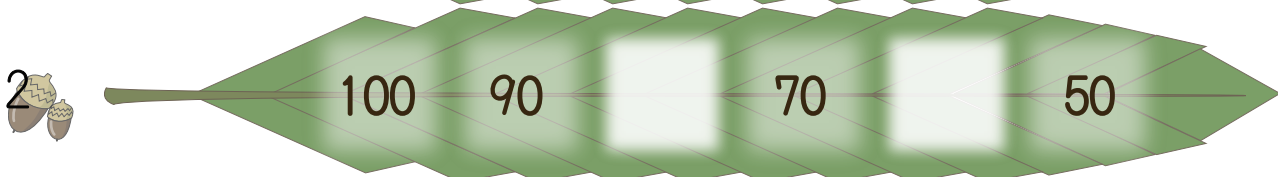
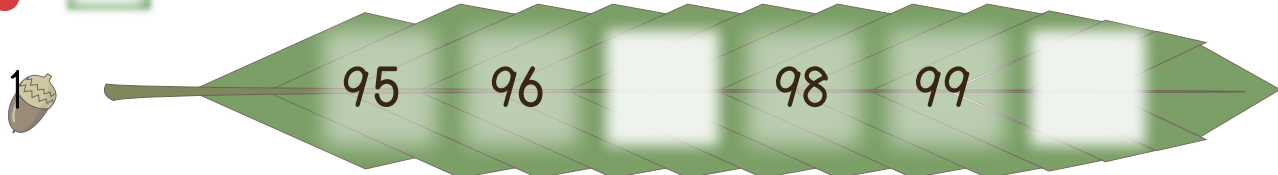




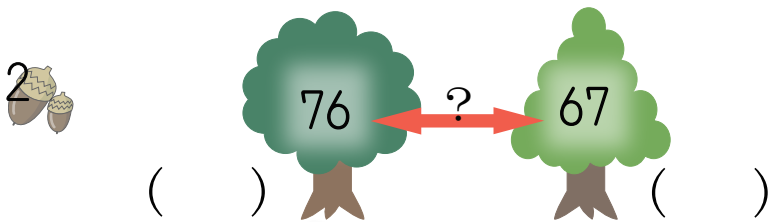
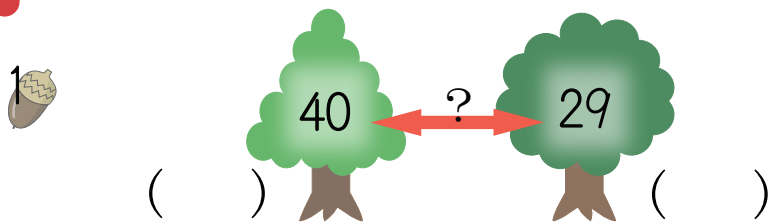
20よりおおきいかず  
かずの ならびかた②





1 □ に あてはまる かずを かきましょう。



2 おおきいほうに ○ を つけましょう。




どっちが  
おおきいかな？





20よりおおきいかず  
かずの ならびかた③




にあてはまる かずを かきましょう。



10 が 10 こで  です。

もんだいを  
よく よんでね。



100 は 99 より  おおきい かず です。



79 より 1 おおきい かずは  です。





68 より 4 おおきい かずは  です。



80 より 4 おおきい かずは  です。




100 より 2 ちいさい かずは  です。





20よりおおきいかず

100より おおきい かず



にあてはまる かずを かきましょう。


①  — 99 —  — 101 —

② 118 — 119 —  — 121 —

③  —  — 111 —  — 113

④ 100が 5つで  です。


⑤ 100が 1つと 1が3つで  です。





20よりおおきいかず

たしざん と ひきざん①



けいさんを しましょう。

1  $10 + 30 =$

2  $40 + 20 =$

3  $30 + 50 =$

4  $40 + 60 =$

5  $20 + 80 =$


6  $50 - 20 =$

7  $70 - 30 =$

8  $90 - 40 =$

9  $100 - 30 =$

10  $100 - 70 =$



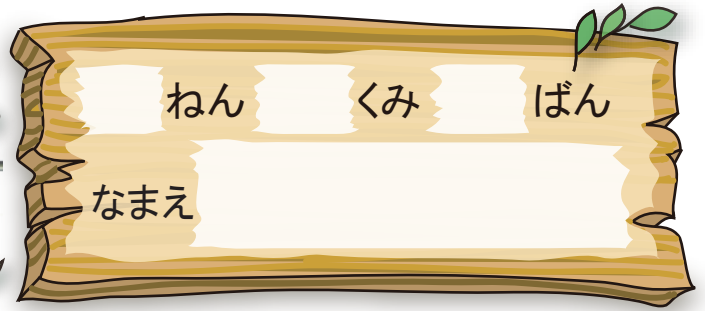
30えんは 10えんだまが  
3こ なんだね。





20よりおおきいかず

たしざん と ひきざん②



🐾 けいざんを しましよう。

1  $40 + 6 = \square$

2  $65 - 5 = \square$

3  $50 + 6 = \square$

4  $20 + 9 = \square$

5  $82 - 2 = \square$

6  $77 - 7 = \square$

7  $60 + 9 = \square$

8  $34 - 4 = \square$

9  $90 + 3 = \square$

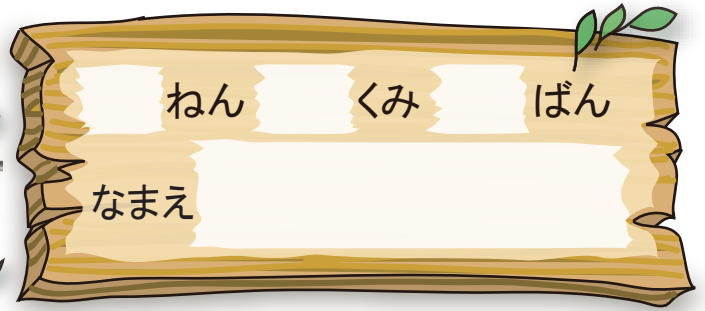
10  $53 - 3 = \square$





20よりおおきいかず

# たしざん と ひきざん③



けいざんを しましよう。

1  $58 - 3 = \square$

2  $25 + 3 = \square$

3  $58 - 4 = \square$

4  $39 - 4 = \square$

5  $95 + 2 = \square$

6  $43 + 4 = \square$

7  $37 - 4 = \square$

8  $85 + 3 = \square$

9  $74 + 3 = \square$


10  $77 - 2 = \square$






20よりおおきいかず


やってみよう①



70から 100まで じゆんに せんで むすびましょう。



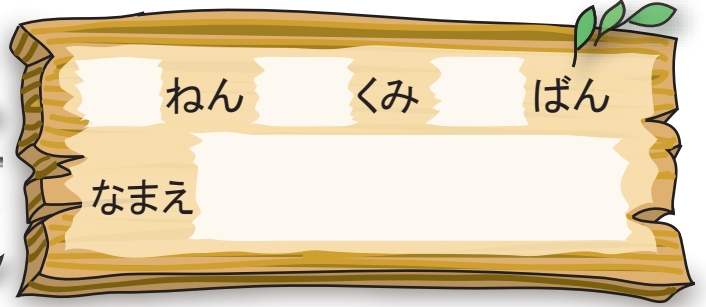
やまところろん





20よりおおきいかず

# やってみよう②



さいころを ふって すごろくを しましょう。

**スタート**

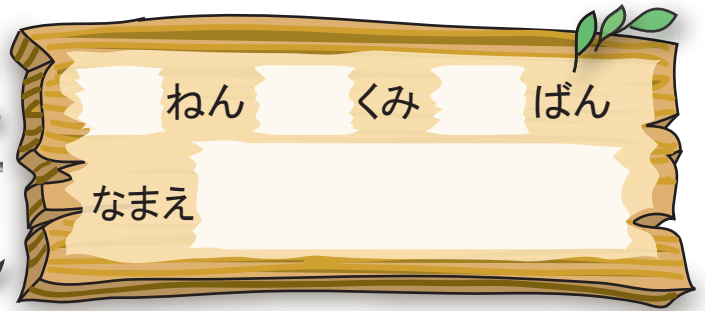
- 1: Start (Character with bird)
- 7: 4つすすむ (Character with pink hair)
- 19: 3つもどる (Character with pink hair)
- 37: 1かいやすみ (Character with wings)
- 61: 10すすむ (Blue character)
- 52: 10もどる (Character with wings)
- 45: 1かいやすみ (Character in pink flower)
- 73: 4つもどる (Character with wings)
- 79: 1かいやすみ (Blue character)
- 90: 3つもどる (Character with wings)
- 100: ゴール (Character in pink dress)





20より おおきいかず

やってみよう③



10えんだまが 7こ、したの ずの ように ならべて あります。  
このうち 2まいを うごかして、 たても よこも 50えんになるように  
しましょう。



10えんだまで  
やってみよう。



そんなこと  
できるの  
かなあ？



たてが30えん  
よこが50えんに  
なってるのを、  
たてもよこも  
50えんに  
するんだね。

