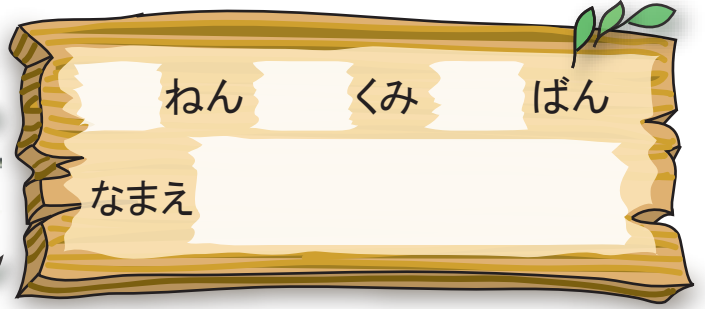


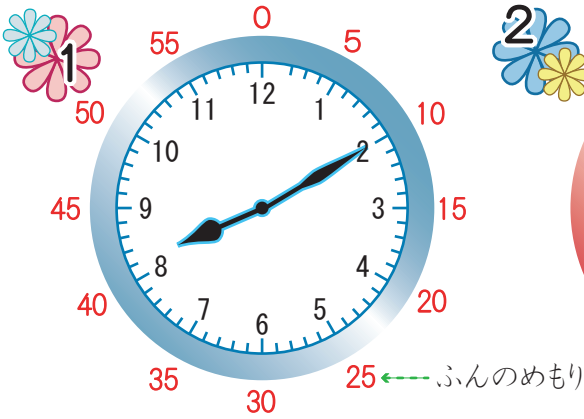


なんじなんぷん

なんじ なんぷん①




したの とけいを よみましょう。




8 じ 10 ぷん




1 じ 35 ぷん



9 じ 20 ぷん



3 じ 55 ぷん




11 じ 10 ぷん



7 じ 30 ぷん

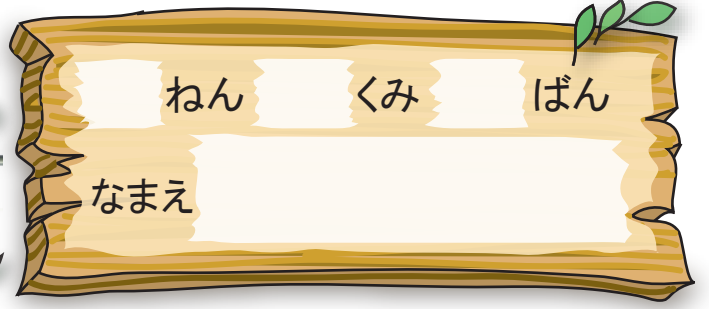
ながいはりと
みじかいはりを
まちがえないようにね。





なんじ なんぷん

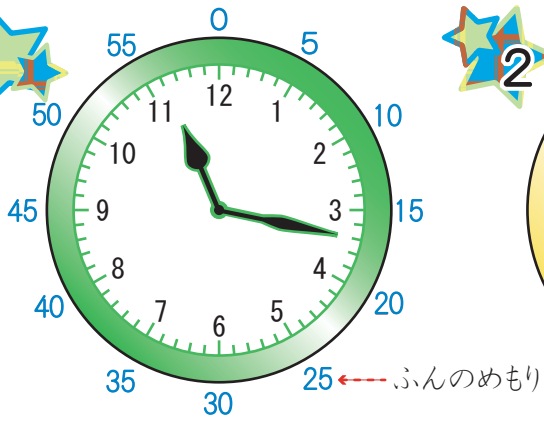
なんじ なんぷん②



ねん くみ ばん

なまえ


したの とけいを よみましょう。




11じ 17ふん



9じ 32ふん



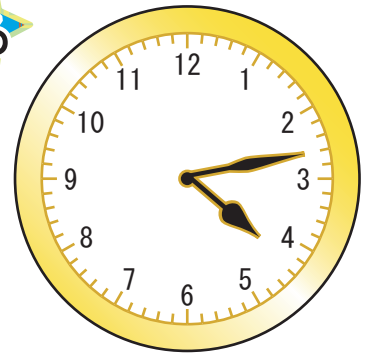
1じ 59ふん



8じ 2ふん



6じ 53ふん



4じ 13ふん

みじかいはりで「〇じ」をよんで、ながいはりで「〇ふん」をよむね。

