




ずをつかって かんがえよう

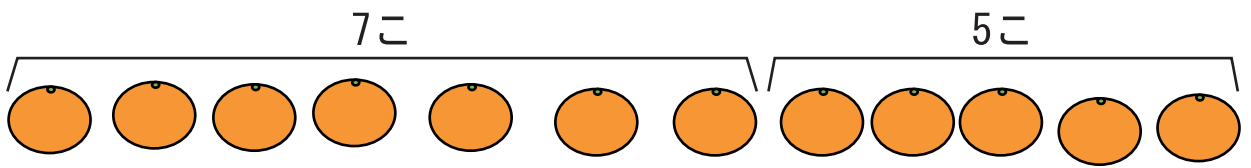
たしざん と ひきざん①



ねん くみ ばん

なまえ

1 みかんと 7こ たべて また5こ たべました。
ぜんぶで なんこ たべたでしょう。




しき

$$7 + 5 = 12$$

こたえ

12こ

2 11にんで あそんでいます。
そのなかで 5にん かえりました。
のこっているのは なんにんでしょう。

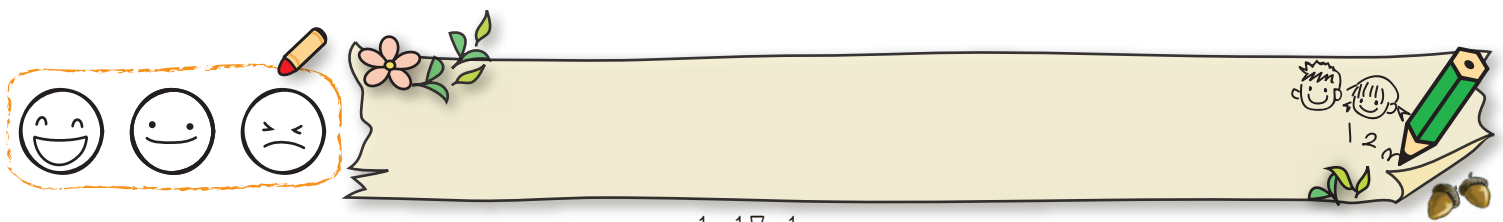


しき

$$11 - 5 = 6$$

こたえ


6にん



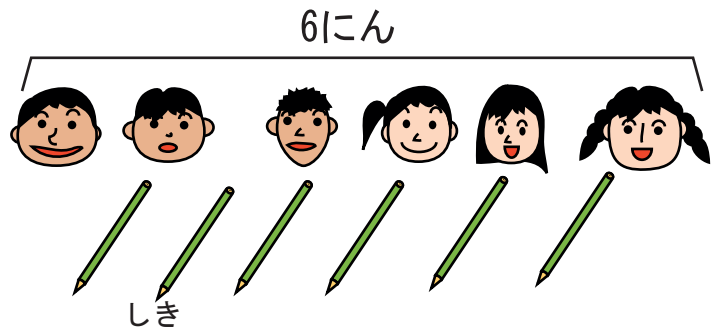


ずをつかって かんがえよう

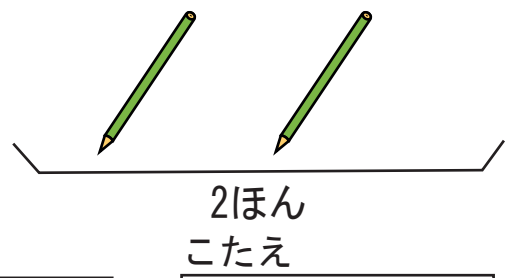
たしざん と ひきざん②



1 6にんが えんぴつを 1ぽんずつ もっています。
えんぴつは あと 2ほん あります。
えんぴつは ぜんぶで なんぼんでしょう。





$$6 + 2 = 8$$



$$8 \text{ほん}$$

2 りんごが 8こ あります。
5にんが 1こずつたべると なんこ のこるでしょう。




$$8 - 5 = 3$$

$$3 \text{こ}$$

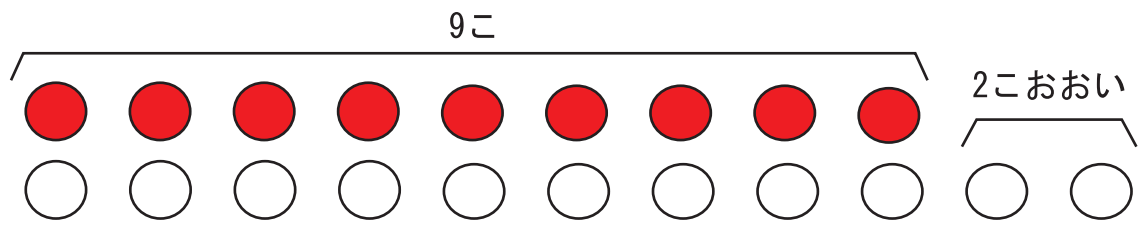




ずをつかって かんがえよう
たしざん と ひきざん③



1 たまいれで あかは9こ しろは あかより
2こ おおく いれました。
しろは なんこ いれたでしょう。




しき

$$9 + 2 = 11$$

こたえ

$$11こ$$

2 おとこのこが 8にんいます。
おんなのこは おとこのこより 3にんおおいです。
おんなのこは なんにん いるでしょう。




しき

$$8 + 3 = 11$$

こたえ


$$11にん$$





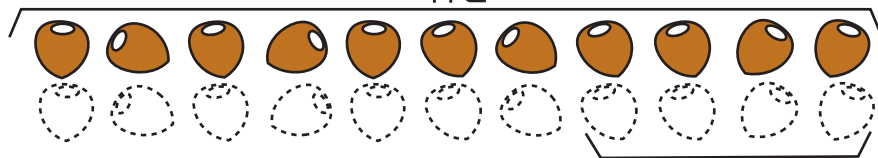
ずをつかって かんがえよう

たしざん と ひきざん④



1 あやさんは きのう どんぐりを 11こ ひろいました。
 きょうは きのうより 4こすくなく ひろいました。
 きょうは なんこ ひろったでしょう。

きのう



11こ

きょう

4こすくなく
こたえ

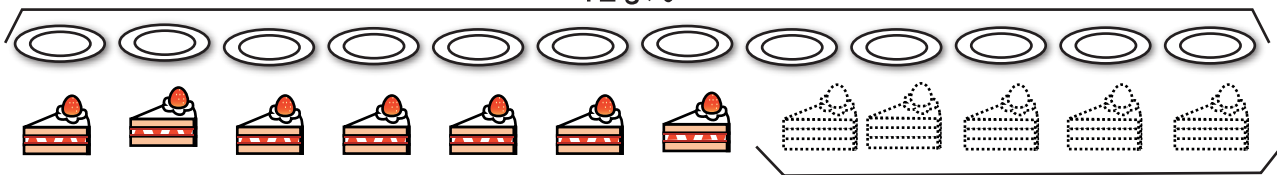
しき

$$11 - 4 = 7$$

$$7こ$$

2 おさらが 12まいあります。
 ケーキを ひとつずつ のせると ケーキは おさらより
 5こすくなくいです。
 ケーキは なんこあるでしょう。

12まい




すくなく
こたえ

しき


$$12 - 5 = 7$$

$$7こ$$





ずをつかって かんがえよう
たしざん と ひきざん⑤



- 1 すいそうに きんぎょが 8ぴきいます。
6ぴき ふえると なんびきに なるでしょう。



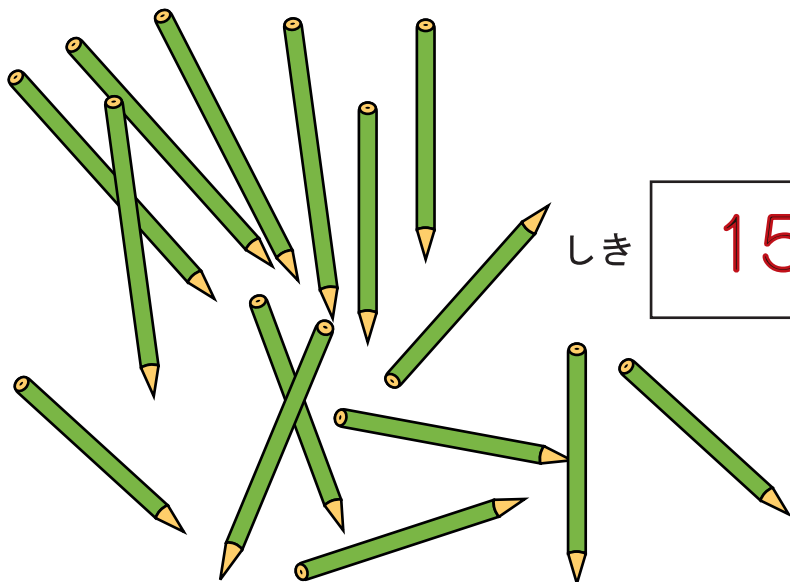
しき

$$8 + 6 = 14$$

こたえ

14ひき

- 2 えんぴつが 15ほん あります。
8にんに 1ぽんずつ くぼると、 なんぼん
のこるでしょう。



しき

$$15 - 8 = 7$$


こたえ

7ほん





ずをつかってかんがえよう
たしざん と ひきざん⑥



1 おとこのこが 8にん おんなのこが 6にん います。

① あわせて なんにん いるでしょう


しき $8 + 6 = 14$

こたえ 14にん

② どちらが なんにん おおいでしょう


しき $8 - 6 = 2$

こたえ おとこのこが ふたり おおい





ずをつかって かんがえよう
たしざん と ひきざん⑦



ちょっとむずかしいけど、がんばって!



1 こどもが 7つの いすに ひとりずつ すわり、
うしろに 8にん たちます。
こどもは みんなで なんにんでしょう。



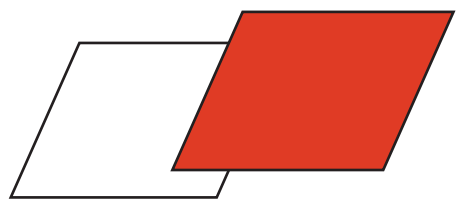
しき

$$7 + 8 = 15$$

こたえ

$$15 \text{にん}$$

2 あかと しろの いろがみが あわせて 14まい
あります。
そのうち しろは 8まいです。
あかは なんまいでしょうか。




しき

$$14 - 8 = 6$$


こたえ

$$6 \text{まい}$$





ずをつかって かんがえよう
たしざん と ひきざん⑧



ちょっと むずかしいけど、がんばって!



1 7にんが おにぎりを 1にずつ たべると
5こ あまります。
おにぎりは ぜんぶで なんこありますか。




しき

$$7 + 5 = 12$$

こたえ

$$12こ$$

2 バスでいに ひとが ならんでいます。
みずべーのまえに 3にんいます。
みずべーのうしろに 5にんいます。
ぜんぶでなんにん ならんでいますか。



しき

$$3 + 1 + 5 = 9$$

こたえ

$$9にん$$

