




ずをつかって かんがえよう

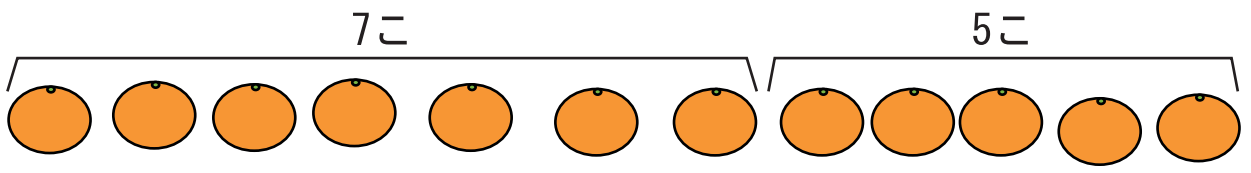
たしざん と ひきざん①



ねん くみ ばん

なまえ


1 みかんと 7こたべて また5こ たべました。
ぜんぶで なんこ たべたでしょう。



しき

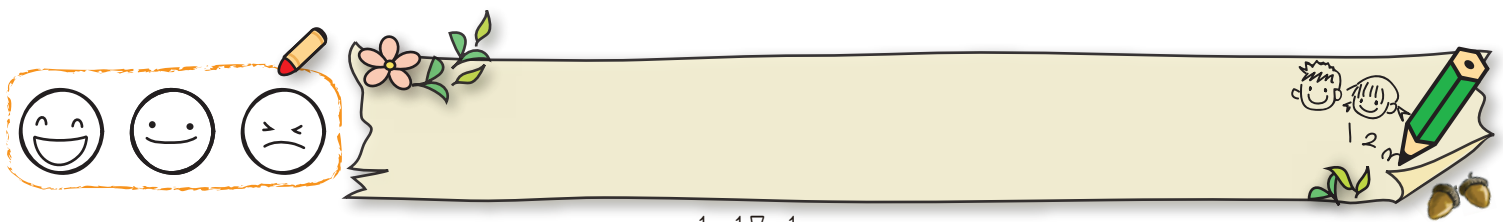
こたえ

2 11にんで あそんでいます。
そのなかで 5にん かえりました。
のこっているのは なんにんでしょう。



しき


こたえ



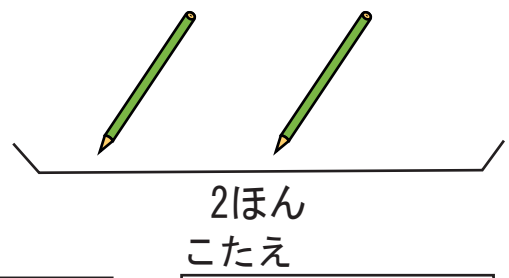
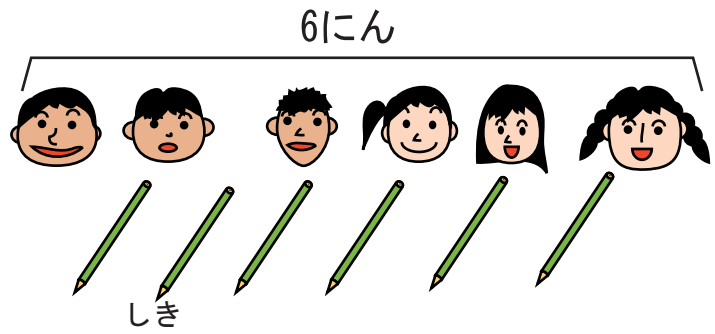


ずをつかって かんがえよう



たしざん と ひきざん②




1 6にんが えんぴつを 1ぽんずつ もっています。
えんぴつは あと 2ほん あります。
えんぴつは ぜんぶで なんぼんでしょう。




2 りんごが 8こ あります。
5にんが 1こずつたべると なんこ のこるでしょう。



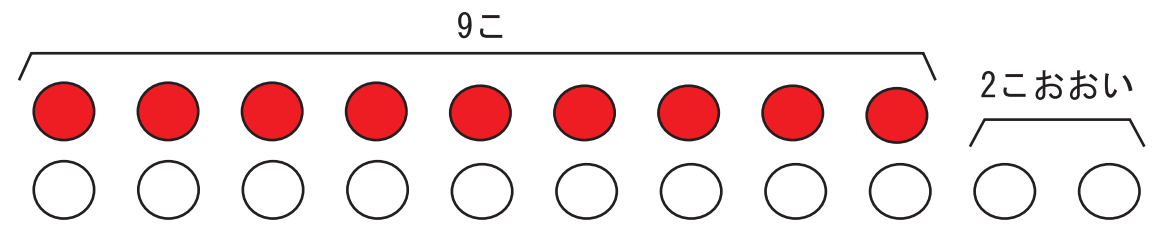




ずをつかって かんがえよう
たしざん と ひきざん③




1 たまいれで あかは 9こ しろは あかより
 2こ おおく いれました。
 しろは なんこ いれたでしょう。



しき

こたえ

2 おとこのこが 8にんいます。
 おんなのこは おとこのこより 3にんおおいです。
 おんなのこは なんにん いるでしょう。



しき


こたえ





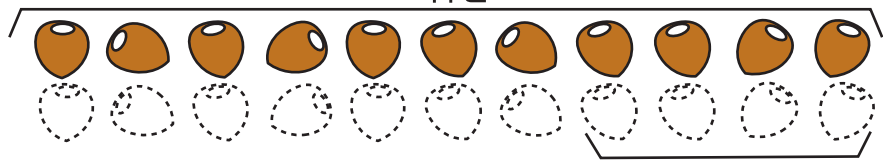
ずをつかって かんがえよう

たしざん と ひきざん④



1 あやさんは きのう どんぐりを 11こ ひろいました。
 きょうは きのうより 4こすくなく ひろいました。
 きょうは なんこ ひろったでしょう。

きのう



11こ

きょう

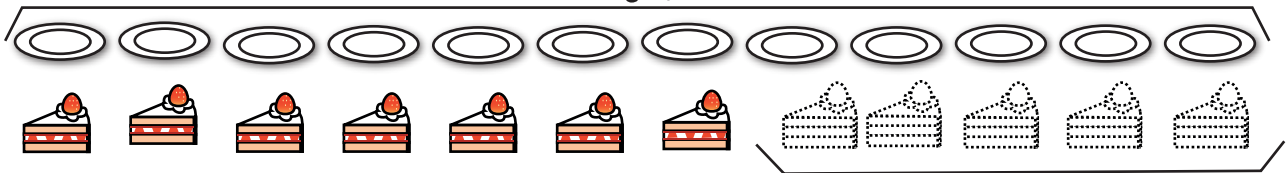
4こすくない

こたえ

しき

2 おさがが 12まいあります。
 ケーキを ひとつずつ のせると ケーキは おさがより
 5こすくないです。
 ケーキは なんこあるでしょう。

12まい



すくない


こたえ

しき





ずをつかって かんがえよう
たしざん と ひきざん⑤



ねん くみ ばん

なまえ

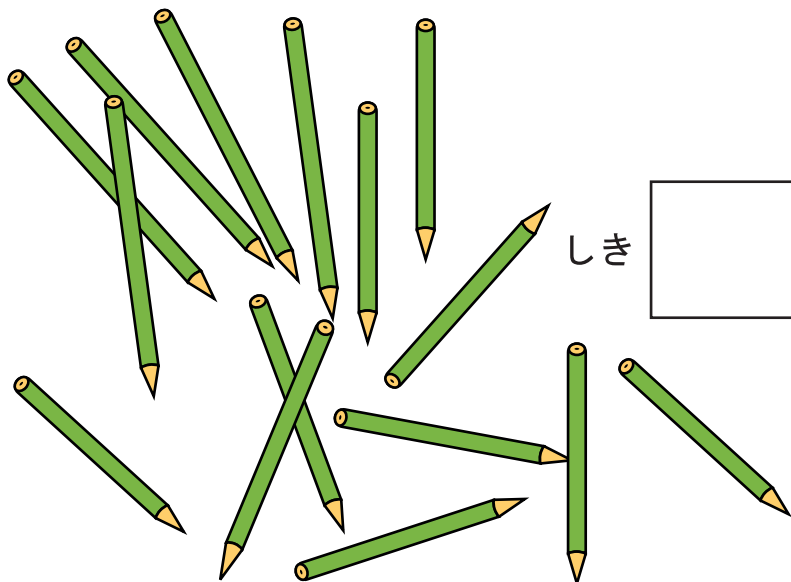
1 すいそうに きんぎょが 8ぴきいます。
6ぴき ふえると なんびきに なるでしょう。



しき


こたえ

2 えんぴつが 15ほん あります。
8にんに 1ぽんずつ くばると、 なんぼん
のこるでしょう。




しき

こたえ





ずをつかってかんがえよう
たしざんとひきざん⑥



1 おとこのこが 8 にん おんなのこが 6 にん います。

① あわせて なんにん いるでしょう

しき

こたえ



② どちらが なんにん おおいでしょう

しき

こたえ


が

おおい





ずをつかって かんがえよう
たしざん と ひきざん⑦



ちょっとむずかしいけど、がんばって!



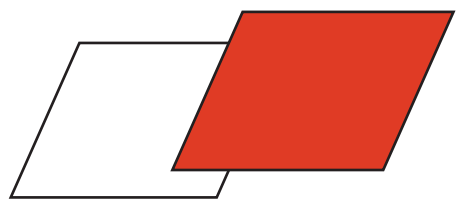
1 こどもが 7つの いすに ひとりずつ すわり、
うしろに 8にん たちます。
こどもは みんなで なんにんでしょう。



しき

こたえ

2 あかと しろの いろがみが あわせて 14まい
あります。
そのうち しろは 8まいです。
あかは なんまいでしょうか。




しき

こたえ






ずをつかって かんがえよう
 たしざん と ひきざん⑧



ちょっと むずかしいけど、がんばって!




1 7にんが おにぎりを 1にずつ たべると
 5こ あまります。
 おにぎりは ぜんぶで なんこありますか。



しき

こたえ

2 バスでいに ひとが ならんでいます。
 みずべーのまえに 3にんいます。
 みずべーのうしろに 5にんいます。
 ぜんぶでなんにん ならんでいますか。



しき

こたえ

