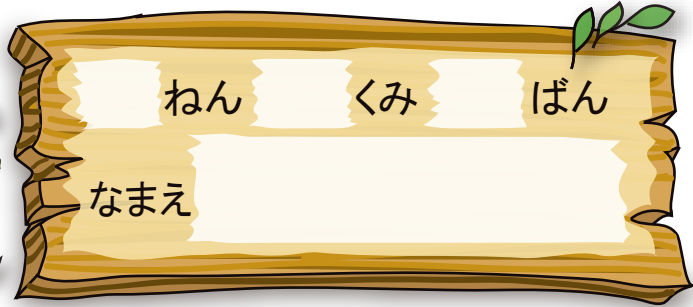





あわせていくつ ふえるといくつ


# あわせていくつ①



1 あわせると いくつに なりますか。




あわせて 3 こ



ぜんぶで 4 ほん



2 あわせると なんだいに なりますか。



あわせて

$$3 + 2 = \text{5}$$


こたえ 5 だい






あわせていくつ ふえるといくつ

# あわせていくつ②



しきと こたえをかきましょう。

1




あわせて

$$2 + \boxed{1} = \boxed{3}$$

こたえ  $\boxed{3}$  びき

2




ぜんぶで

$$\boxed{1} + \boxed{3} = \boxed{4}$$

こたえ  $\boxed{4}$  つ



3



みんなで

$$\boxed{2 + 3 = 5}$$


こたえ  $\boxed{5}$  ひき






あわせていくつ ふえるといくつ

# ふえると いくつ①




1 ふえると いくつに なりますか。



1 ぴき ふえると

4

ひき





2 こ ふえると

3

こ

2 あわせると いくつに なりますか。

3 つ ふえると




$$4 + 3 = 7$$

こたえ

7

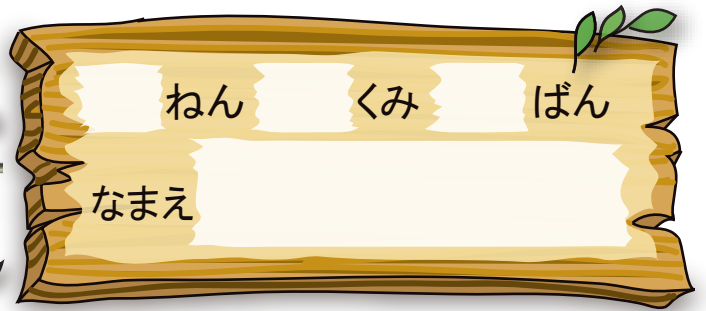
つ





あわせていくつ ふえるといくつ


# ふえると いくつ②



しきと こたえを かきましょう。




2だい  
くると



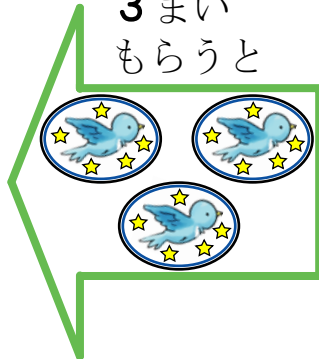
しき

$$5 + \boxed{2} = \boxed{7}$$

こたえ 7 だい



3まい  
もらうと



しき

$$\boxed{6} + \boxed{3} = \boxed{9}$$

こたえ 9 まい





4ひき  
くると



しき

$$\boxed{3 + 4 = 7}$$


こたえ 7 ひき





あわせていくつ ふえるといくつ

# たしざん①



たしざんを しましょう。

1  $7 + 2 = 9$

2  $1 + 6 = 7$

3  $6 + 2 = 8$

4  $4 + 4 = 8$

5  $2 + 5 = 7$



6  $3 + 5 = 8$

7  $2 + 2 = 4$

8  $4 + 3 = 7$

9  $5 + 2 = 7$

10  $3 + 6 = 9$








あわせていくつ ふえるといくつ

# たしざん②



たしざんを しましょう。

1  $1 + 1 = 2$

2  $8 + 1 = 9$

3  $1 + 6 = 7$

4  $2 + 3 = 5$

5  $5 + 1 = 6$

6  $6 + 3 = 9$


7  $1 + 7 = 8$

8  $3 + 3 = 6$

9  $4 + 5 = 9$

10  $5 + 5 = 10$


やってみよう。





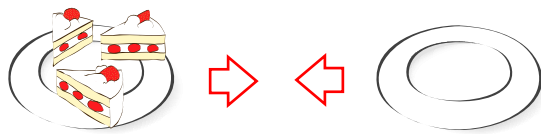
あわせていくつ ふえるといくつ

# まとめ①



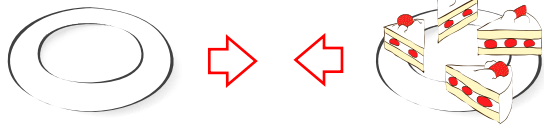
1 あわせると いくつでしょう。

①



$$3 + 0 = \boxed{3}$$

②



$$\boxed{0} + 4 = \boxed{4}$$

2 たしざんを しましょう。

①  $7 + 0 = \boxed{7}$



②  $5 + 0 = \boxed{5}$

③  $0 + 6 = \boxed{6}$

④  $8 + 0 = \boxed{8}$

⑤  $0 + 0 = \boxed{0}$

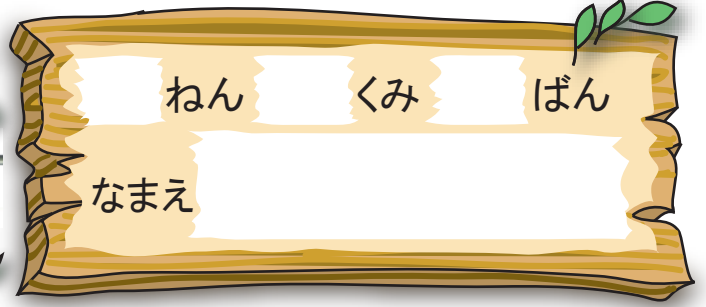
⑥  $9 + 0 = \boxed{9}$





あわせていくつ ふえるといくつ

## まとめ②



1 しきにかいてこたえましょう。

すずめが 5わいます。そこへ2わとんできました。  
すずめは みんなで なんわに なったでしょう。



しき

$$5 + 2 = 7$$

こたえ

7

わ

2 たしざんを しましょう。

①  $5 + 4 = 9$


②  $4 + 6 = 10$

③  $9 + 1 = 10$

④  $4 + 3 = 7$

⑤  $2 + 0 = 2$

⑥  $3 + 2 = 5$

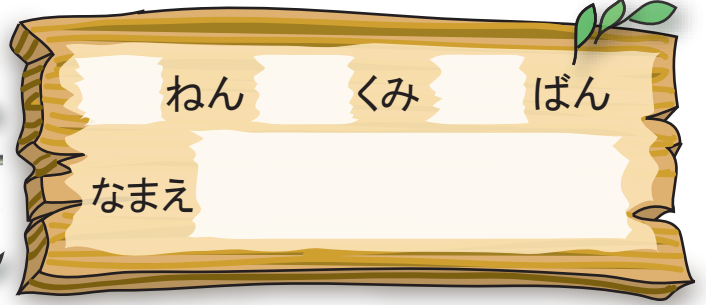






あわせていくつ ふえるといくつ

### まとめ③



1 しきにかいて こたえましょう。

あめを 4こもっています。 おともだちは 5こもっています。  
あわせて なんこに なるでしょう。



しき

$$4 + 5 = 9$$

こたえ

9

こ

2 たしざんを しましょう。

①  $2 + 5 = 7$

②  $6 + 3 = 9$

③  $0 + 6 = 6$

④  $4 + 4 = 8$

⑤  $5 + 5 = 10$


⑥  $8 + 2 = 10$





あわせていくつ ふえるといくつ

# やってみよう



たしざんをして いろをぬりましょう。

こたえが 2→ちやいろ 4→あか 6→きいろ

8→あお 9→みどり

