





あわせていくつ ふえるといくつ


あわせていくつ①



1 あわせると いくつに なりますか。




あわせて こ





ぜんぶで ほん

2 あわせると なんだいに なりますか。



あわせて
 $3 + 2 =$


こたえ だい






あわせていくつ ふえるといくつ

あわせていくつ②



しきと こたえをかきましょう。

1




あわせて

$$2 + \square = \square$$

こたえ びき

2




ぜんぶで

$$\square + \square = \square$$



こたえ つ

3



みんなで


こたえ ひき






あわせていくつ ふえるといくつ

ふえるといくつ①




1 ふえるといくつになりますか。



1 ぴき ふえると

ひき




2 こ ふえると

こ

2 あわせるといくつになりますか。


3 つ ふえると



4 + 3 =

こたえ

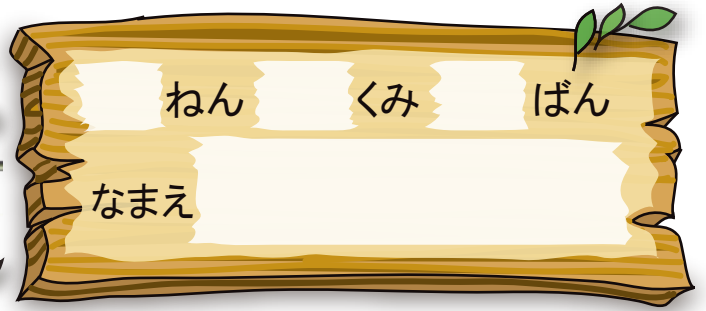
つ





あわせていくつ ふえるといくつ


ふえると いくつ②



しきと こたえをかきましょう。



2だい
くると




しき

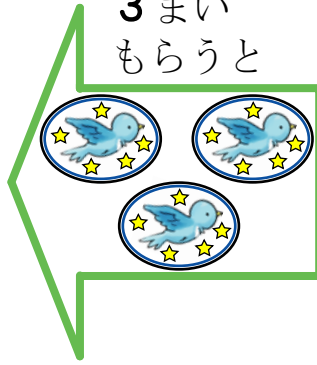
$$5 + \square = \square$$

こたえ

だい



3まい
もらうと



しき

$$\square + \square = \square$$

こたえ

まい



4ひき
くると





しき

$$\square + \square = \square$$

こたえ


ひき





あわせていくつ ふえるといくつ

たしざん①



たしざんを しましょう。

1 $7 + 2 = \square$

2 $1 + 6 = \square$

3 $6 + 2 = \square$

4 $4 + 4 = \square$

5 $2 + 5 = \square$



6 $3 + 5 = \square$

7 $2 + 2 = \square$

8 $4 + 3 = \square$

9 $5 + 2 = \square$

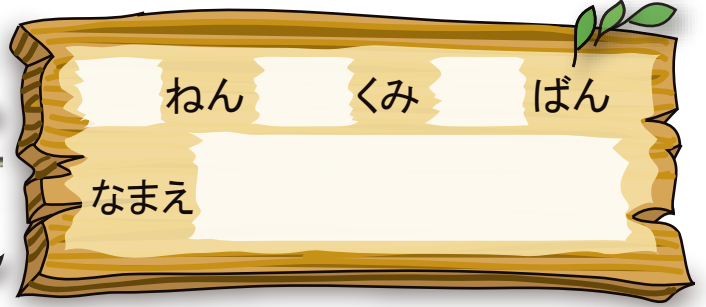
10 $3 + 6 = \square$





あわせていくつ ふえるといくつ

たしざん②



たしざんを しましょう。

1 $1 + 1 = \square$

2 $8 + 1 = \square$

3 $1 + 6 = \square$

4 $2 + 3 = \square$

5 $5 + 1 = \square$

6 $6 + 3 = \square$



7 $1 + 7 = \square$

8 $3 + 3 = \square$

9 $4 + 5 = \square$

10 $5 + 5 = \square$


やってみよう。





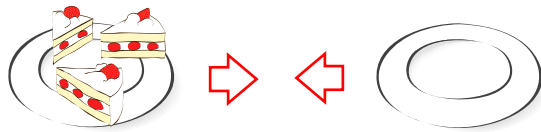
あわせていくつ ふえるといくつ

まとめ①



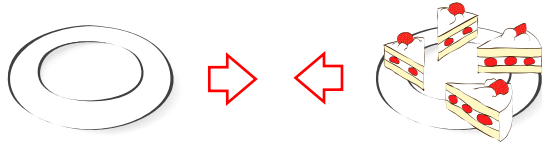
1 あわせると いくつでしょう。

①



$$3 + 0 = \square$$

②



$$\square + 4 = \square$$

2 たしざんを しましょう。

① $7 + 0 = \square$


② $5 + 0 = \square$

③ $0 + 6 = \square$

④ $8 + 0 = \square$

⑤ $0 + 0 = \square$

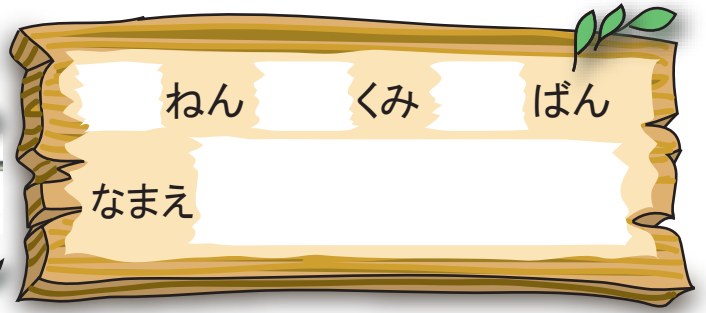
⑥ $9 + 0 = \square$





あわせていくつ ふえるといくつ

まとめ②



ねん くみ ばん

なまえ

1 しきにかいてこたえましょう。

すずめが 5わいます。そこへ2わとんできました。
すずめは みんなで なんわに なったでしょう。



しき

こたえ

わ

2 たしざんをしましょう。

① $5 + 4 = \square$

② $4 + 6 = \square$

③ $9 + 1 = \square$

④ $4 + 3 = \square$

⑤ $2 + 0 = \square$

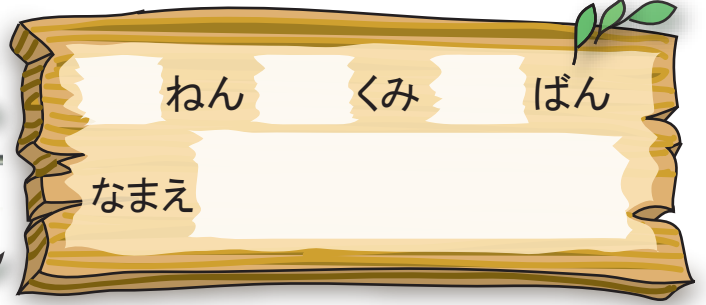
⑥ $3 + 2 = \square$





あわせていくつ ふえるといくつ

まとめ③



1 しきにかいて きたえましょう。

あめを 4こもっています。 おともだちは 5こもっています。
あわせて なんこに なるでしょう。



しき

きたえ

こ

2 たしざんを しましょう。

① $2 + 5 = \square$


② $6 + 3 = \square$

③ $0 + 6 = \square$

④ $4 + 4 = \square$

⑤ $5 + 5 = \square$

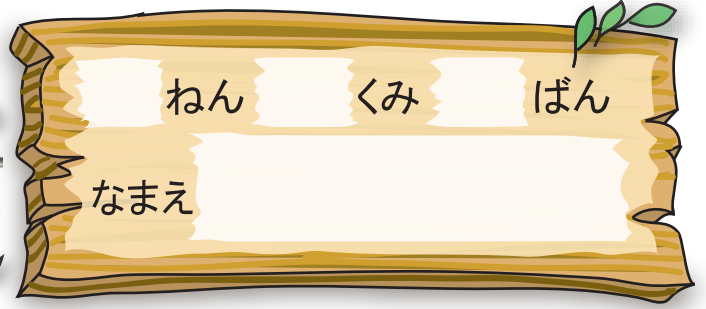
⑥ $8 + 2 = \square$





あわせていくつ ふえるといくつ

やってみよう



ねん

くみ

ばん

なまえ



たしざんをして いろをぬりましょう。

こたえが 2→ちやいろ 4→あか 6→きいろ

8→あお 9→みどり

