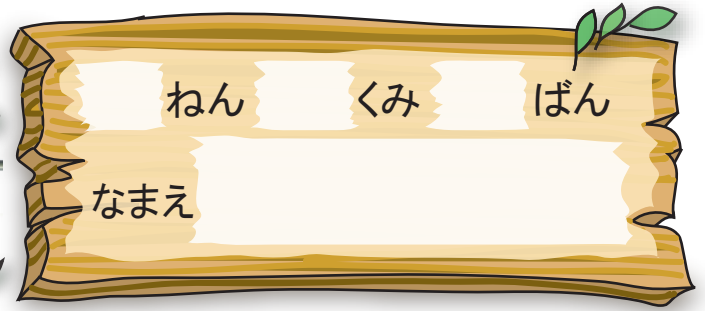




のこりはいくつ ちがいはいくつ

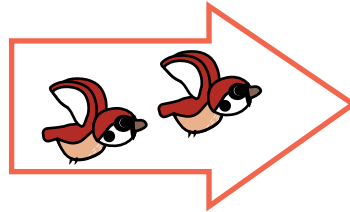
のこりは いくつ①



1 のこりは いくつでしょう。



4わ います

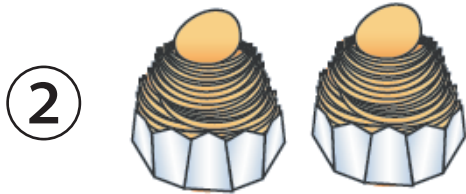


2わ とんでいくと

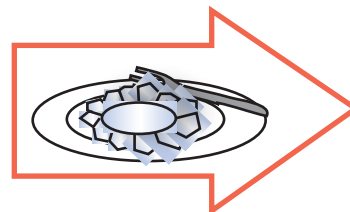
のこりは

2

わ



2こ あります



1こ たべると

のこりは


1

こ

2 しきに かきましよう。



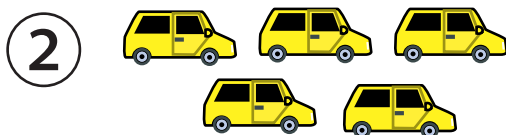
おりがみが 6まい あります
3まい あげると




のこりは

$$\boxed{6} - \boxed{3} = \boxed{3}$$

こたえ **3** まい




くるまが 5だい あります
1だい でていくと



のこりは

$$\boxed{5} - \boxed{1} = \boxed{4}$$


こたえ **4** だい






のこりはいくつ ちがいはいくつ

のこりは いくつ②



1 しきに かいて こたえましょう。
 てんとうむしが 6ぴき います。
 1ぴき とんでいくと のこりは なんぴきで
 しょうか。



しき

$$6 - 1 = 5$$

こたえ

5


ひき

2 ひきざんを しましょう。

① $9 - 7 = 2$ ② $8 - 7 = 1$

③ $10 - 4 = 6$ ④ $9 - 8 = 1$

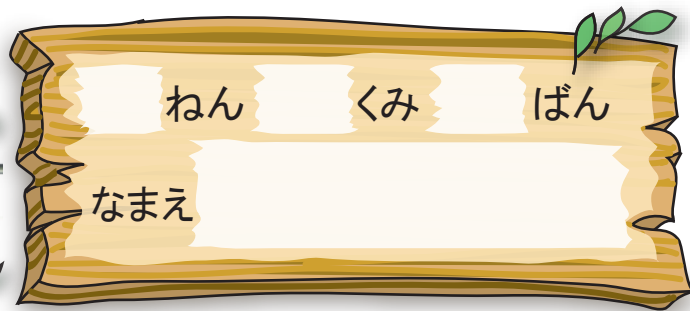
⑤ $6 - 2 = 4$ ⑥ $5 - 2 = 3$






のこりはいくつ ちがいはいくつ

ひきざん①



 ひきざんを しましょう。

① $6 - 1 = 5$ ② $8 - 6 = 2$

③ $4 - 2 = 2$ ④ $3 - 2 = 1$

⑤ $8 - 2 = 6$ ⑥ $9 - 5 = 4$

⑦ $5 - 4 = 1$ ⑧ $7 - 4 = 3$

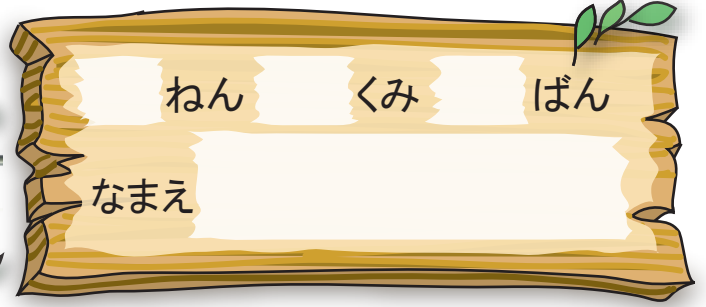
⑨ $10 - 5 = 5$ ⑩ $7 - 2 = 5$





のこりはいくつ ちがいはいくつ

ひきざん②



1 ひきざんを しましょう。

① $10 - 7 = 3$ ② $8 - 6 = 2$

③ $5 - 2 = 3$ ④ $4 - 1 = 3$

2 ひきざんをして こたえが おなじに なるものを せんでむすびましょう。

$6 - 1$


$4 - 2$

$3 - 2$

$9 - 8$

$7 - 2$

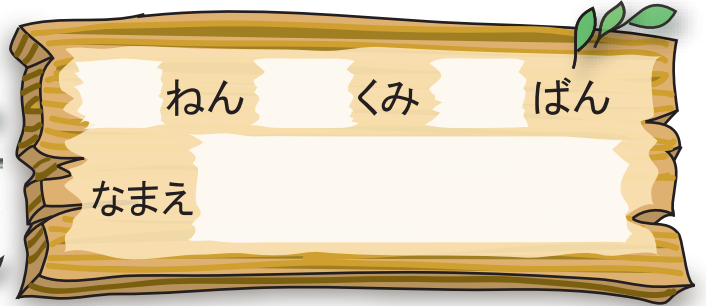
$10 - 8$






のこりはいくつ ちがいはいくつ

ひきざん③




1 しきにかいて ことえましょう。




のこりは

$$4 - 1 = 3$$



のこりは

$$4 - 4 = 0$$



のこりは

$$4 - 0 = 4$$

2 ひきざんを しましょう。

① $6 - 6 = 0$

② $3 - 3 = 0$

③ $7 - 0 = 7$

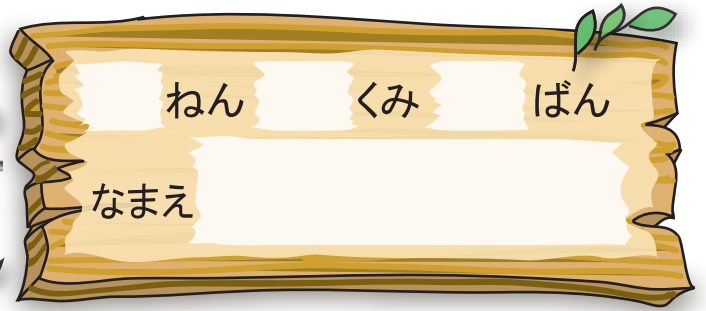
④ $0 - 0 = 0$





のこりはいくつ ちがいはいくつ

ひきざん④



ひきざんを しましょう。

① $9 - 9 = 0$

② $10 - 6 = 4$

③ $7 - 4 = 3$

④ $8 - 4 = 4$

⑤ $3 - 1 = 2$


⑥ $5 - 3 = 2$

⑦ $9 - 7 = 2$

⑧ $5 - 0 = 5$

⑨ $10 - 7 = 3$

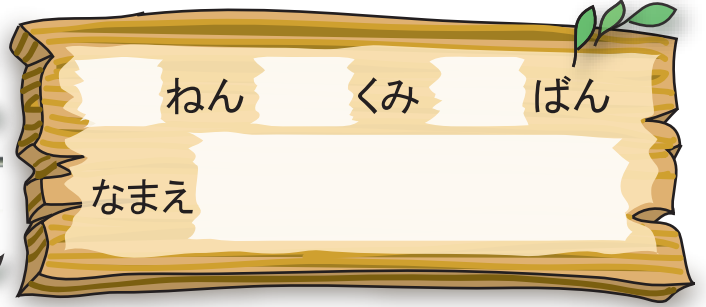
⑩ $10 - 2 = 8$




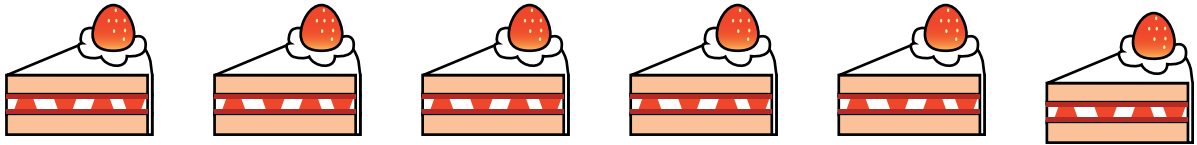


のこりはいくつ ちがいはいくつ

ちがいは いくつ①




1. けえきは こどもより いくつ おおいでしょう。



しき $6 - 4 =$


こたえ こ

2. いちごは みかんより なんこ おおいでしょう。



しき $7 - 3 =$

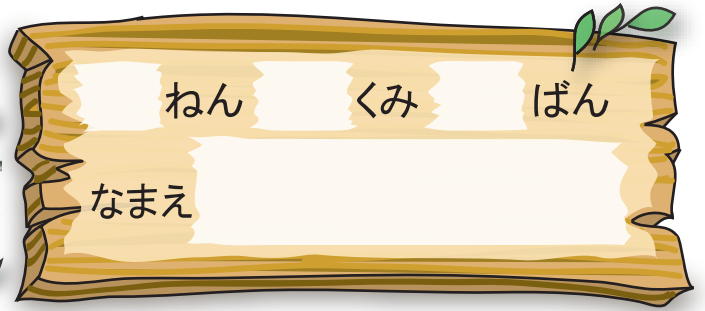
こたえ こ






のこりはいくつ ちがいはいくつ

ちがいは いくつ②



ちがいは いくつに なるでしょう。

1



しき

$$5 - 3 = 2$$

こたえ

$$2こ$$

2



しき

$$4 - 2 = 2$$

こたえ

$$2こ$$

3




しき

$$9 - 3 = 6$$

こたえ


$$6こ$$





のこりはいくつ ちがいはいくつ

ちがいは いくつ③



1 りんごが 7こ ありました。
2こ たべたら のこりは なんこでしょう。




しき

$$7 - 2 = 5$$

こたえ

$$5こ$$

2 いぬが 6びき ねこが 3びき います。
どちらが なんびき おおいでしょう。



しき

$$6 - 3 = 3$$

こたえ

いぬ

が

3

びき

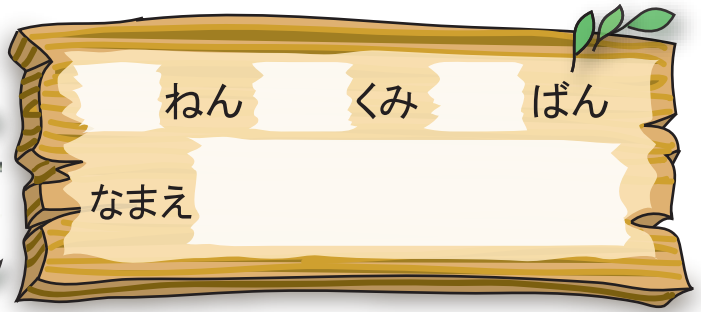
おおい





のこりはいくつ ちがいはいくつ

やってみよう



さいしよに ぜんぶ けいさんを しましょう。
 おわったら **スタート** から こたえが 3になる
 ほうへ すすみましょう。

