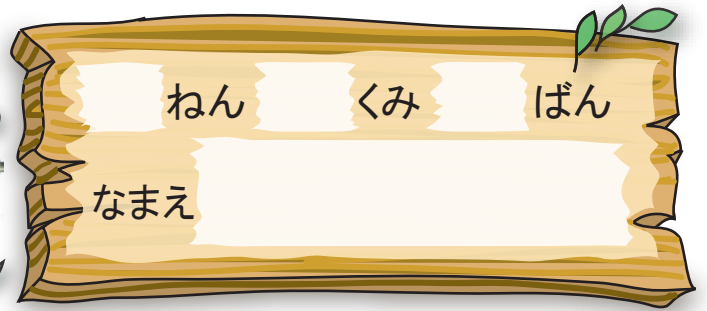




10よりおおきいかず

10よりおおきいかず①



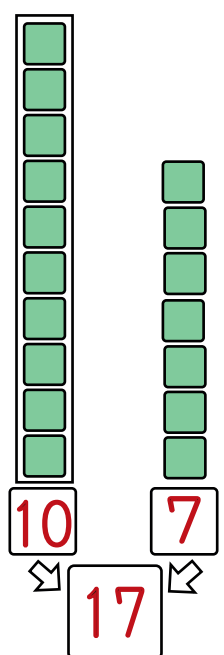
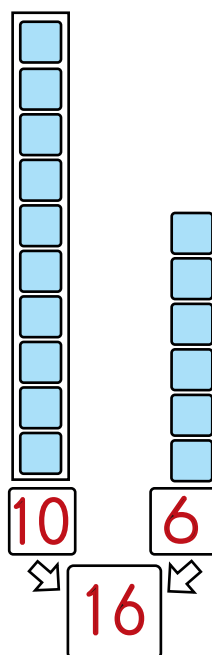
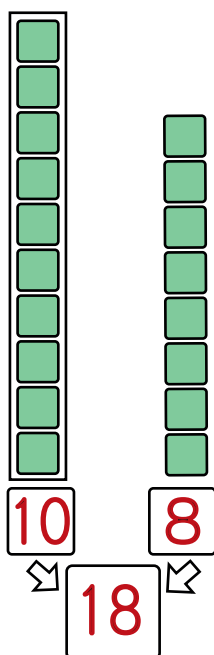
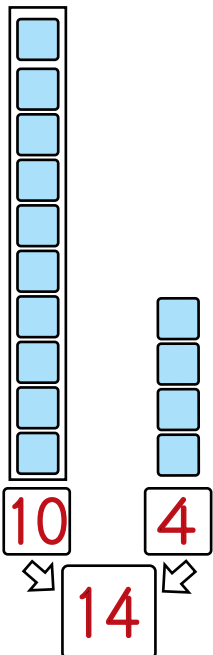
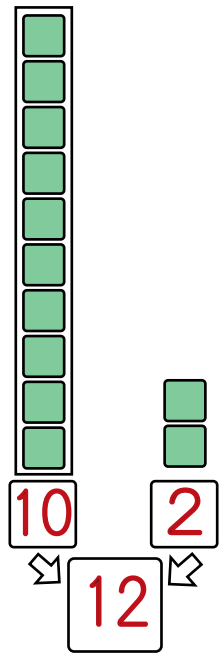
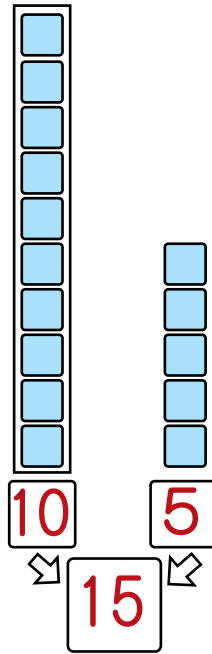
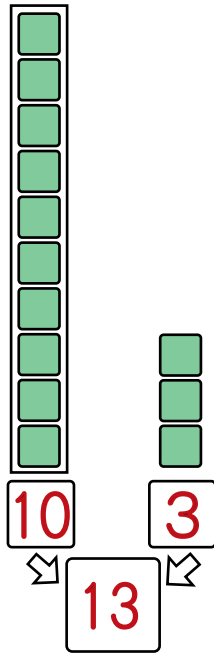
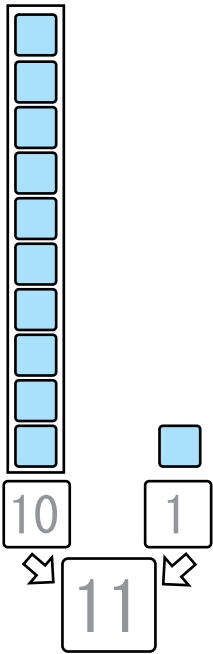
ねん

くみ

ばん

なまえ

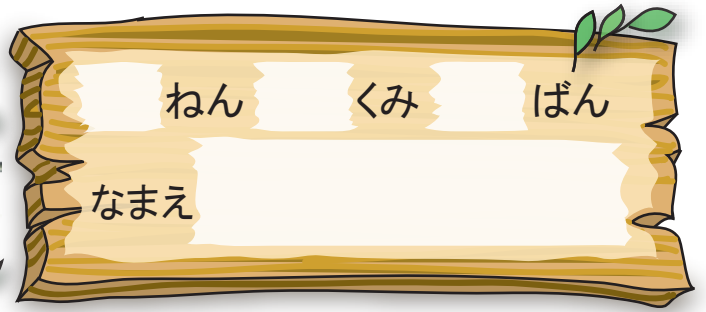
🍏 タイルを かぞえて □ の なかに かずを かきましょう。



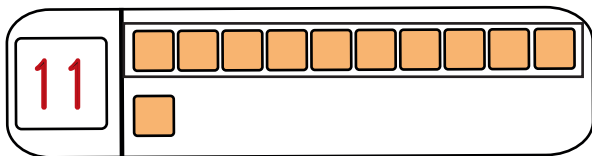
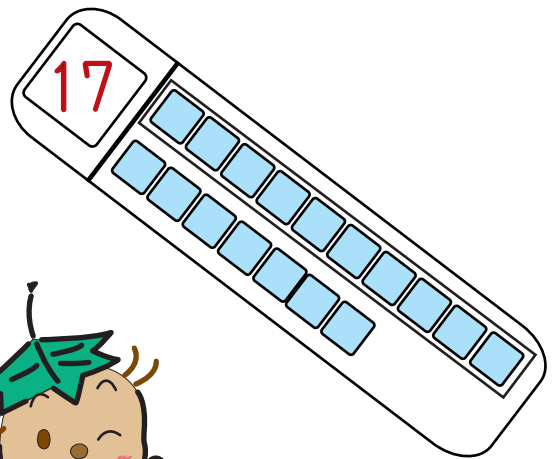
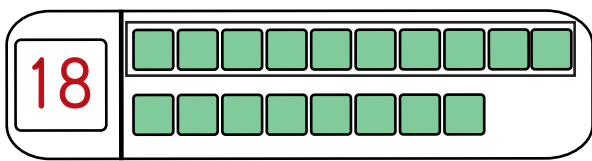
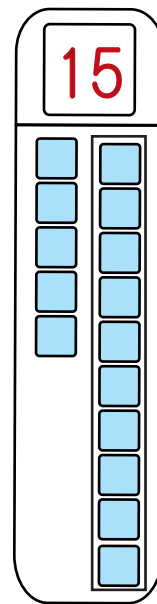
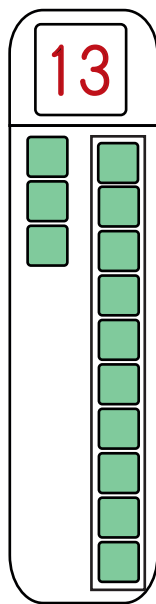
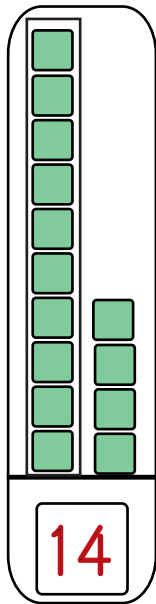
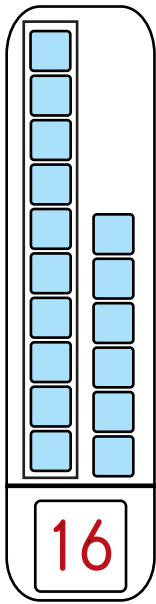


10よりおおきいかず

10よりおおきいかず②




たいるを かぞえて □の なかに かずを かきましょう。





10よりおおきいかず

10よりおおきいかず③



10こ かぞえて せんで かこみます。  
あわせて いくつ になる でしょう。

16

12

20

17

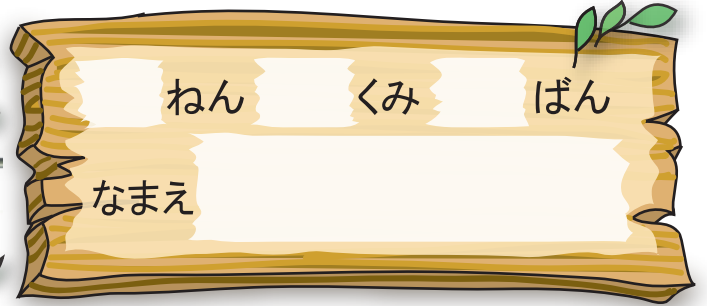
13



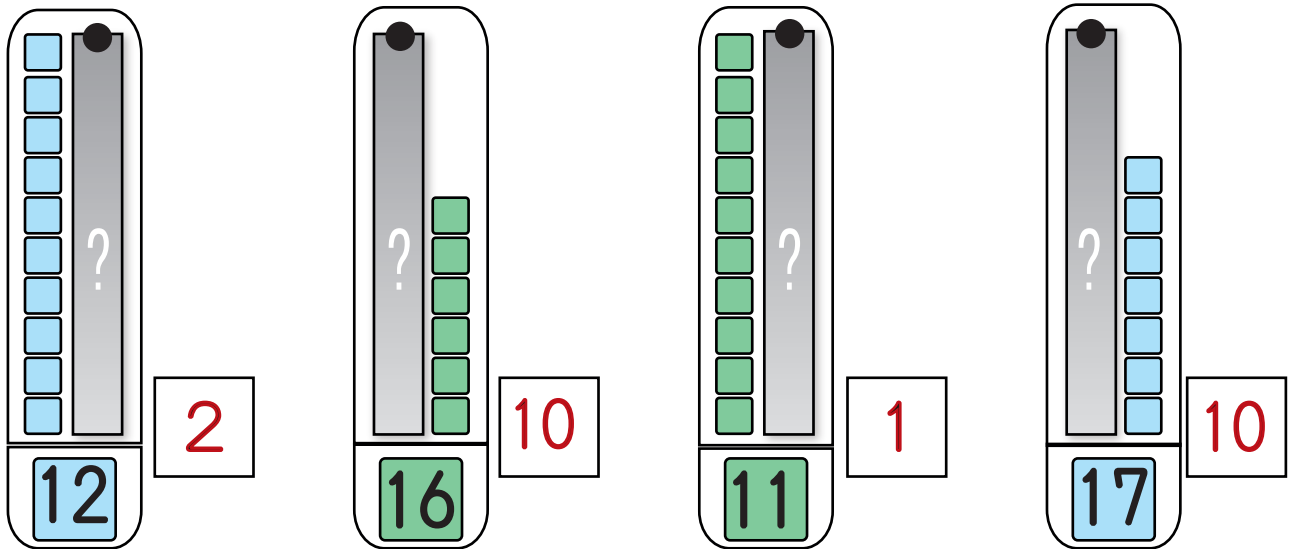


10よりおおきいかず

10よりおおきいかず④




1 かくれている タイルは いくつでしょう。



2 □はどんな かずでしょう。

- ① 10 と 4 で 14      ② 17 は 10 と 7
- ③ 15 は 10 と 5      ④ 13 は 10 と 3
- ⑤ 18 は 10 と 8      ⑥ 20 は 10 と 10

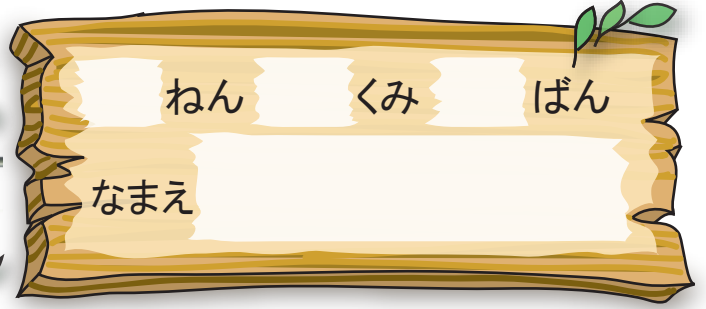






10よりおおきいかず


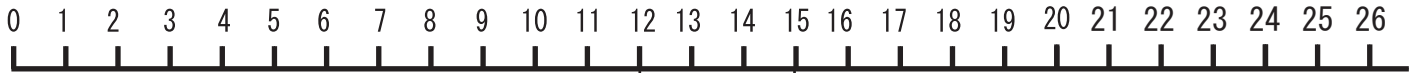
10よりおおきなかず⑤



みんなは それぞれ どこまで すすみましたか。  
かずのせんの めもりをみて こたえましょう。



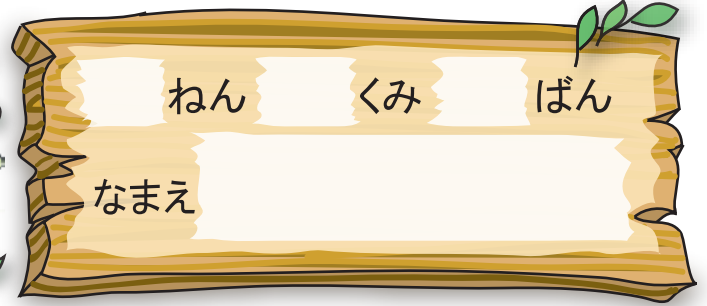
がんばって!





10よりおおきいかず

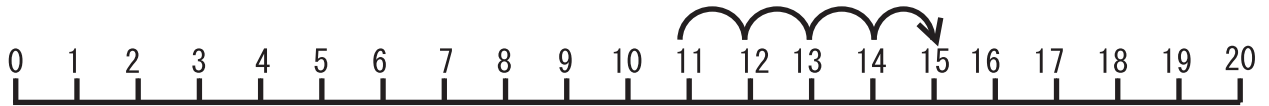
10よりおおきなかず⑥



つぎの かずのせんをみて こたえましょう。



11より  
4おおきいのは  
どこかな？



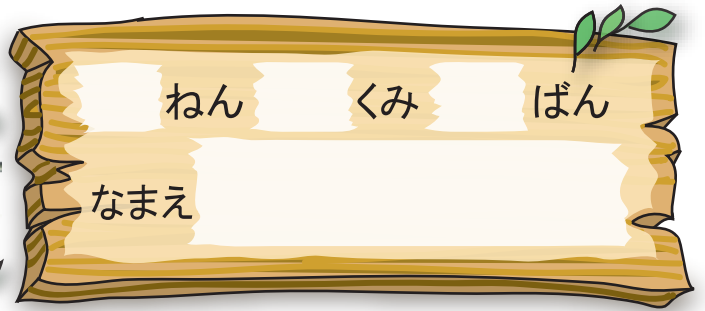
- ① 1 1 より 4 おおきい かずは 15
- ② 1 8 より 2 ちいさい かずは 16
- ③ 7 より 5 おおきい かずは 12
- ④ 1 2 より 3 ちいさい かずは 9



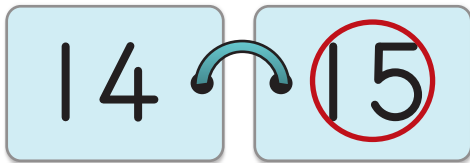
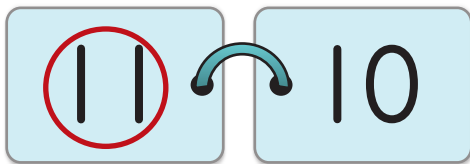


10よりおおきいかず

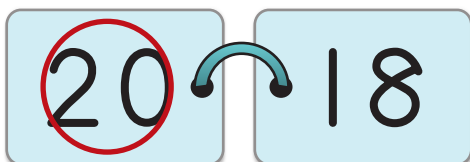
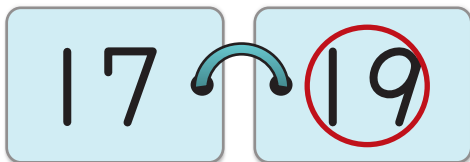
10よりおおきいかず⑦



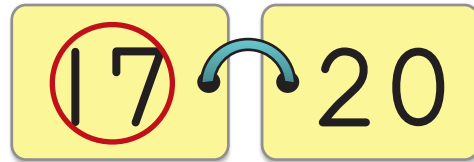
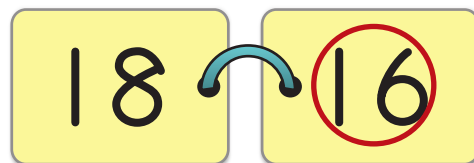
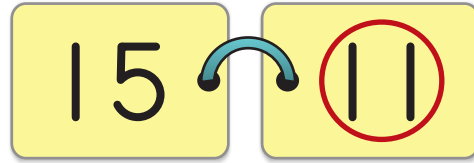
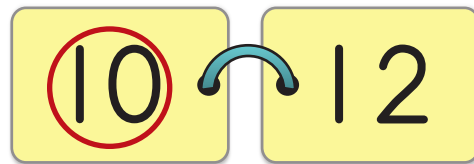
おおきいほうの かずを  
○で かこみましょう。




10と あと  
いくつかな？



ちいさいほうの かずを  
○で かこみましょう。




かずのせんを  
かぞえてごらん





10よりおおきいかず

10よりおおきなかず⑧



□に あてはまる かずを かきましょう。

① 

11
----

12
----

13
----

      ② 

5
---

10
----

15
----

③ 

17
----

18
----

19
----

20
----

④ 

8
---

 — 

9
---

 — 

10
----

 — 

11
----

 — 

12
----

⑤ 

16
----

 — 

17
----

 — 

18
----

 — 

19
----

 — 

20
----

⑥ 

10
----

 — 

12
----

 — 

14
----

 — 

16
----

 — 

18
----

 — 


20
----






10よりおおきいかず

# たしざんと ひきざん①



けいさんを しましょう。

$10 + 2 = 12$	$12 - 2 = 10$
$10 + 4 = 14$	$14 - 4 = 10$
$10 + 7 = 17$	$17 - 7 = 10$
$10 + 9 = 19$	$15 - 5 = 10$


 ○に +か - を 入れて ただしい しきに しましょう。

●  $10 \text{ (+) } 5 = 15$

●  $15 \text{ (-) } 5 = 10$

●  $5 \text{ (+) } 5 = 10$


●  $10 \text{ (-) } 5 = 5$





10よりおおきいかず

# たしざんと ひきざん②



けいさんを しましょう。

①  $12 + 5 = 17$

②  $11 + 6 = 17$

③  $15 + 3 = 18$

④  $19 - 2 = 17$

⑤  $17 - 4 = 13$

⑥  $13 + 6 = 19$

⑦  $13 - 2 = 11$

⑧  $18 - 8 = 10$

⑨  $10 + 1 = 11$

⑩  $16 - 5 = 11$

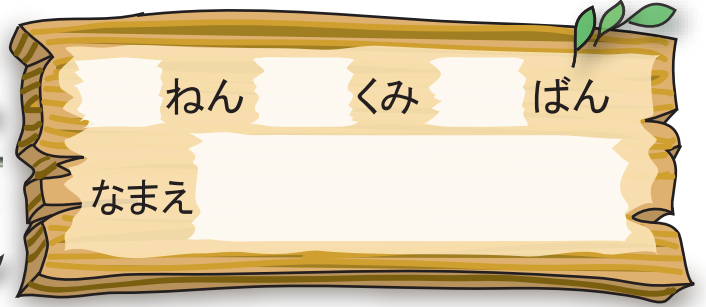






10よりおおきいかず


やってみよう①



ねん くみ ばん

なまえ

1から 20までの じゅんばんに せんでつなぎましょう。  
(20から 1へ ちいさくなる じゅんばんに つないでも  
いいよ)

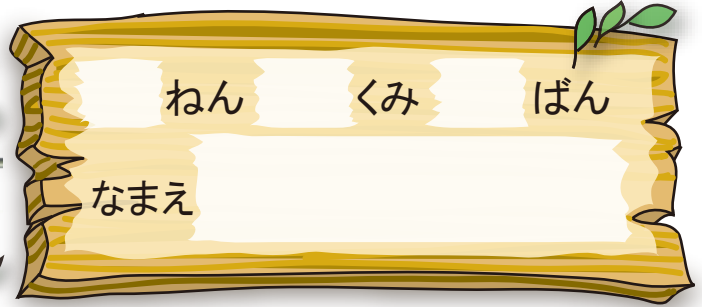


やまとかのん






10よりおおきいかず  
やってみよう②



🌸 どこを とおれば おともだちに あえるかな。



1ずつ おおきくなる みちを  
とおって すすむよ。



1ずつ ちいさくなる みちを  
とおって すすむよ。

