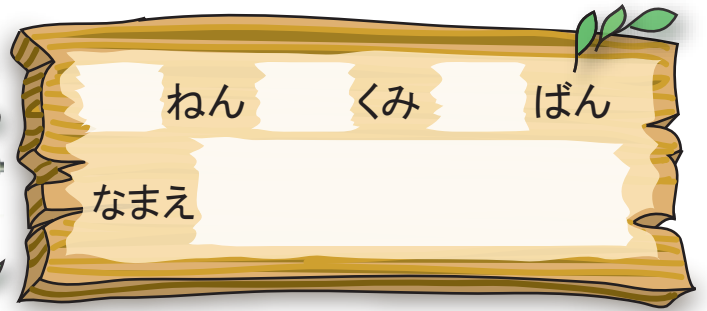




10よりおおきいかず

10よりおおきいかず①



ねん

くみ

ばん

なまえ

🍏 タイルを かぞえて □ の なかに かずを かきましょう。

10 1

11

□ □

□

□ □

□

□ □

□

□ □

□

□ □

□

□ □

□

□ □

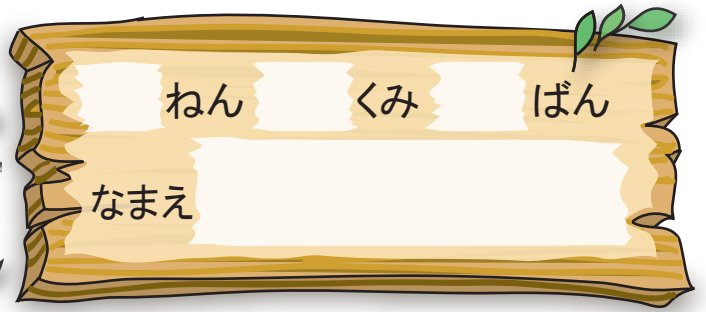
□





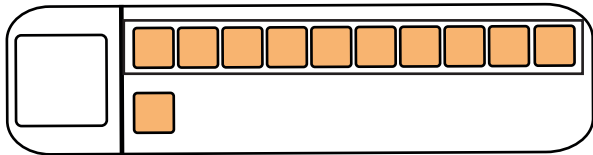
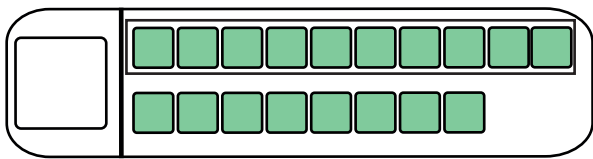
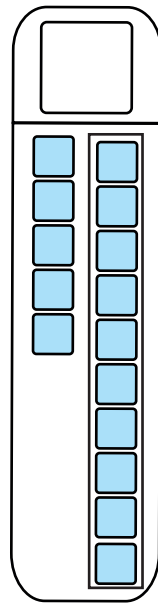
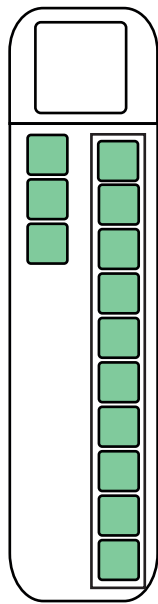
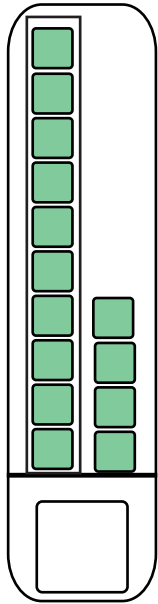
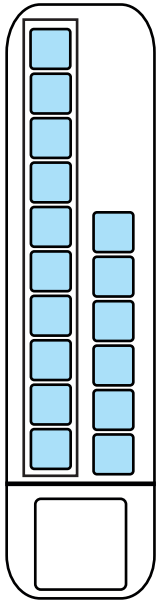


10よりおおきいかず

10よりおおきいかず②




たいるを かぞえて □の なかに かずを  
かきましょう。




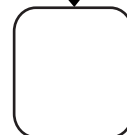


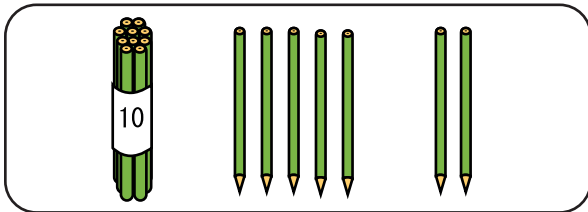


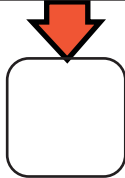





10よりおおきいかず

10よりおおきいかず③



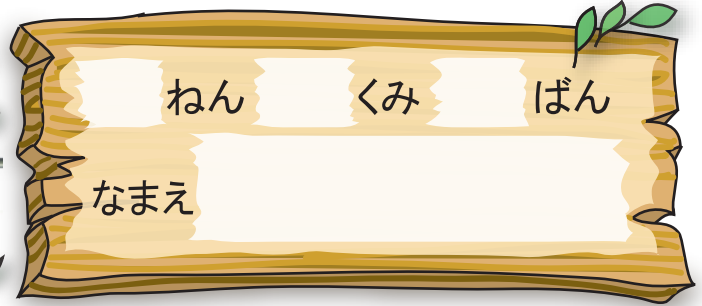
10こ かぞえて せんで かこみます。  
あわせて いくつ になる でしょう。



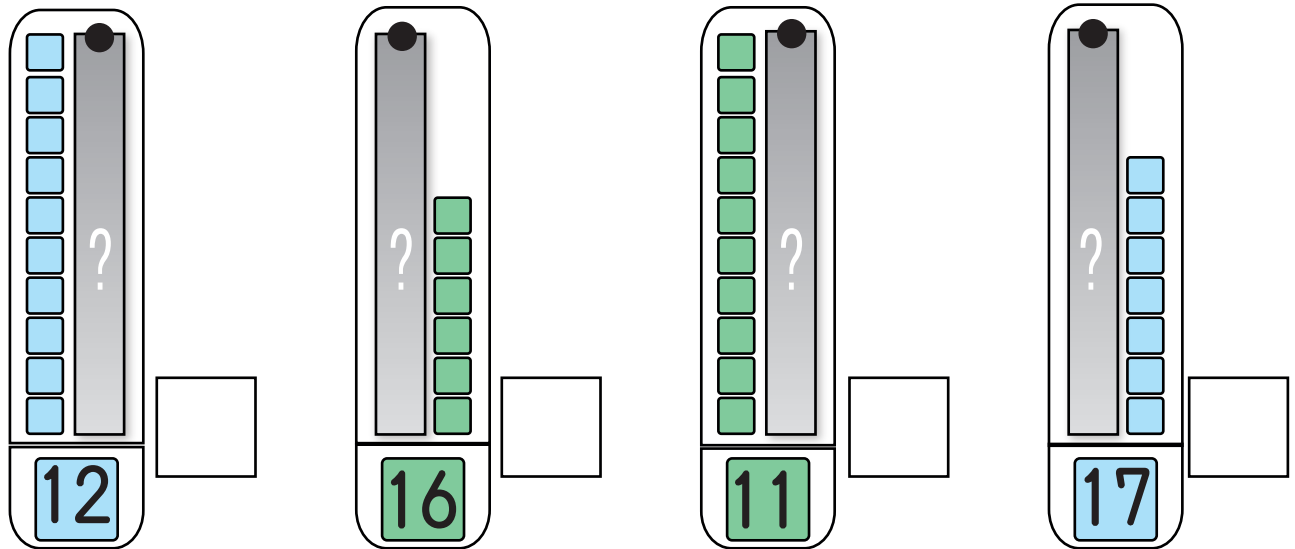


10よりおおきいかず

10よりおおきいかず④



1 かくれている タイルは いくつでしょう。



2 □はどんな かずでしょう。

- ① 10 と 4 で □      ② 17 は 10 と □
- ③ 15 は 10 と □      ④ 13 は □ と 3
- ⑤ 18 は □ と 8      ⑥ 20 は 10 と □

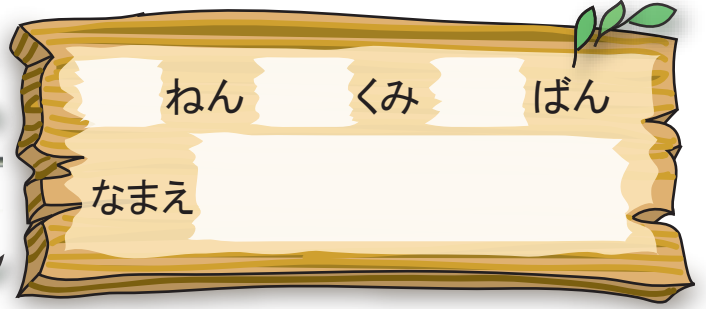






10よりおおきいかず

10よりおおきなかず⑤






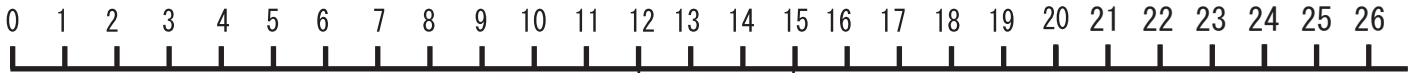
ねん くみ ばん

なまえ

みんなは それぞれ どこまで すすみましたか。  
かずのせんの めもりをみて こたえましょう。



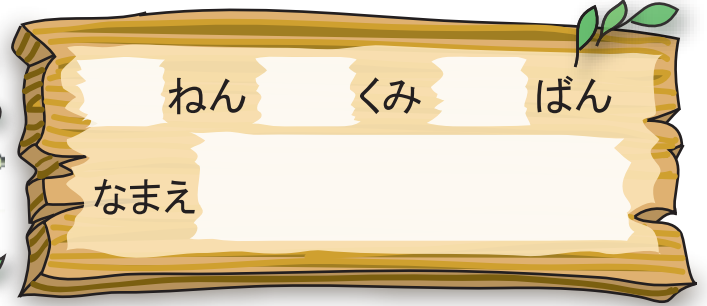
がんばって!





10よりおおきいかず

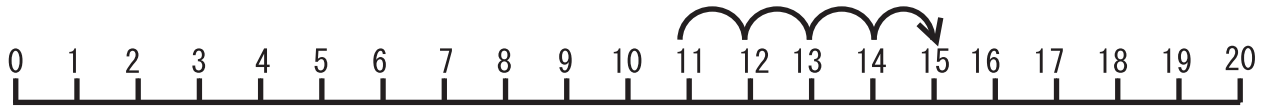
10よりおおきなかず⑥



つぎの かずのせんをみて こたえましょう。



11より  
4おおきいのは  
どこかな？




- |   |     |    |   |      |     |                      |
|---|-----|----|---|------|-----|----------------------|
| ① | 1 1 | より | 4 | おおきい | かずは | <input type="text"/> |
| ② | 1 8 | より | 2 | ちいさい | かずは | <input type="text"/> |
| ③ | 7   | より | 5 | おおきい | かずは | <input type="text"/> |
| ④ | 1 2 | より | 3 | ちいさい | かずは | <input type="text"/> |





10よりおおきいかず

10よりおおきいかず⑦



おおきいほうの かずを  
○で かこみましょう。

11 10

14 15



10と あと  
いくつかな？

17 19

20 18

ちいさいほうの かずを  
○で かこみましょう。

10 12

15 11

18 16

17 20




かずのせんを  
かぞえてごらん





10よりおおきいかず

10よりおおきなかず⑧



□に あてはまる かずを かきましょう。

① 

11
----

12
----

--

② 

5
---

--

15
----

③ 

17
----

--

19
----

--

④ 

8
---

 — 

9
---

 — 

--

 — 

--

 — 

12
----

⑤ 

16
----

 — 

--

 — 

18
----

 — 

19
----

 — 

--

⑥ 

10
----

 — 

12
----

 — 

--

 — 


--

 — 

18
----

 — 

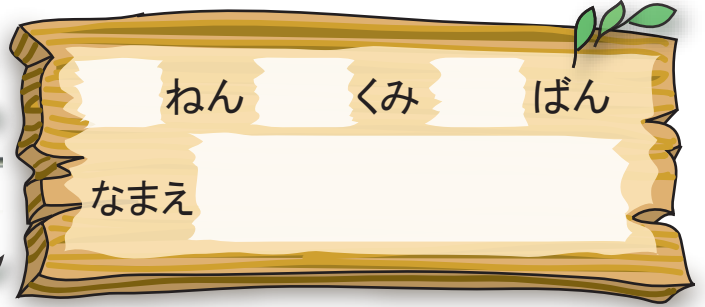
20
----






10よりおおきいかず

たしざんと ひきざん①



けいさんを しましょう。

$10 + 2 = \square$	$12 - 2 = \square$
$10 + 4 = \square$	$14 - 4 = \square$
$10 + 7 = \square$	$17 - 7 = \square$
$10 + 9 = \square$	$15 - 5 = \square$

 ○に +か - を 入れて ただしい しきに しましょう。

●  $10 \bigcirc 5 = 15$

●  $15 \bigcirc 5 = 10$

●  $5 \bigcirc 5 = 10$


●  $10 \bigcirc 5 = 5$





10よりおおきいかず

# たしざんと ひきざん②



けいさんを しましょう。

①  $12 + 5 = \square$

②  $11 + 6 = \square$

③  $15 + 3 = \square$

④  $19 - 2 = \square$

⑤  $17 - 4 = \square$

⑥  $13 + 6 = \square$

⑦  $13 - 2 = \square$

⑧  $18 - 8 = \square$

⑨  $10 + 1 = \square$

⑩  $16 - 5 = \square$

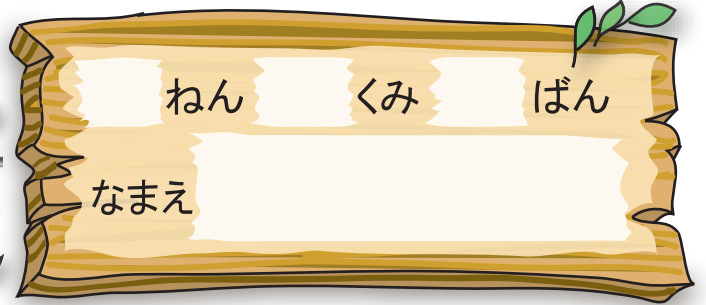




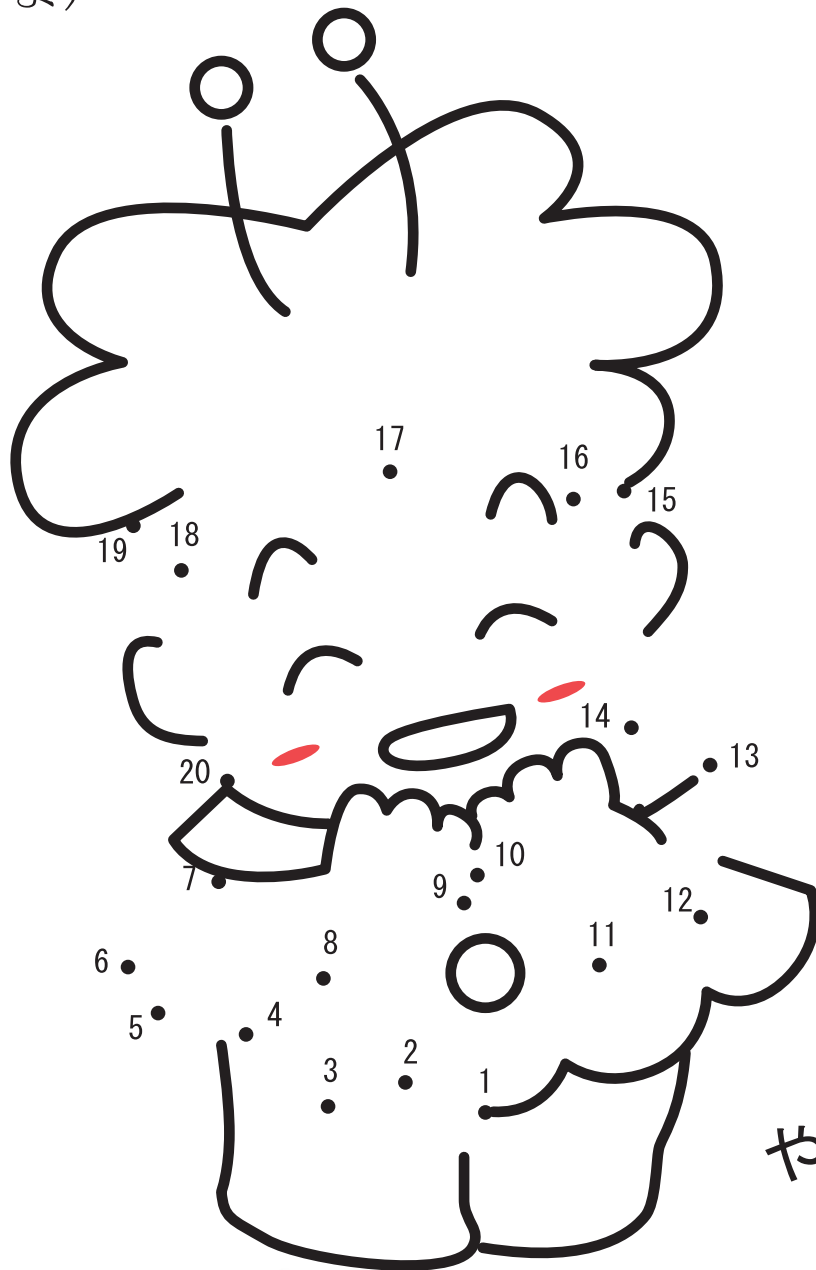


10よりおおきいかず


# やってみよう①



1から 20までの じゅんばんに せんでつなぎましょう。  
 (20から 1へ ちいさくなる じゅんばんに つないでも  
 いいよ)



やまとかのん






10よりおおきいかず  
やってみよう②

ねん くみ ばん  
なまえ

🌻 どこを とおれば おともだちに あえるかな。



1ずつ おおきくなる みちを  
とおって すすむよ。



1ずつ ちいさくなる みちを  
とおって すすむよ。

