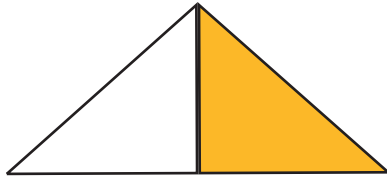




ねん 年 くみ 組 ばん 番

なまえ 名前

1. 色をぬったぶぶんの大きさは、もとの大きさの何分の一でしょうか。


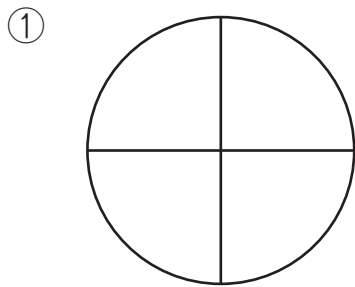


()



()

2. もとの大きさの $\frac{1}{4}$ に赤い色をぬりましょう。



3. もとの長さの $\frac{1}{5}$ 、 $\frac{1}{7}$ 、 $\frac{1}{6}$ にすきな色をぬりましょう

