




かけ算(1)


かけ算のいみ ①

ねん 年 くみ 組 ばん 番

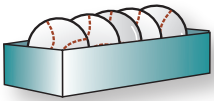
なまえ 名前



1さら分...りんご2こ



1本分...だんご3こ



1はこ分...ボール4こ



1たい分...タイヤ3こ

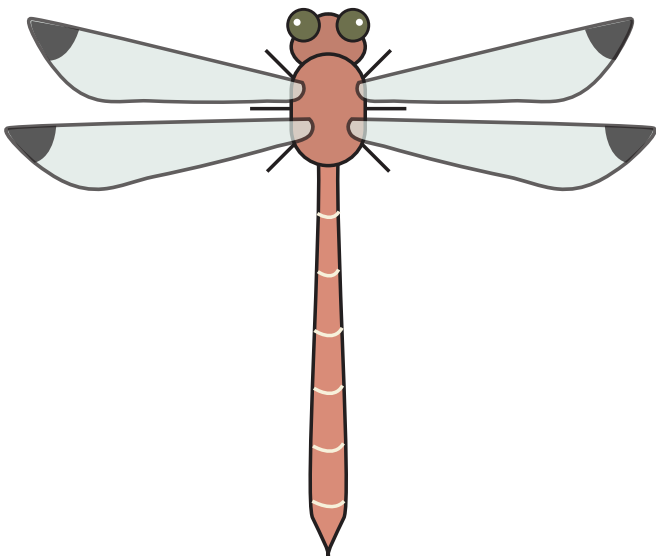


1ぴき分...ほし7こ


これらを
1つ分の数
と います。

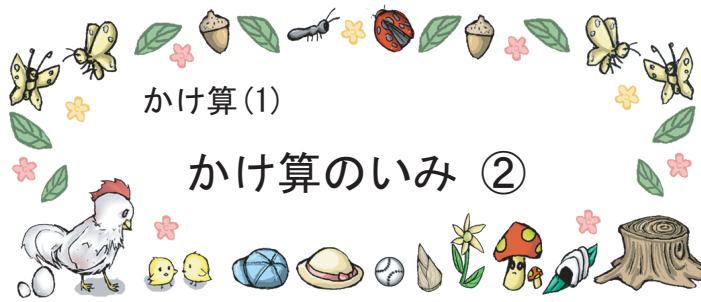


え 絵を みて、とんぼ 1ぴき分の 数を か 書きましょう。



なに 何が	1あたりの数
はね	4まい
目	2こ
足	6本
しっぽ	1本





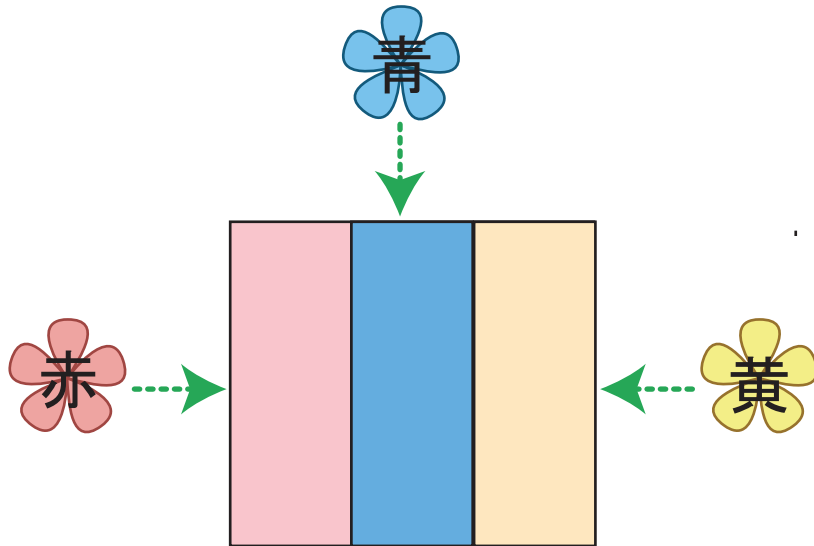
かけ算(1)

かけ算のいみ ②

ねん 年 くみ 組 ばん 番

なまえ 名前

赤・青・黄色の花がさいています。
花びらの数だけ□に色をぬってみましょう。



花びらは、何まいずつでしょう。 5 まい

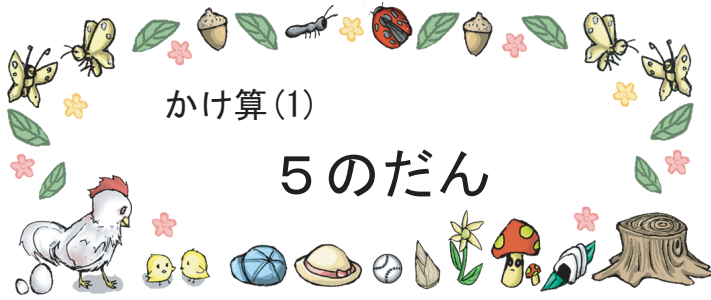
花 1 に分の花びらは、何まいでしょう。
かけ算のしき 5 × 1

花 2 に分の花びらは、何まいでしょう。
かけ算のしき 5 × 2

花 3 に分の花びらは、何まいでしょう。
かけ算のしき 5 × 3

花 5 に分の花びらは、何まいでしょう。
かけ算のしき 5 × 5





かけ算(1)

5のたん

ねん 年 くみ 組 ばん 番

なまえ 名前

九九ひょうに あてはまる数を 書きましょう。

×	1	2	3	4	5	6	7	8	9
5	5	10	15	20	25	30	35	40	45



とけいの 長い はりを
読む ときは、 5のたんの
九九が つかえるね。



つぎの 計算を しましょう。

$$\begin{array}{l}
 1 \quad 5 \times 1 = 5 \\
 2 \quad 5 \times 9 = 45 \\
 3 \quad 5 \times 5 = 25 \\
 4 \quad 5 \times 4 = 20 \\
 5 \quad 5 \times 7 = 35 \\
 6 \quad 5 \times 2 = 10 \\
 7 \quad 5 \times 8 = 40 \\
 8 \quad 5 \times 3 = 15 \\
 9 \quad 5 \times 6 = 30
 \end{array}$$

$$\begin{array}{l}
 10 \quad 5 \times 9 = 45 \\
 11 \quad 5 \times 2 = 10 \\
 12 \quad 5 \times 1 = 5 \\
 13 \quad 5 \times 5 = 25 \\
 14 \quad 5 \times 3 = 15 \\
 15 \quad 5 \times 7 = 35 \\
 16 \quad 5 \times 4 = 20 \\
 17 \quad 5 \times 8 = 40 \\
 18 \quad 5 \times 6 = 30
 \end{array}$$



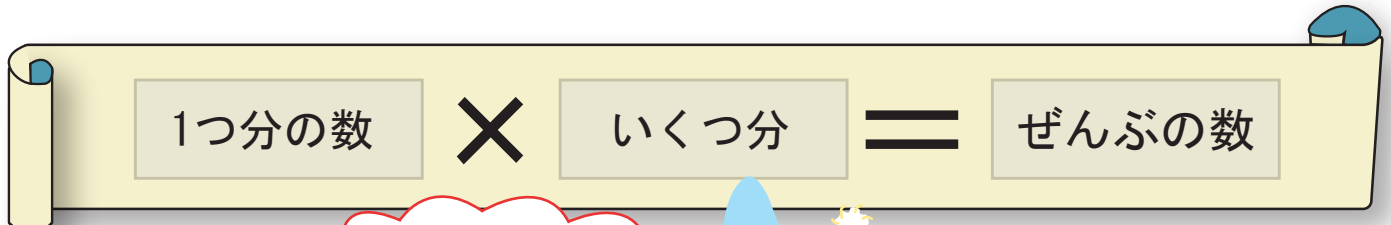


かけ算(1)

力をつけよう ①


ねん 年 くみ 組 ばん 番

なまえ 名前



同じ数ずつあるものが、「1つ分の数」だよ。

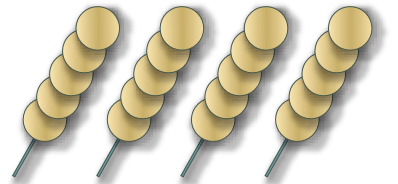
- ① ボールが 1はこに 5こずつ入っています。3はこでは、何こでしょう。



しき $5 \times 3 = 15$

答え 15こ

- ② おだんごが 1本に 5こずつ ついています。4本では、何こになるでしょう。



しき $5 \times 4 = 20$

答え 20こ

- ③ 7人で あそんでいます。おり紙を 1人に 5まいずつ くばると、何まいいりますか。



しき $5 \times 7 = 35$

答え 35まい





かけ算(1)

2のたん

ねん 年 くみ 組 ばん 番

なまえ 名前

✿ 九九ひょうに あてはまる数を 書きましょう。

×	1	2	3	4	5	6	7	8	9
2	2	4	6	8	10	12	14	16	18

✿ つぎの 計算を しましょう。

1 2 × 7 = 14

10 2 × 6 = 12

2 2 × 4 = 8

11 2 × 1 = 2

3 2 × 3 = 6

12 2 × 4 = 8

4 2 × 1 = 2

13 2 × 8 = 16

5 2 × 5 = 10

14 2 × 2 = 4

6 2 × 8 = 16

15 2 × 9 = 18

7 2 × 2 = 4

16 2 × 3 = 6


8 2 × 9 = 18

17 2 × 5 = 10

9 2 × 6 = 12

18 2 × 7 = 14

ばらばらは むずかしいね。
でも 上から じゅんばんに
やろうね!





かけ算(1)

力をつけよう ②

ねん	くみ	ばん
年	組	番
なまえ 名前		

$$\boxed{\text{1つ分の数}} \times \boxed{\text{いくつ分}} = \boxed{\text{ぜんぶの数}}$$



1人(1ぴき) 〇ずつって、
1つ分の数だね。

- 1 うさぎの耳は2つあります。
うさぎが5わでは、耳はいくつになりますか。



しき $2 \times 5 = 10$

答え 10こ


- 2 1人2こずつボールをもっています。
3人ではボールは何こでしょう。



しき $2 \times 3 = 6$

答え 6こ

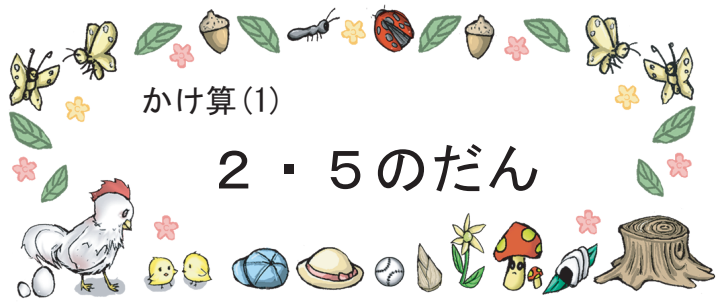
- 3 4人であそんでいます。
1人に2こずつクッキーをあげるには、ぜんぶで何こいりますか。



しき $2 \times 4 = 8$

答え 8こ





かけ算(1)

2・5のたん

ねん 年 くみ 組 ばん 番

なまえ 名前

九九ひょうにあてはまる数を 書きましょう。

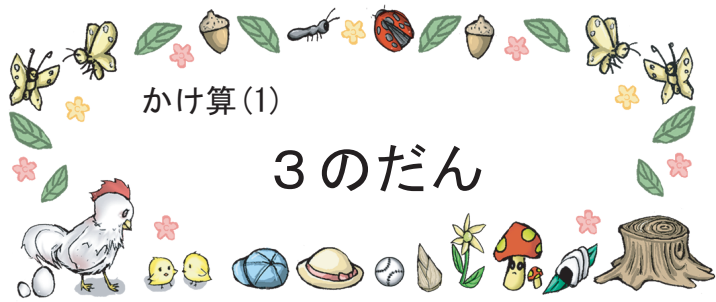
×	1	2	3	4	5	6	7	8	9
2	2	4	6	8	10	12	14	16	18
5	5	10	15	20	25	30	35	40	45

つぎの 計算をしましょう。

- 1 $5 \times 7 =$ 35
- 2 $2 \times 4 =$ 8
- 3 $2 \times 8 =$ 16
- 4 $5 \times 4 =$ 20
- 5 $2 \times 5 =$ 10
- 6 $5 \times 8 =$ 40
- 7 $2 \times 2 =$ 4
- 8 $2 \times 9 =$ 18
- 9 $5 \times 3 =$ 15
- 10 $2 \times 7 =$ 14

- 11 $5 \times$ 1 $= 5$
- 12 $5 \times$ 7 $= 35$
- 13 $2 \times$ 7 $= 14$
- 14 $5 \times$ 6 $= 30$
- 15 $2 \times$ 3 $= 6$
- 16 $5 \times$ 9 $= 45$
- 17 $2 \times$ 8 $= 16$
- 18 $5 \times$ 2 $= 10$
- 19 $5 \times$ 5 $= 25$
- 20 $2 \times$ 6 $= 12$





かけ算(1)

3のたん

ねん 年 くみ 組 ばん 番

なまえ 名前

九九ひょうにあてはまる数を 書きましょう。

×	1	2	3	4	5	6	7	8	9
3	3	6	9	12	15	18	21	24	27

つぎの 計算を しましょう。

- | | | | | | |
|---|---------|----|----|---------|----|
| 1 | 3 × 1 = | 3 | 10 | 3 × 4 = | 12 |
| 2 | 3 × 5 = | 15 | 11 | 3 × 8 = | 24 |
| 3 | 3 × 3 = | 9 | 12 | 3 × 1 = | 3 |
| 4 | 3 × 9 = | 27 | 13 | 3 × 5 = | 15 |
| 5 | 3 × 4 = | 12 | 14 | 3 × 3 = | 9 |
| 6 | 3 × 8 = | 24 | 15 | 3 × 6 = | 18 |
| 7 | 3 × 2 = | 6 | 16 | 3 × 7 = | 21 |
| 8 | 3 × 6 = | 18 | 17 | 3 × 2 = | 6 |
| 9 | 3 × 7 = | 21 | 18 | 3 × 9 = | 27 |

3 × 1 (サンイチ)
 3 × 4 (サンシ)
 3 × 7 (サンシチ)
 にているから、気をつけてね!





かけ算(1)

力をつけよう ③

ねん 年 くみ 組 ばん 番

なまえ 名前

1つ分の数

×

いくつ分

=

ぜんぶの数



同じ数がいくつあるかが「いくつ分」だよ

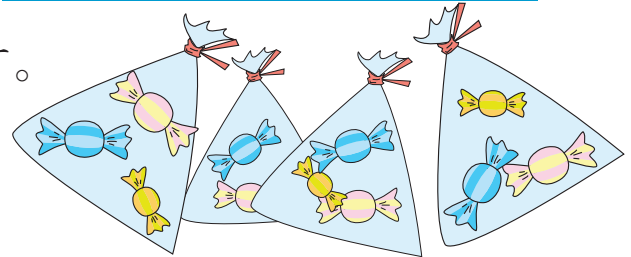
- 1 1はこにドーナツが3こずつ入っています。5はこではドーナツは何こですか。



しき $3 \times 5 = 15$

答え 15こ


- 2 4ふくろにあめが3こずつ入っています。あめは、ぜんぶで何こですか。



しき $3 \times 4 = 12$

答え 12こ

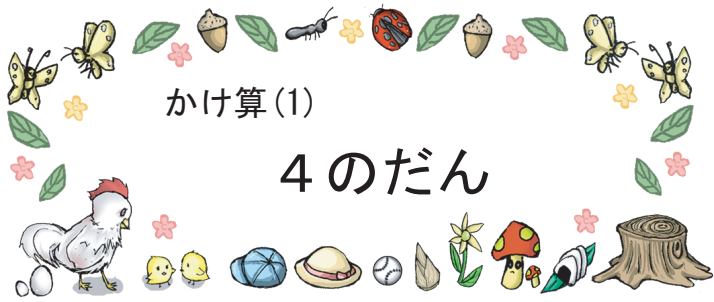
- 3 3人ずつ手をつないでグループをつくります。7グループでは何人ですか。



しき $3 \times 7 = 21$

答え 21人





かけ算(1)

4のだん

ねん 年 くみ 組 ばん 番

なまえ 名前

九九ひょうに あてはまる数を 書きましょう。

×	1	2	3	4	5	6	7	8	9
4	4	8	12	16	20	24	28	32	36



4のだんって
ちょっと 言いいにくいよね。
でも、がんばろう！



つぎの 計算を しましょう。

- 1. 4 × 9 = **36**
- 2. 4 × 1 = **4**
- 3. 4 × 3 = **12**
- 4. 4 × 6 = **24**
- 5. 4 × 4 = **16**
- 6. 4 × 2 = **8**
- 7. 4 × 8 = **32**
- 8. 4 × 5 = **20**
- 9. 4 × 7 = **28**

- 10. 4 × **3** = 12
- 11. 4 × **6** = 24
- 12. 4 × **8** = 32
- 13. 4 × **1** = 4
- 14. 4 × **7** = 28
- 15. 4 × **4** = 16
- 16. 4 × **2** = 8
- 17. 4 × **5** = 20
- 18. 4 × **9** = 36





かけ算(1)

力をつけよう ④

ねん 年 くみ 組 ばん 番

なまえ 名前

1つ分の数 × いくつ分 = ぜんぶの数

え 絵 や タイル を かいて
かんが 考えて みよう !



- 1 1人 4わずつ つるをおりました。
3人では 何わ おれましたか。

しき $4 \times 3 = 12$

答え 12わ

- 2 1さらに 4こずつ いちごが のっています。
6さらでは いちごは 何こになるでしょう。

しき $4 \times 6 = 24$

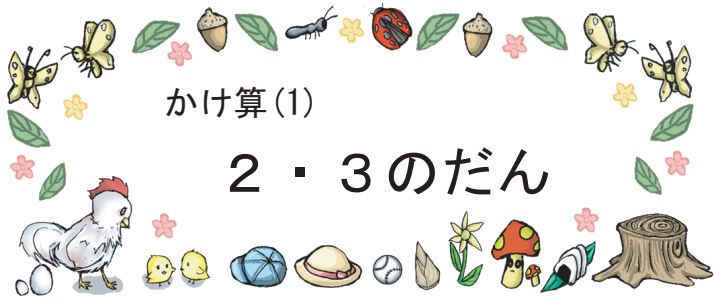
答え 24こ

- 3 はこが 7こ あります。1はこに 4こずつ おにぎりを 入れると、おにぎりは
ぜんぶで 何こ いらいますか。

しき $4 \times 7 = 28$

答え 28こ





かけ算(1)

2・3のたん

ねん 年 くみ 組 ばん 番

なまえ 名前

九九ひょうに あてはまる数を 書きましょう。

×	1	2	3	4	5	6	7	8	9
2	2	4	6	8	10	12	14	16	18
3	3	6	9	12	15	18	21	24	27

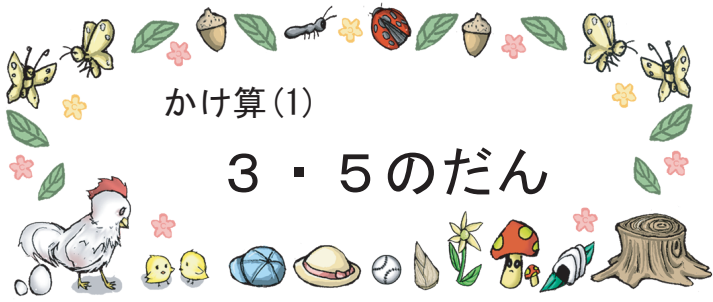
つぎの 計算を しましょう。



- 1 3 × 9 = 27
- 2 2 × 4 = 8
- 3 3 × 3 = 9
- 4 2 × 1 = 2
- 5 2 × 5 = 10
- 6 3 × 8 = 24
- 7 2 × 2 = 4
- 8 3 × 5 = 15
- 9 2 × 7 = 14
- 10 3 × 1 = 3

- 11 3 × 2 = 6
- 12 2 × 3 = 6
- 13 3 × 4 = 12
- 14 2 × 6 = 12
- 15 2 × 8 = 16
- 16 3 × 7 = 21
- 17 2 × 9 = 18
- 18 3 × 6 = 18
- 19 2 × 5 = 10
- 20 3 × 3 = 9





ねん 年 くみ 組 ばん 番

なまえ 名前

九九ひょうに あてはまる数を 書きましょう。


×	1	2	3	4	5	6	7	8	9
3	3	6	9	12	15	18	21	24	27
5	5	10	15	20	25	30	35	40	45

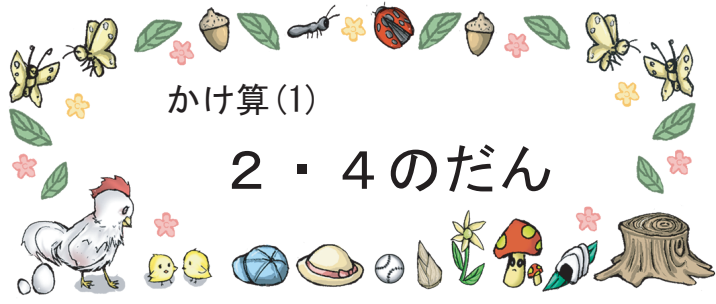


つぎの 計算を しましょう。

- 1 3 × 9 = 27
- 2 5 × 1 = 5
- 3 3 × 3 = 9
- 4 5 × 5 = 25
- 5 5 × 9 = 45
- 6 3 × 8 = 24
- 7 3 × 2 = 6
- 8 5 × 8 = 40
- 9 3 × 7 = 21
- 10 5 × 3 = 15

- 11 3 × 4 = 12
- 12 5 × 2 = 10
- 13 5 × 6 = 30
- 14 3 × 6 = 18
- 15 3 × 5 = 15
- 16 5 × 4 = 20
- 17 3 × 1 = 3
- 18 5 × 7 = 35
- 19 3 × 4 = 12
- 20 5 × 3 = 15





かけ算(1)

2・4のたん

ねん 年 くみ 組 ばん 番

なまえ 名前

九九ひょうに あてはまる数を 書きましょう。


×	1	2	3	4	5	6	7	8	9
2	2	4	6	8	10	12	14	16	18
4	4	8	12	16	20	24	28	32	36

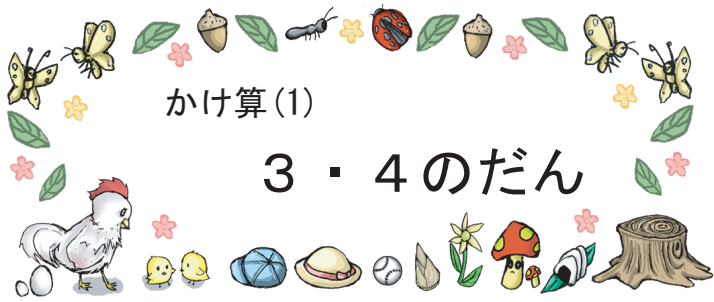
つぎの 計算を しましょう。



- 1 4 × 9 = 36
- 2 2 × 4 = 8
- 3 4 × 3 = 12
- 4 2 × 1 = 2
- 5 2 × 5 = 10
- 6 4 × 8 = 32
- 7 2 × 2 = 4
- 8 4 × 5 = 20
- 9 2 × 7 = 14
- 10 4 × 1 = 4

- 11 4 × 2 = 8
- 12 2 × 3 = 6
- 13 4 × 3 = 12
- 14 2 × 6 = 12
- 15 2 × 8 = 16
- 16 4 × 7 = 28
- 17 2 × 9 = 18
- 18 4 × 6 = 24
- 19 2 × 5 = 10
- 20 4 × 4 = 16





かけ算(1)

3・4のたん

ねん 年 くみ 組 ばん 番

なまえ 名前

🌸 九九ひょうに あてはまる数を 書きましょう。

×	1	2	3	4	5	6	7	8	9
3	3	6	9	12	15	18	21	24	27
4	4	8	12	16	20	24	28	32	36

🌸 つぎの 計算を しましょう。

👧 答えが 12と24 になるものは、3のたんにも 4のたんにもあるぞ！

- 1 🍄 3 × 3 = **9**
- 2 🍄 4 × 4 = **16**
- 3 🍄 3 × 6 = **18**
- 4 🍄 4 × 1 = **4**
- 5 🍄 4 × 5 = **20**
- 6 🍄 3 × 8 = **24**
- 7 🍄 4 × 2 = **8**
- 8 🍄 3 × 5 = **15**
- 9 🍄 4 × 7 = **28**
- 10 🍄 3 × 2 = **6**

- 11 🍄 3 × **2** = 6
- 12 🍄 4 × **8** = 32
- 13 🍄 3 × **4** = 12
- 14 🍄 4 × **3** = 12
- 15 🍄 4 × **4** = 16
- 16 🍄 3 × **7** = 21
- 17 🍄 4 × **6** = 24
- 18 🍄 3 × **8** = 24
- 19 🍄 4 × **9** = 36
- 20 🍄 3 × **9** = 27

