



ねん	くみ	ばん
<input type="text"/>	<input type="text"/>	<input type="text"/>
年	組	番
なまえ	<input type="text"/>	
名前		

1. つぎの ^{かず} 数を ^よ 読みましょう。

① 6782 (**六千七百八十二**)

② 3045 (**三千四十五**)

③ 4201 (**四千二百一**)

④ 5070 (**五千七十**)

⑤ 2005 (**二千五**)

2. 数字で ^か 書きましょう。

① 三千七百四十二 (**3742**)

② 八千六十七 (**8067**)

③ 四千六百一 (**4601**)

④ 二千九十 (**2090**)

⑤ 七千五 (**7005**)





4けたの数

どんな数かな？

ねん	くみ	ばん
<input type="text"/>	<input type="text"/>	<input type="text"/>
年	組	番
なまえ	<input type="text"/>	
名前		

つぎの数を書いて読みましょう。



1000を4こ、100を7こ、1を2こ

あわせた数は、**4702** です。



8035は、1000を**8**こ、10を**3**こ、

1を**5**こあわせた数です。



2060は、1000を**2**こ、10を**6**こ、

あわせた数です。



千のくらいが5、百のくらいが1、十のくらいが7、

一のくらいが9の数は、**5179** です。



100を26こあつめた数は、**2600** です。



100を80こあつめた数は、**8000** です。



2400は100を**24**こあつめた数です。






ねん 年 くみ 組 ばん 番

なまえ 名前

★ にあてはまる、>、<を書きましょう。

1	999 < 1001	2	2492 > 1998
3	5030 > 4950	4	4098 < 4100
5	8789 < 8798	6	4068 > 4065
7	8149 < 8419	8	7326 < 8☆13
9	5140 < 515☆	10	☆412 < 951☆

★ 下のよな ^{すうじ}数字のカードがあります。この4まいのカードをつかって①・②の数を書きましょう。



① 1番 大きい数は **8630** です。

② 2番目に 大きい数は **8603** です。





4けたの数

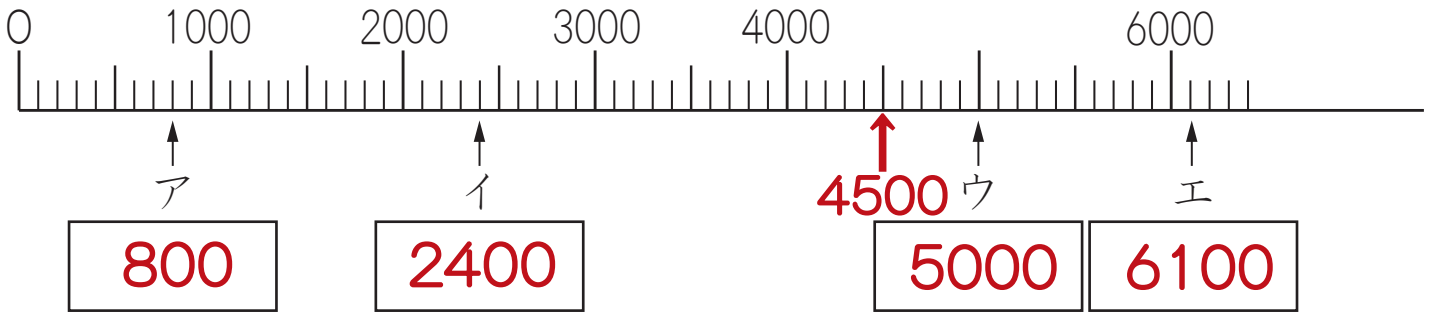

数の線

ねん 年 くみ 組 ばん 番

なまえ 名前

下の数の線を見て答えましょう。



1 にあてはまる数を書きましょう。



2 4500をあらわすめもりに ↑ をかきましょう。



にあてはまる数を書きましょう。





ねん 年 くみ 組 ばん 番

なまえ 名前

✻ けいさん 計算を しましょう。

✻ $500 + 900 = 1400$

✻ $9000 - 7000 = 2000$

✻ $700 + 600 = 1300$

✻ $10000 - 3000 = 7000$

✻ $1400 - 500 = 900$

✻ $4000 + 500 = 4500$

✻ $1200 - 800 = 400$

✻ $4500 - 500 = 4000$

✻ $4000 + 2000 = 6000$

✻ $4500 - 4000 = 500$

