



4けたの数

読んで 書けるかな？

ねん	くみ	ばん
<input type="text"/>	<input type="text"/>	<input type="text"/>
年 組 番		
なまえ		
<input type="text"/>		
名前		

1. つぎの <sup>かず</sup> 数を <sup>よ</sup> 読みましょう。

① 6782 ( )

② 3045 ( )

③ 4201 ( )

④ 5070 ( )

⑤ 2005 ( )

2. 数字で <sup>か</sup> 書きましょう。

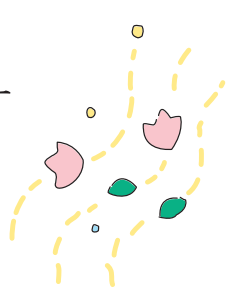
① 三千七百四十二 ( )

② 八千六十七 ( )

③ 四千六百一 ( )

④ 二千九十 ( )

⑤ 七千五 ( )





4けたの数

どんな数かな？

ねん	くみ	ばん
<input type="text"/>	<input type="text"/>	<input type="text"/>
年 組 番		
なまえ	<input type="text"/>	
名前		

つぎの数を書いて読みましょう。



1000を4こ、100を7こ、1を2こ

あわせた数は、 です。



8035は、1000をこ、10をこ、

1をこあわせた数です。



2060は、1000をこ、10をこ、

あわせた数です。



千のくらいが5、百のくらいが1、十のくらいが7、

一のくらいが9の数は、 です。



100を26こあつめた数は、 です。



100を80こあつめた数は、 です。



2400は100をこあつめた数です。






ねん 年      くみ 組      ばん 番

なまえ 名前

★  にあてはまる、>、<を書きましょう。

1	999 <input type="text"/> 1001	2	2492 <input type="text"/> 1998
3	5030 <input type="text"/> 4950	4	4098 <input type="text"/> 4100
5	8789 <input type="text"/> 8798	6	4068 <input type="text"/> 4065
7	8149 <input type="text"/> 8419	8	7326 <input type="text"/> 8☆13
9	5140 <input type="text"/> 515☆	10	☆412 <input type="text"/> 951☆

★ 下のよ<sup>すうじ</sup>うな数字のカードがあります。この4まいのカードをつかって①・②の数を書きましょう。



① 1番 <sup>ばん</sup>大きい数は  です。

② 2番目に大きい数は  です。





4けたの数

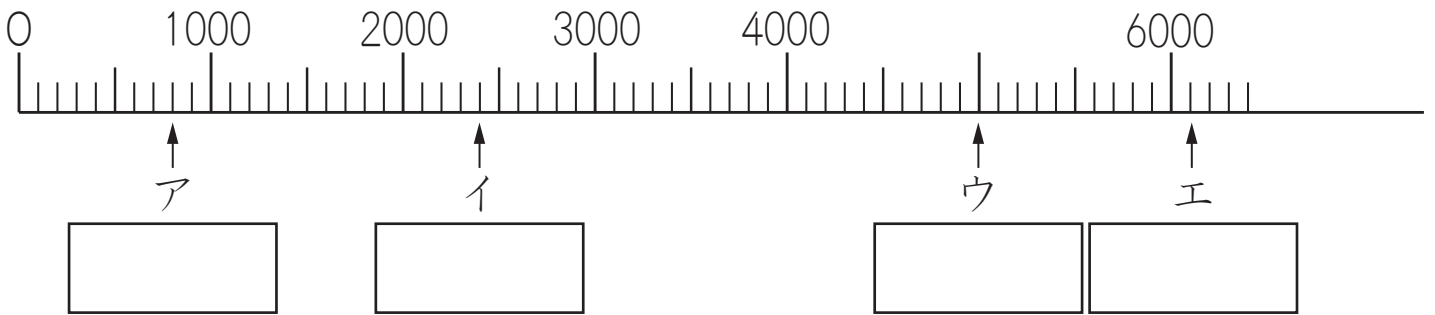
# 数の線

ねん 年      くみ 組      ばん 番

なまえ 名前

下の数の線を見て答えましょう。

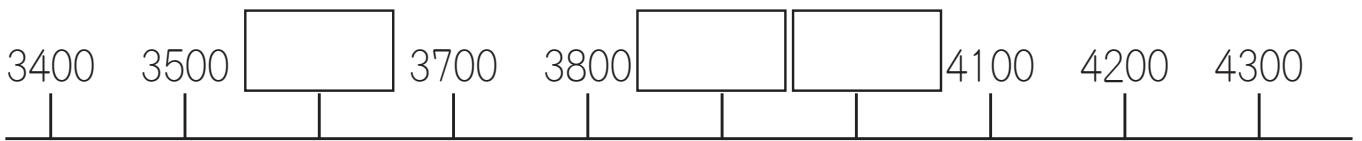
1  にあてはまる数を書きましょう。



2 4500をあらわすめもりに ↑ をかきましょう。



にあてはまる数を書きましょう。





ねん 年      くみ 組      ばん 番

なまえ 名前

✻ 計算を しましよ。

✻ 1  $500 + 900 =$

✻ 6  $9000 - 7000 =$

✻ 2  $700 + 600 =$

✻ 7  $10000 - 3000 =$

✻ 3  $1400 - 500 =$

✻ 8  $4000 + 500 =$

✻ 4  $1200 - 800 =$

✻ 9  $4500 - 500 =$

✻ 5  $4000 + 2000 =$

✻ 10  $4500 - 4000 =$

