



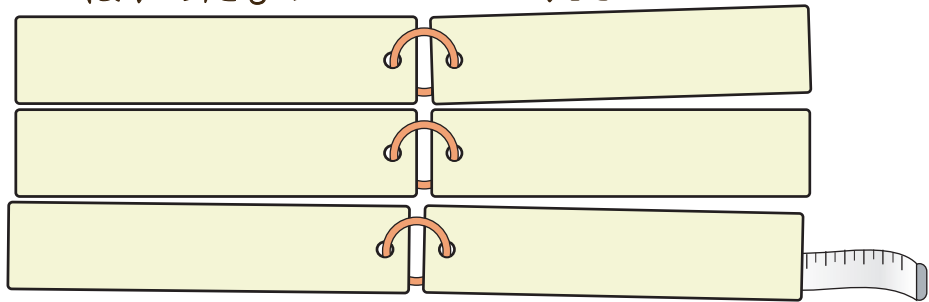
長いものの長さのたんい

長さしらべのひょう

ねん 年 くみ 組 ばん 番

なまえ 名前

みのまわりの長さをはかってみましょう。
はかったもの ながさ



からだの長さの「ものさし」

せいよう 西洋

インチ

キュービット

ヤード

フート

フェーサム

日本

ふせ

あた

つか

しゃく尺

ひろ

日本のでんとうの長さにもとづくもの

すんぎ 五寸釘

しゃく 尺取り虫

しゃく 尺八

しゃく 尺玉

三尺

六尺

いっけん 一間のものほしぎお

たたみ 畳

りづか 一里塚





ねん くみ ばん
 年 組 番

なまえ
 名前

★ () にあう長さのたんいを 書きましょう。

① プールの ふかさ 1 ()

② ほうきの 長さ 65 ()

③ ノートの あつさ 3 ()

④ 黒ばんの よこの 長さ 6 ()

mm、cm、mの
どのたんいが
あうのかな。



★ 2 5m50cmの 青いロープと
4m20cmの 赤いロープがあります。

① あわせると ロープの 長さは どれだけでしょうか。

しき

こた
答え

② ちがいは どれだけでしょうか。

しき

答え





長いものの長さのたんい

長いものの長さのたんい②

ねん 年 くみ 組 ばん 番

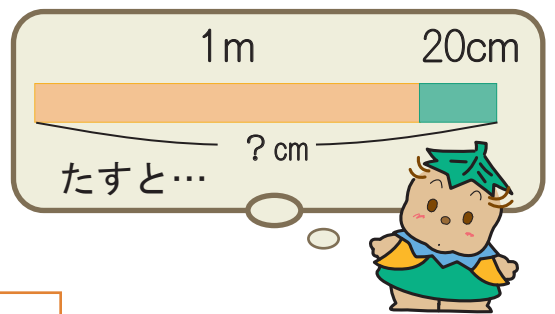
なまえ 名前

長さを計算しましょう。

1 $5m + 3m =$

2 $18m + 3m =$

3 $1m + 20cm =$



4 $3m40cm + 2m =$

5 $6m10cm + 3m20cm =$

6 $80cm + 50cm =$ m cm

1m = 100cmだから
130cmは...



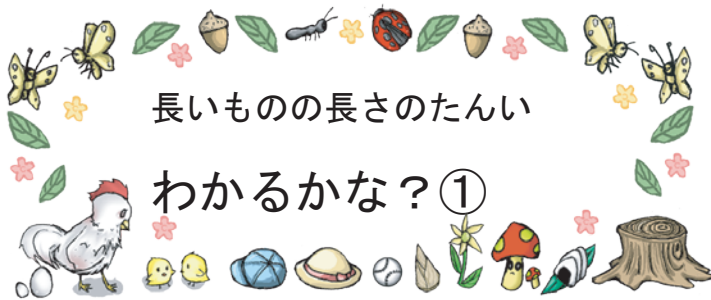
	m	cm
		80
+		50
	1	30

ひっ算でも できるよ!

7 $1m60cm + 30cm =$

8 $4m70cm + 1m50cm =$






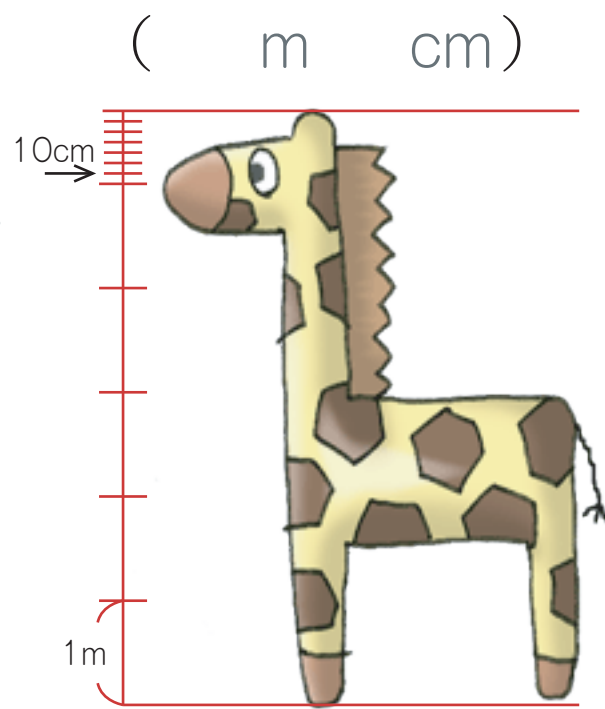
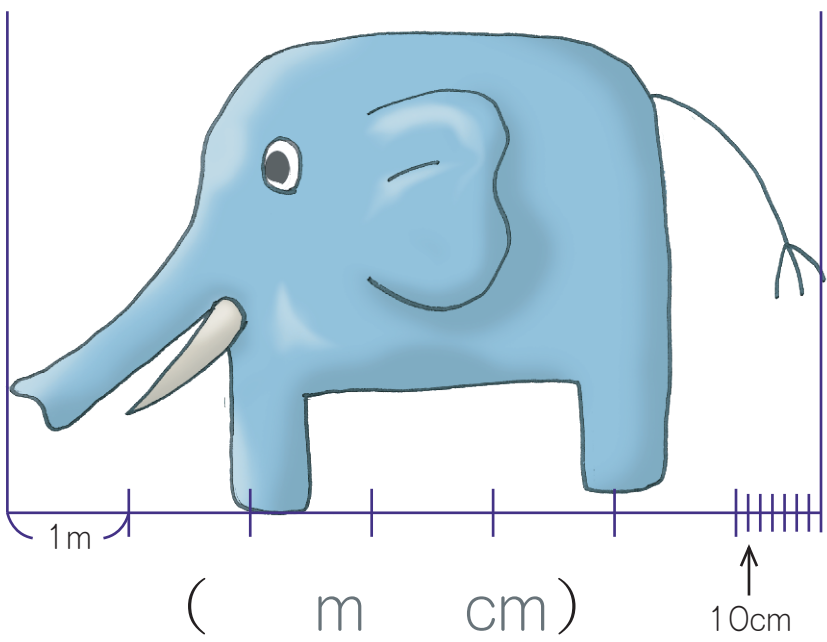
長いものの長さのたんい

わかるかな？①


ねん 年 くみ 組 ばん 番


なまえ 名前

何m 何cm でしょう。(大きなめもりは 1m です。小さなめもりは 10cm です。)



1m = 100cm






ねん 年 くみ 組 ばん 番

なまえ 名前

🍄 コミュニティーバスの 大きさは、どれくらいなんだろう。



バスの 長さは、7m よりも 1cmみじかいんだよ。

m cm

バスの はばは、2m よりも 6cm長いんだよ。

m cm

バスの 高さは、3m より 2cm5mm ひくいんだよ。

m cm mm

