



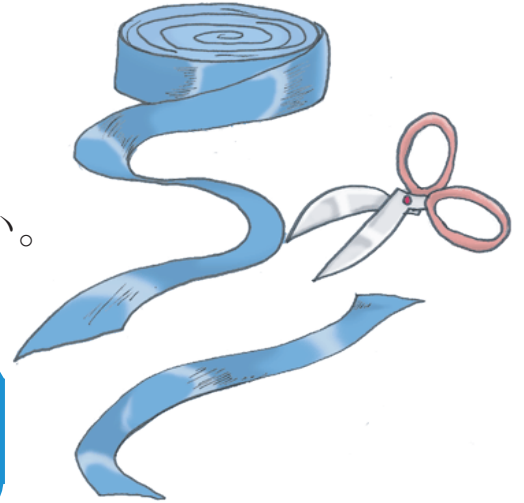
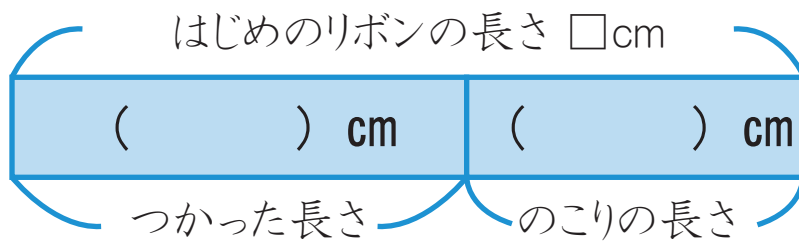
たし算とひき算

はじめは いくつ？

ねん 年      くみ 組      ばん 番

なまえ 名前

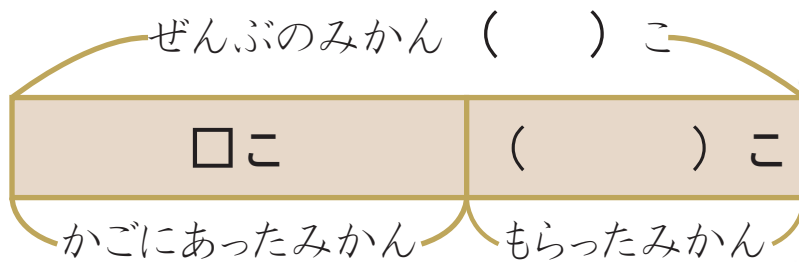
1 リボンが <sup>なん</sup>何cmか ありました。45cm つかうと のこりが 25cmになりました。はじめにリボンは 何cm あったのでしょうか。



しき

答え

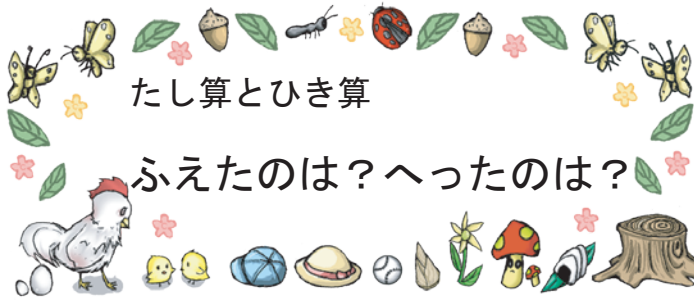
2 みかんが かごに 何こか ありました。友だちから 13こ もらったので、ぜんぶで 48こになりました。はじめに みかんは かごに 何こ ありましたか。



しき

答え



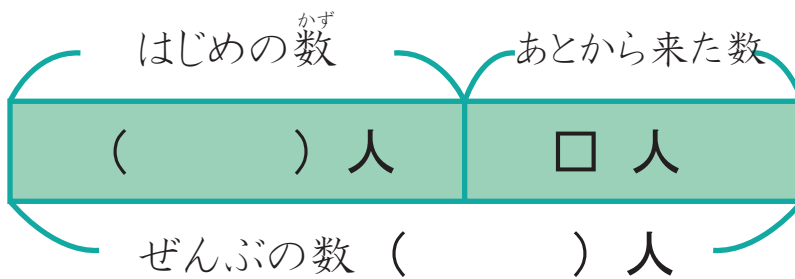


ねん      くみ      ばん  
 年    組    番

なまえ  
**名前**



校でいて 12人の子どもがあそんでいました。あとから何人か来たので、みんなで 18人になりました。あとから来た子どもは、何人でしょう。



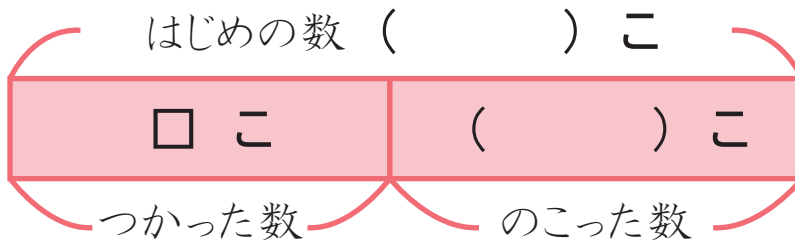
しき



答え



たまごが 30こありました。そのうち、何かをりょうりに つかったので、のこりは 18こになりました。 つかった たまごは、何こでしょう。



しき



答え

