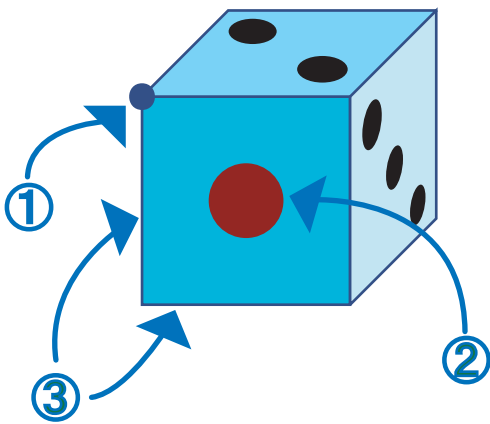




ねん      くみ      ばん  
 年    組    番

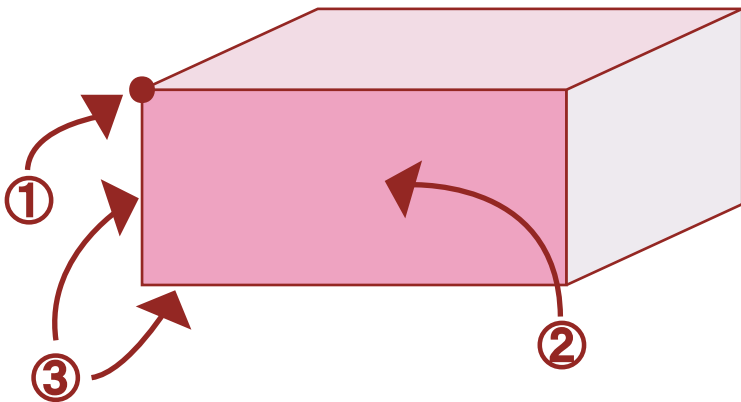
なまえ  
 名前

1. さいころの①～③のことを何といひますか。( ) にことばを書きましよう。  
 また、①～③は、それぞれいくつありますか。□ に数を書きましよう。




- ① ( ちょう点 )
- ② ( 面 )
- ③ ( へん )

2. 下の形の①～③のことを何といひますか。( ) にことばを書きましよう。  
 また、①～③は、それぞれいくつありますか。□ に数を書きましよう。



- ① ( ちょう点 )
- ② ( 面 )
- ③ ( へん )



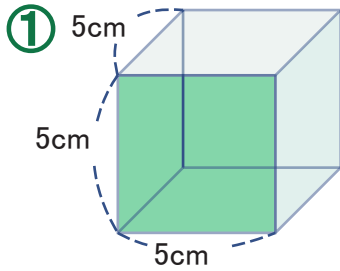


はこの形  
はこをつくろう②

ねん 年      くみ 組      ばん 番

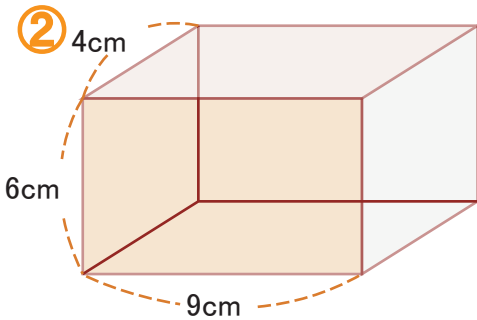

なまえ 名前

1. 竹ひごをつかって、下のよう<sup>づ</sup>な形を作ろうと思います。



①の形について答えましょう。  
ひごの数を書きましょう。

5 cm のひごは、 12 本



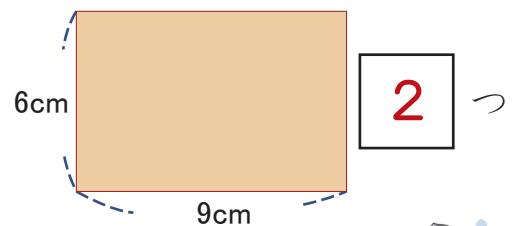
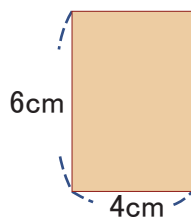
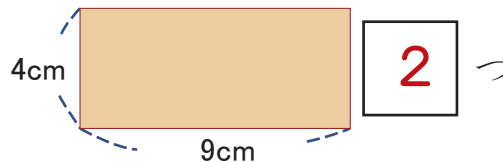
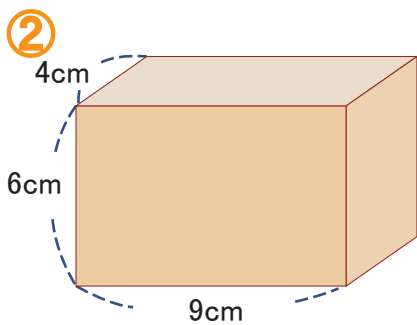
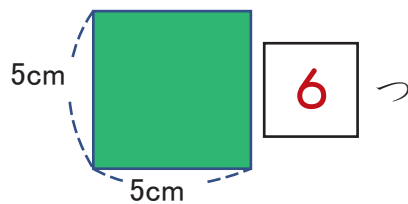
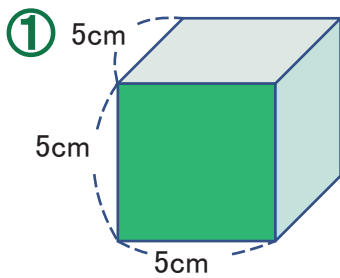
②の形について答えましょう。

4cm のひごは、 4 本

6cm のひごは、 4 本

9cm のひごは、 4 本

2. つぎの形を見て、面<sup>めん</sup>はそれぞれいくつあるか答えましょう。



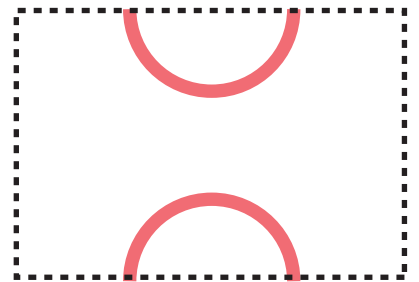



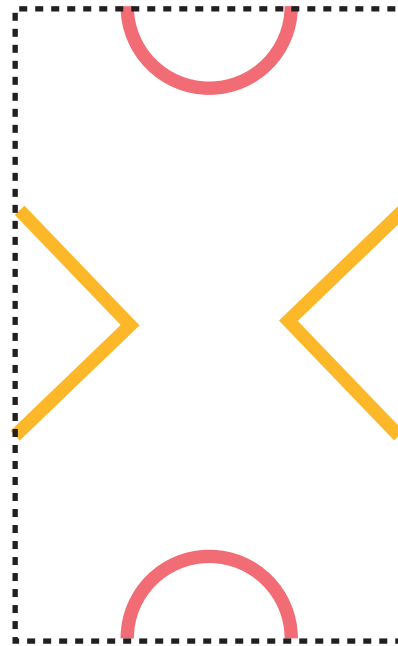



はこの形

はこをつくろう③

ねん	くみ	ばん
<input type="text"/>	<input type="text"/>	<input type="text"/>
年	組	番
なまえ		
<input type="text"/>		
名前		

つぎの…を切りとり、セロハンテープで形をつなげて、はこを作ってみよう。



\* 厚紙に印刷して使用してください。

