

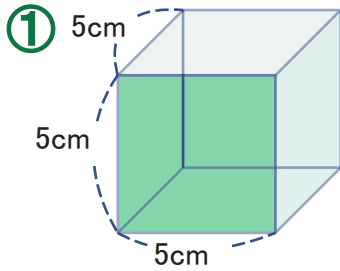


はこの形
はこをつくろう②

ねん 年 くみ 組 ばん 番

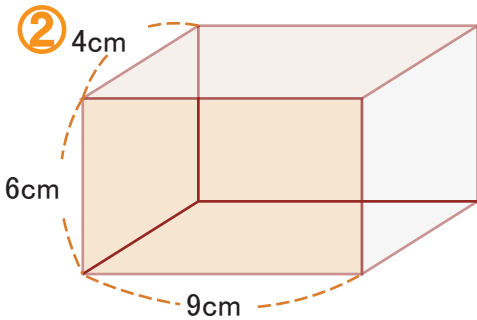

なまえ 名前

1. 竹ひごをつかって、下のよう^づな形を作ろうと思います。



①の形について答えましょう。
ひごの数を書きましょう。

cm のひごは、 本




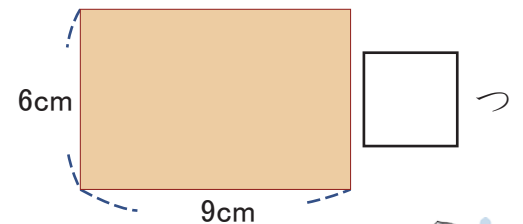
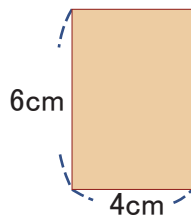
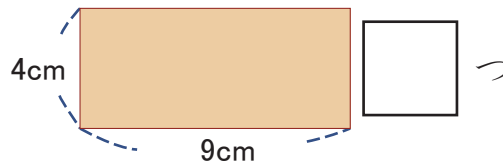
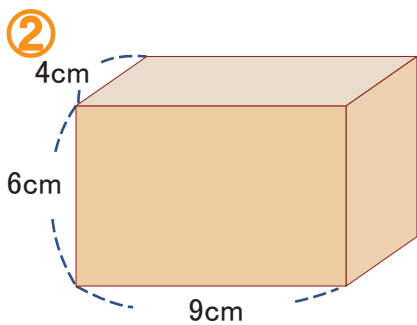
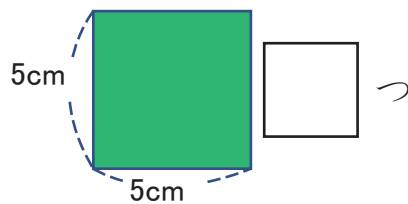
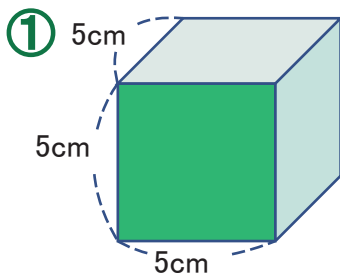
②の形について答えましょう。

4cm のひごは、 本

6cm のひごは、 本

9cm のひごは、 本

2. つぎの形を見て、^{めん}面はそれぞれいくつあるか答えましょう。



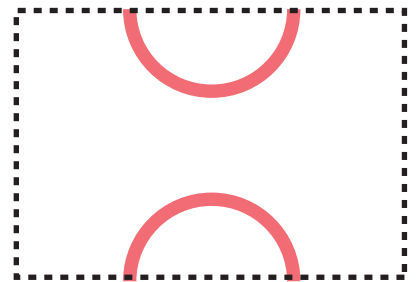



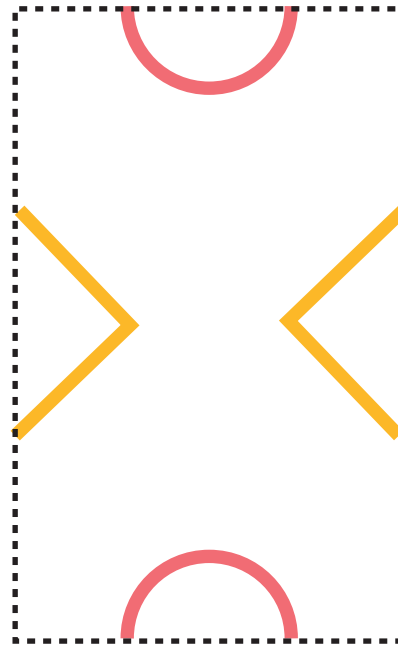



はこの形

はこをつくろう③

ねん	くみ	ばん
<input type="text"/>	<input type="text"/>	<input type="text"/>
年	組	番
なまえ		
<input type="text"/>		
名前		

つぎの…を切りとり、セロハンテープで形をつなげて、はこを作ってみよう。



* 厚紙に印刷して使用してください。

