



重さのたんいとはかり方
はかりのよみ方

年 組 番
名前


1 おもいくつかの重さでしょう。



(2つ)

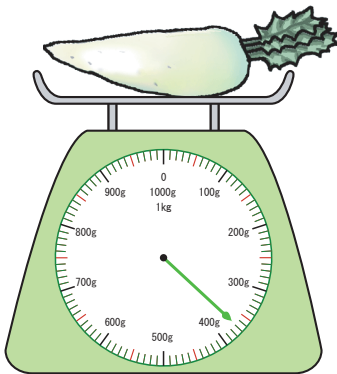


(3つ)

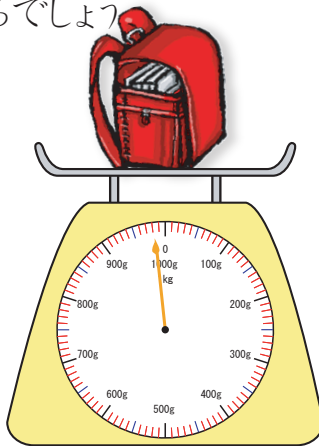


(4つ)

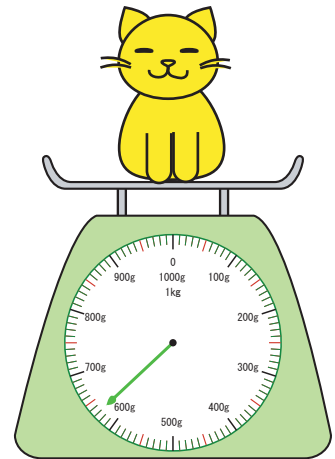
2 めもりは、いくらをさしているでしょう。



370 g

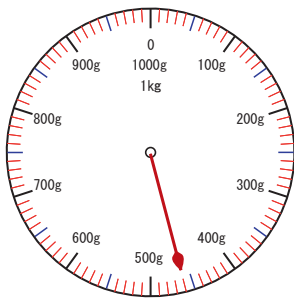


980 g

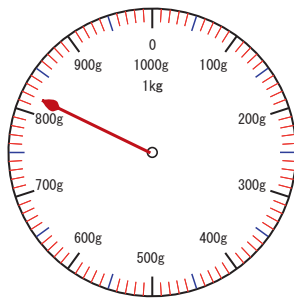


630 g

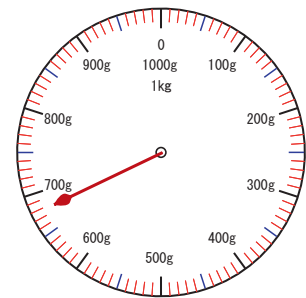
3 はかりにはりをかき入れましょう。



460 g



820 g



680 g



重さのたんいとはかり方

重さのたんい①

年 組 番
名前



思い出してみよう
 $1\text{ kg} = 1000\text{ g}$

□にあてはまる数を書きましょう。

- 1 2000g = 2 kg
- 2 1200g = 1 kg 200 g
- 3 5300g = 5 kg 300 g
- 4 3260g = 3 kg 260 g
- 5 4220g = 4 kg 220 g
- 6 1050g = 1 kg 50 g
- 7 6030g = 6 kg 30 g
- 8 7001g = 7 kg 1 g



重さのたんいとはかり方

重さのたんい②

年 組 番
名前

		kg			g
1 kg	=	1	0	0	0

□にあてはまる数を書きましょう。

- 1 6kg = 6000 g
- 2 9kg = 9000 g
- 3 5kg685g = 5685 g
- 4 3kg400g = 3400 g
- 5 2kg78g = 2078 g
- 6 1kg20g = 1020 g
- 7 9kg3g = 9003 g
- 8 8kg5g = 8005 g

わからなくなっちゃった人は
上のヒントに数字をあてはめて
考えてみてごらん



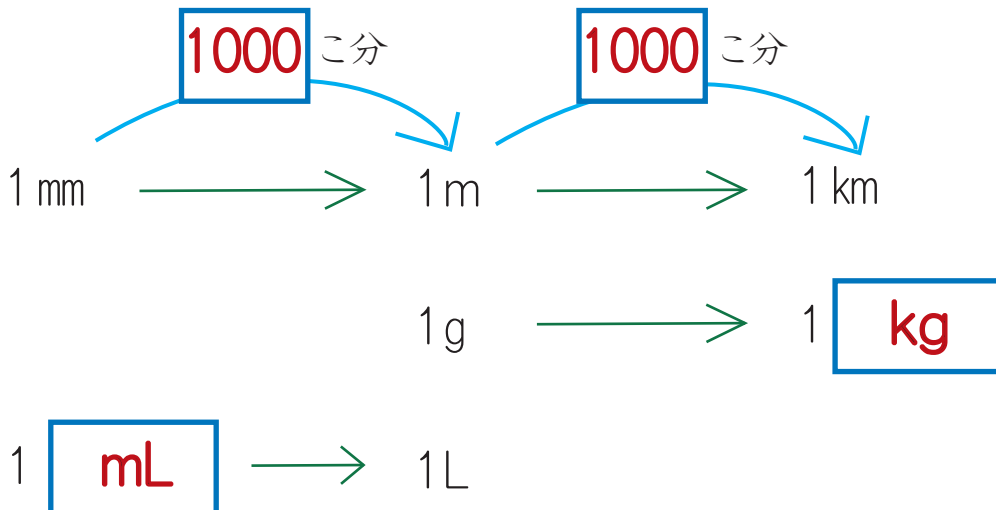
Blank area for drawing or writing, with a small crab illustration at the bottom left.

重さのたんいとはかり方

長さや重さ、
かさのたんい

年 組 番
名前

1 にあてはまる数やたんい単位を書きましょう。



2 にあてはまる数を書きましょう。

① 5km = m

② 1m = mm

③ 1kg = g

④ 1L = mL

⑤ 5000m = km

⑥ 4000mm = m

⑦ 2000g = kg

⑧ 9000mL = L

