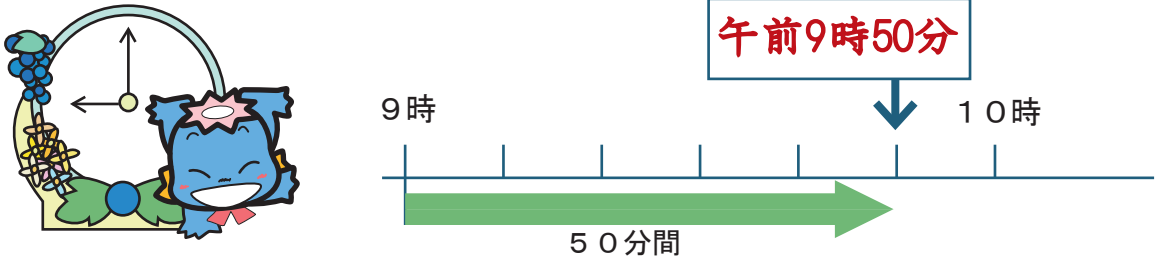


時こくと時間のもともめ方

年 組 番  
名前

時こくと時間のもともめ方①

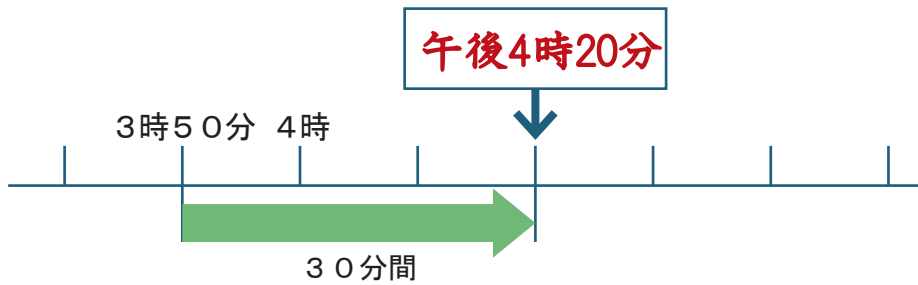
1 みずべーは、いずみの森の池で午前9時から50分間つりをしました。午前9時から50分後の時こくは、何時何分ですか。



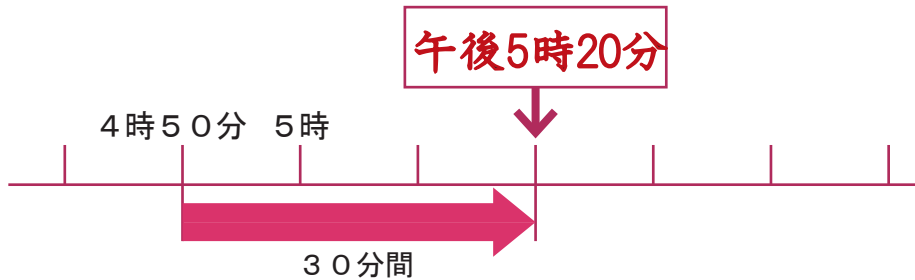
2 午前10時30分から50分後の時こくは、何時何分ですか。



3 午後3時50分から30分後の時こくは、何時何分ですか。



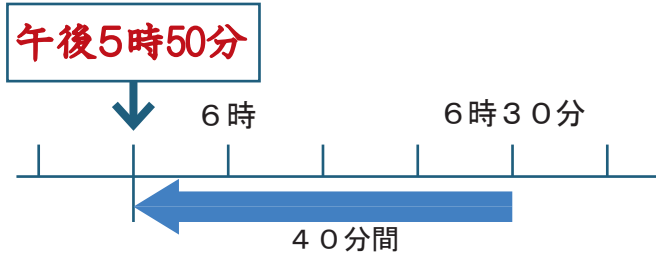
4 午後4時50分から30分後の時こくは、何時何分ですか。



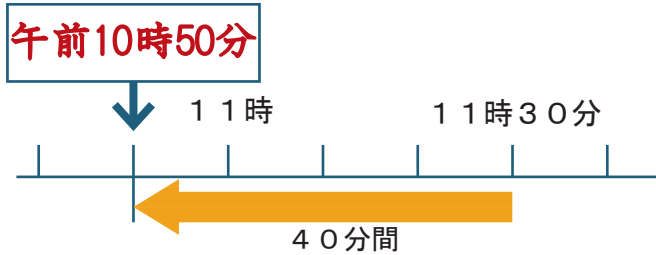
年 組 番  
名前

時こくと時間のもともめ方②

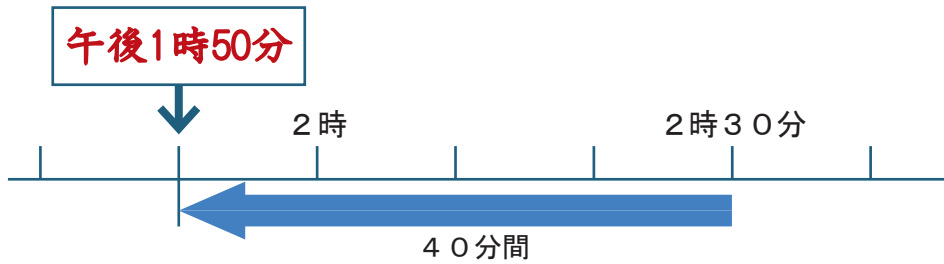
1 かのんは、夕ごはんにかレーを作りました。かレーは午後6時30分にできあがりました。かレーを作るのに40分かかりました。かレーを作り始めたのは、何時何分でしょう。



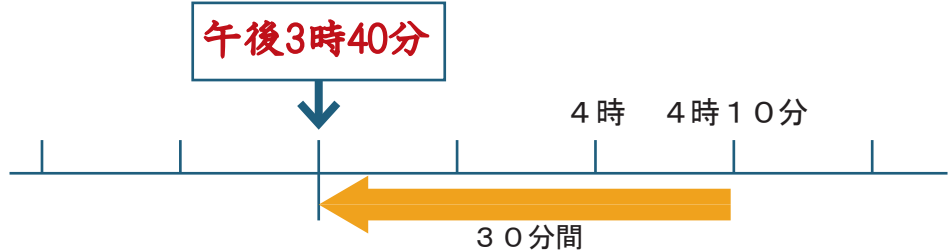
2 午前11時30分の40分前の時こくをもとめましょう。



3 午後2時30分の40分前の時こくをもとめましょう。



4 午後4時10分の30分前の時こくをもとめましょう。




時くと時間のもめ方

### 短い時間

年 組 番

名前

1 午後2時50分から午後3時10分までおにごっこをして遊びました。  
おにごっこをして遊んでいた時間は、どれだけでしょう。




20分間

2 もくとみずべーは、紙ひこうきをとばして遊びました。  
紙ひこうきがとんでいた時間をしらべましょう。



もくは

12秒



みずべーは

9秒

3 どちらが何秒長くとんだでしょう。

もくの方が3秒長くとんだ。



1分より短い時間をはかるのには、  
秒というたんいを使います。  
60秒が1分です。  
1分 = 60秒



時こくと時間のもともめ方

やってみよう

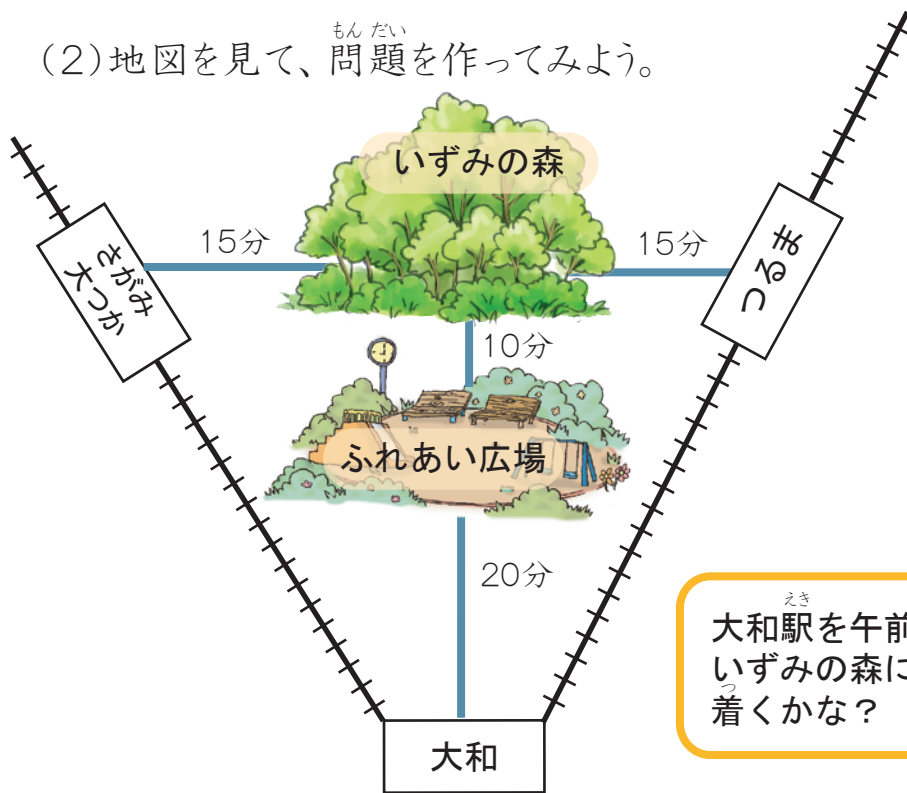
年 組 番

名前

(1) 右と左が表す時こくで、同じものを線でおすびましょう。

6時半	●	●	午前7時20分
7時20分	●	●	午後6時15分
7時10分前	●	●	午前6時30分
18時15分	●	●	午後5時30分
17時30分	●	●	午前6時50分

(2) 地図を見て、問題を作ってみよう。



問題

(例) 大和駅を9時に  
でて、ふれあい広場  
を通過して、泉の森  
まで歩きます。泉の森  
には、何時何分に着  
くでしょうか。

大和駅を午前9時に出ると  
いずみの森には、何時に  
着くかな？

