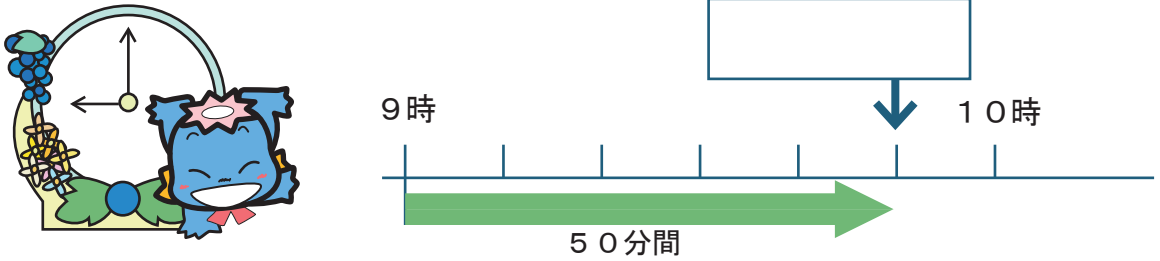


時こくと時間のもともめ方

年  組  番  
名前

時こくと時間のもともめ方①

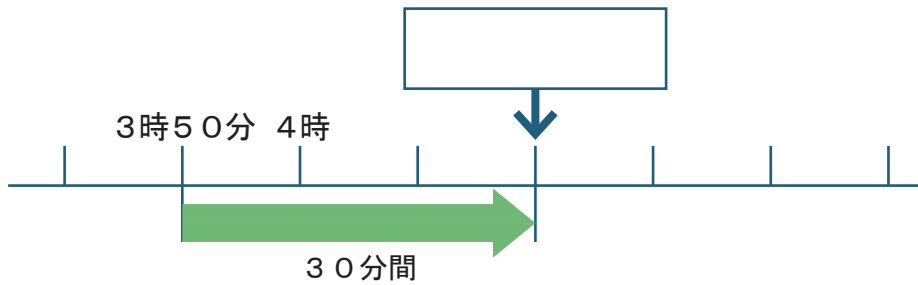
1 みずべーは、いずみの森の池で午前9時から50分間つりをしました。午前9時から50分後の時こくは、何時何分ですか。



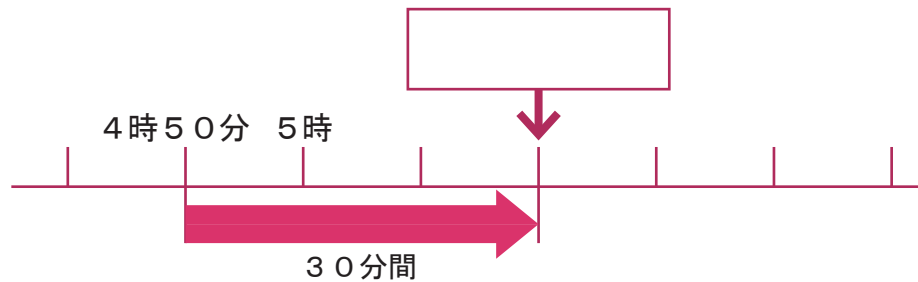
2 午前10時30分から50分後の時こくは、何時何分ですか。



3 午後3時50分から30分後の時こくは、何時何分ですか。



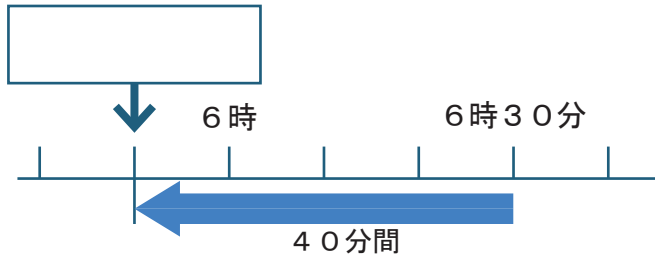
4 午後4時50分から30分後の時こくは、何時何分ですか。



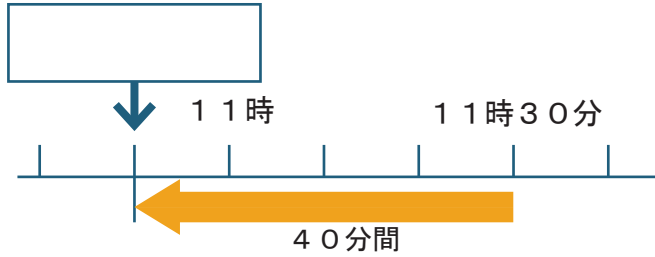
年  組  番  
 名前

時こくと時間のもめ方②

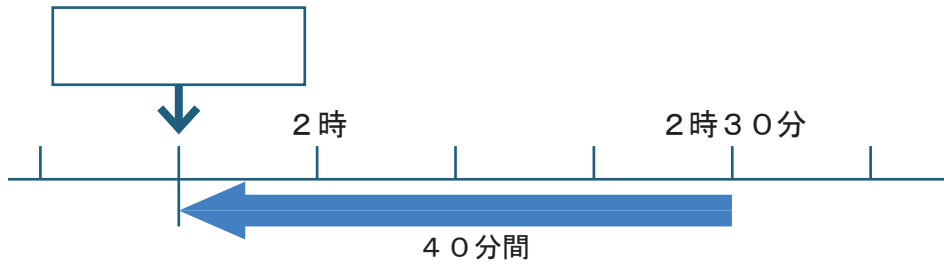
1 かのんは、夕ごはんにかレーを作りました。かレーは午後6時30分にできあがりました。かレーを作るのに40分かかりました。かレーを作り始めたのは、何時何分でしょう。



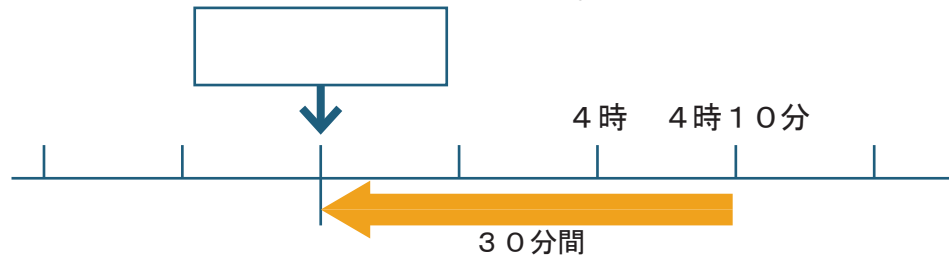
2 午前11時30分の40分前の時こくをもとめましょう。

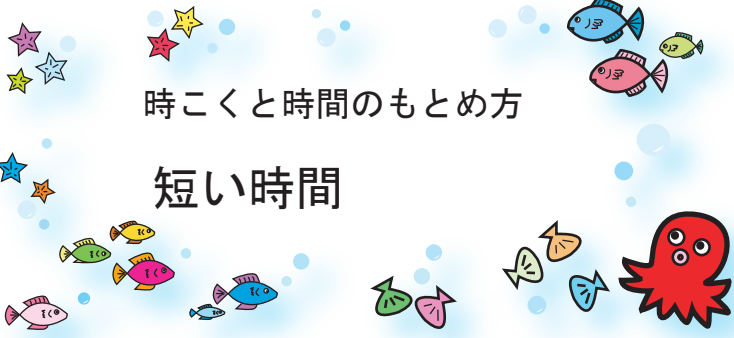


3 午後2時30分の40分前の時こくをもとめましょう。



4 午後4時10分の30分前の時こくをもとめましょう。






時くと時間のもめ方

短い時間

年 組 番

名前

1 午後2時50分から午後3時10分までおにごっこをして遊びました。  
おにごっこをして遊んでいた時間は、どれだけでしょう。




[ ]

2 もくとみずべーは、紙ひこうきをとばして遊びました。  
紙ひこうきがとんでいた時間をしらべましょう。



もくは

[ ]



みずべーは

[ ]


3 どちらが何秒長くとんだでしょう。

[ ]



1分より短い時間をはかるのには、  
秒というたんいを使います。  
60秒が1分です。

1分 = 60秒



時こくと時間のもともめ方

やってみよう

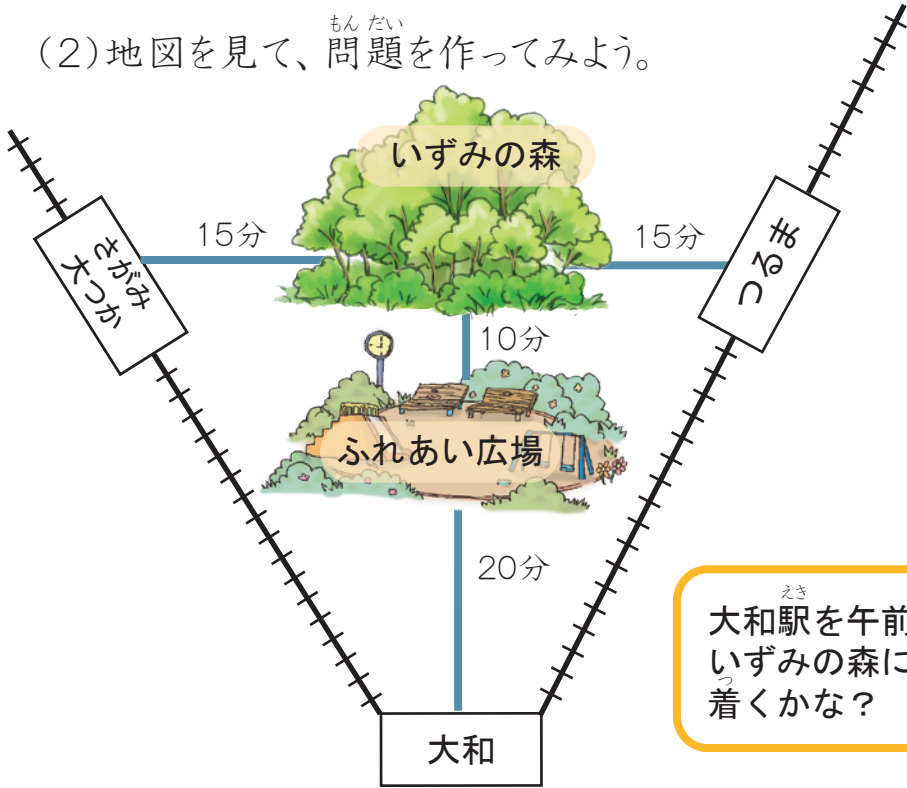
年 組 番

名前

(1) 右と左が表す時こくで、<sup>あらわ</sup>同じものを線でむすびましょう。

- |        |   |         |
|--------|---|---------|
| 6時半    | • | 午前7時20分 |
| 7時20分  | • | 午後6時15分 |
| 7時10分前 | • | 午前6時30分 |
| 18時15分 | • | 午後5時30分 |
| 17時30分 | • | 午前6時50分 |

(2) 地図を見て、<sup>もんだい</sup>問題を作ってみよう。



問題

-----

-----

-----

-----

<sup>えき</sup>大和駅を午前9時に出ると  
いずみの森には、何時に  
着くかな？

