


わり算

1人分の数をもとめる計算

年 組 番
名前

(1)クッキーが、12こやけました。おさらにクッキーをかいて、4人で同じ数ずつ分けましょう。




12このクッキーを、4人で同じ数ずつ分けると1人分は3こになります。
このことを式で次のように書きます。

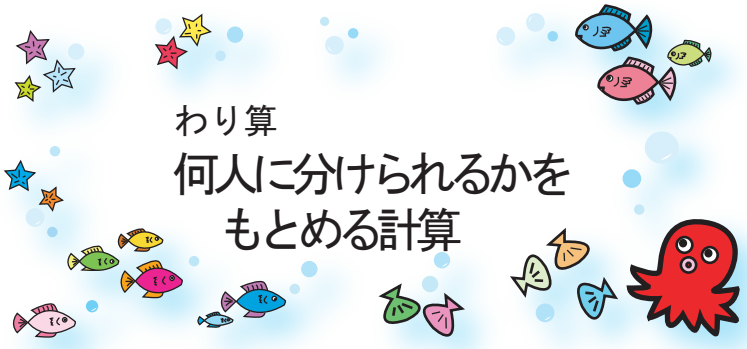
$$12 \div 4 = 3$$

(2)15このいちごを、3人で同じ数ずつ分けると1人分は何こになりますか。

式 $15 \div 3 = 5$

答え 5こ



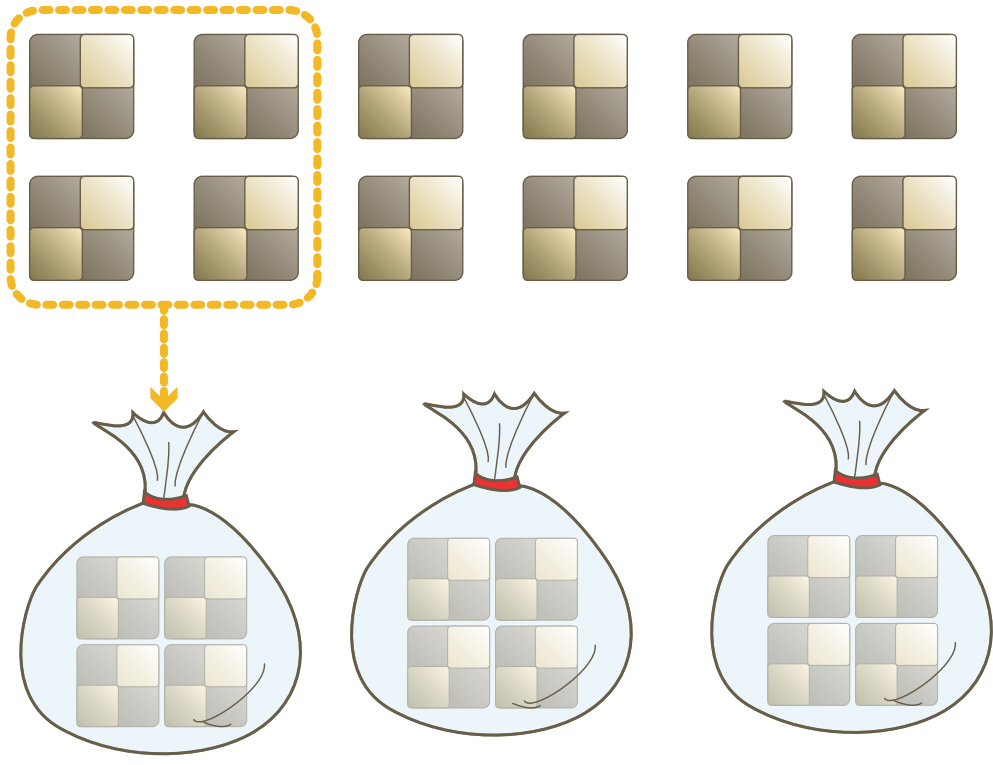


わり算
何人に分けられるかを
もとめる計算

年 組 番

名前

1 クッキーが12こやけました。4こずつふくろにいれると何ふくろできるでしょうか。ふくろの絵をかいて、その中にクッキーをかきましょう。



12このクッキーを1ふくろに4こずつ入れると3ふくろに分けられます。このことを式で次のように書きます。

$$12 \div 4 = 3$$

2 バラの花が30本あります。5本ずつたばにすると何たばできますか。

式 $30 \div 5 = 6$

答え

6たば



Blank box for drawing or writing.

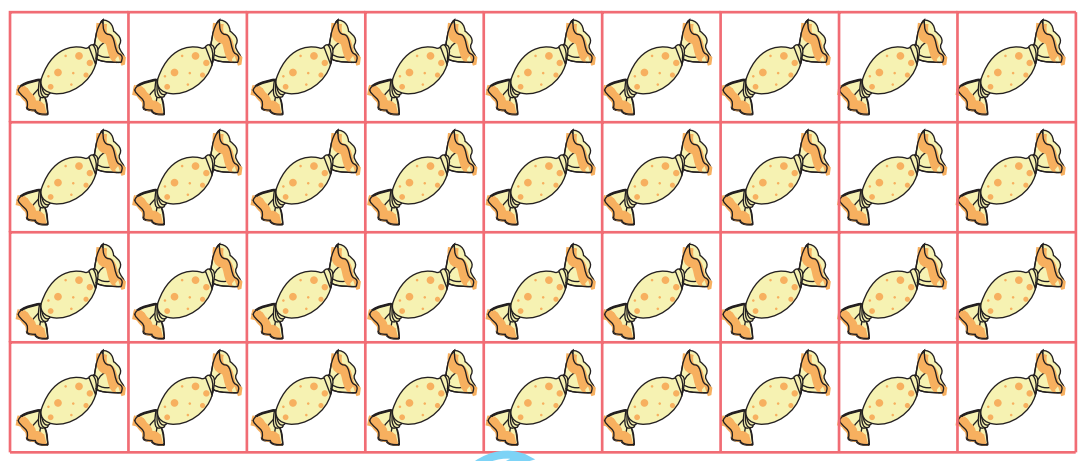


わり算
問題作り

年 組 番

名前

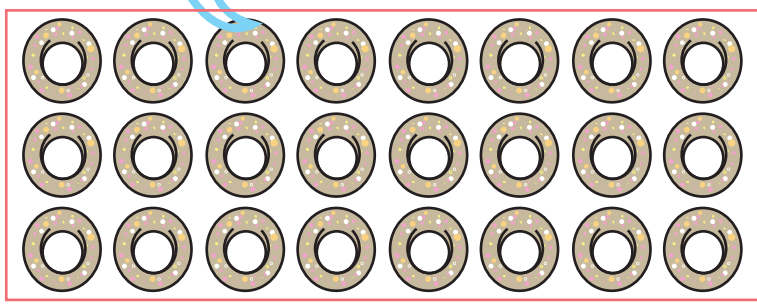
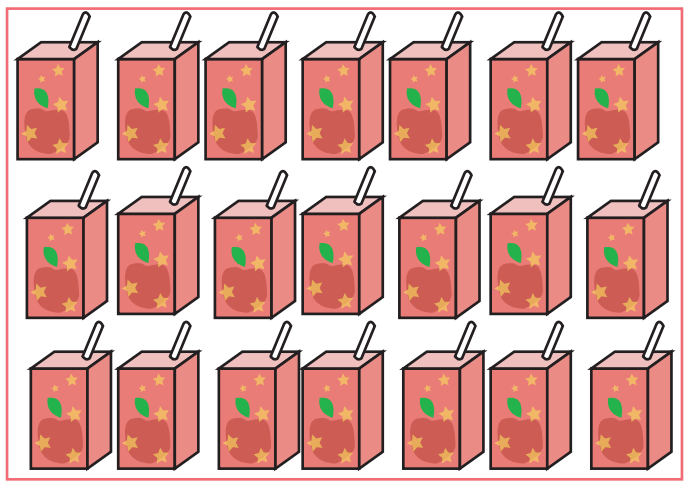
絵を見て、いろいろなわり算の問題をつくりましょう。



(例)あめが36こあります。
9人で同じ数ずつ分けると
1人分は、何こになりますか。

(例)ジュースが21本あります。
1人に3本ずつくばると、何人
に分けられますか。

(例)ドーナツが32こあります。
1人に4こずつ分けると、何人
に分けられますか。




わり算

0や1のわり算

年 組 番
 名前



1 ^{はこ}箱の中に入っているジュースを、3人で同じ数ずつ分けます。1人分は何本になるでしょうか。

6本入っているとき



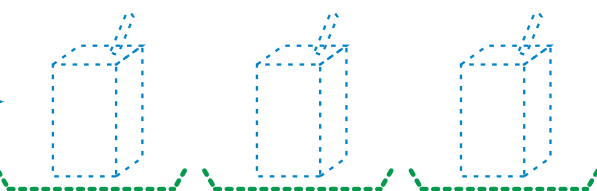
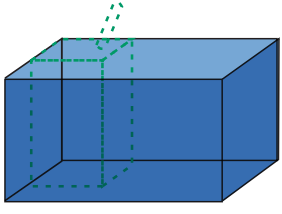
$6 \div 3 = 2$

3本入っているとき



$3 \div 3 = 1$

0本のとき




$0 \div 3 = 0$

0を0でないどんな数でわっても答えはいつも0になります。

2 計算しましょう。

$0 \div 4 = 0$ $3 \div 3 = 1$ $0 \div 9 = 0$
 $6 \div 6 = 1$ $0 \div 5 = 0$ $8 \div 8 = 1$




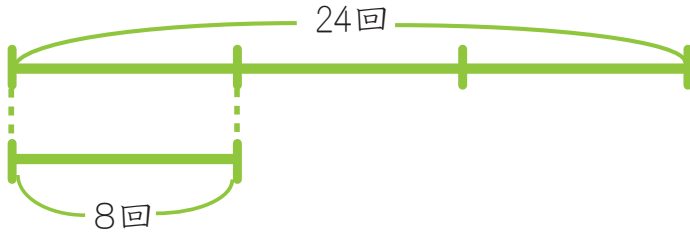
わり算

何倍かをもとめる計算

年 組 番
名前



なわとびで、かのんは24回とびました。もっくは、8回とびました。
かのんがとんだ回数は、もっくのとんだ回数の何倍ですか。



式

$$24 \div 8 =$$

3

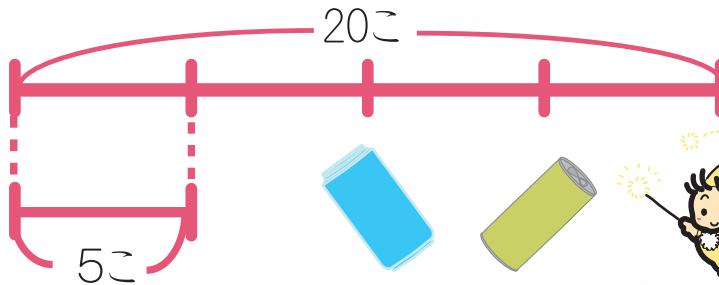
答え

3 倍

何倍かをもとめるときは、わり算を使います。



みずべーたちは、いずみの森で空きかんをひろいました。
スチールかんを20こ アルミかんを5こ ひろいました。
ひろったスチールかんは、アルミかんの何倍ですか。



式

$$20 \div 5 = 4$$

答え

4倍





わり算

力をつけよう①

年 組 番

名前

わり算をしましょう。


÷	1	2	3	4	5	6	7	8	9
2	2	4	6	8	10	12	14	16	18



÷	1	2	3	4	5	6	7	8	9
5	5	10	15	20	25	30	35	40	45



÷	1	9	4	7	3	5	2	6	8
4	4	36	16	28	12	20	8	24	32



÷	5	2	9	8	6	1	3	4	7
8	40	16	72	64	48	8	24	32	56



Large empty box for drawing or writing.



わり算

力をつけよう②

年 組 番
名前



答えをもとめる式が、 $9 \div 3$ になるものをえらびましょう。

- ① あめが9こあります。友だちに3こあげると、のこりは何こですか。
- ② 1はこに9こ入っているチョコレートが3箱あります。チョコレートは全部で何こありますか。
- ③ 計算を3日間で9問ときました。毎日、同じ問題数をといたとすると、1日何問といたことになりますか。
- ④ ノートが9さつあります。1人に3さつずつ分けると、何人に分けられますか。

答え

③、④



計算をしましょう。

- ① $54 \div 9 = 6$
- ② $9 \div 3 = 3$
- ③ $16 \div 8 = 2$
- ④ $63 \div 7 = 9$
- ⑤ $24 \div 6 = 4$
- ⑥ $25 \div 5 = 5$
- ⑦ $72 \div 9 = 8$
- ⑧ $14 \div 2 = 7$
- ⑨ $32 \div 4 = 8$




みずべーともっくはザリガニつりに行きました。みずべーはザリガニを18ひき、もっくは6ひきつりました。みずべーのつったザリガニの数は、もっくのつったザリガニの数の何倍ですか。

式 $18 \div 6 = 3$

答え

3 倍



わり算

力をつけよう③

年 組 番

名前

4

5

6

7

8

14

20

24

35

9つの数カードがあります。この9つの数カードを組みあわせて、わりきれぬわり算の式をつくりましょう。
(同じカードを何回使ってもよいです。)

35

÷

7

24

÷

4

35

÷

5

20

÷

5

24

÷

8

20

÷

4

24

÷

6

14

÷

7



ぼくは、4つできたよ！
きみは、何こできるかな？

