


わり算

1人分の数をもとめる計算

年 組 番  
名前

(1)クッキーが、12こやけました。おさらにクッキーをかいて、4人で同じ数ずつ分けましょう。




12このクッキーを、4人で同じ数ずつ分けると1人分は3こになります。  
このことを式で次のように書きます。

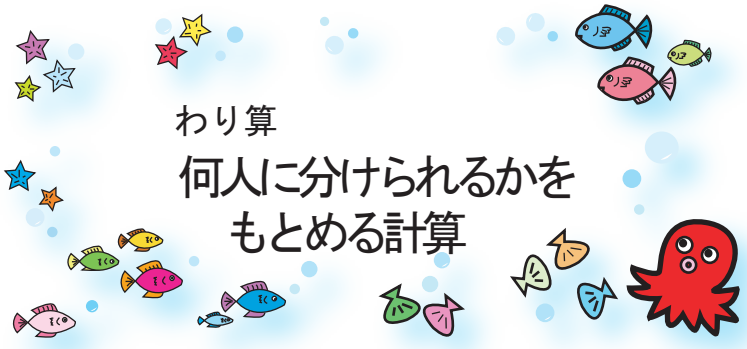
$$12 \div 4 = 3$$

(2)15このいちごを、3人で同じ数ずつ分けると1人分は何こになりますか。

式

答え







わり算

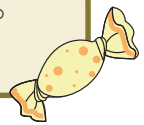
何人に分けられるかを  
もとめる計算

年  組  番  
 名前

1 クッキーが12こやけました。4こずつふくろにいれると何ふくろできるでしょうか。ふくろの絵をかいて、その中にクッキーをかきましょう。



12このクッキーを1ふくろに4こずつ入れると3ふくろに分けられます。このことを式で次のように書きます。




$$12 \div 4 = 3$$

2 バラの花が30本あります。5本ずつたばにすると何たばできますか。

式

答え

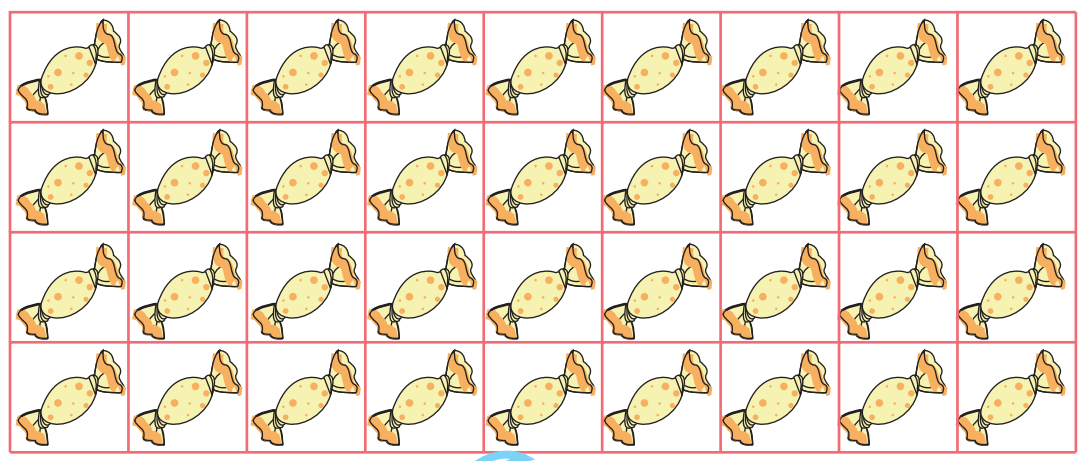




わり算  
問題作り

年 組 番  
名前

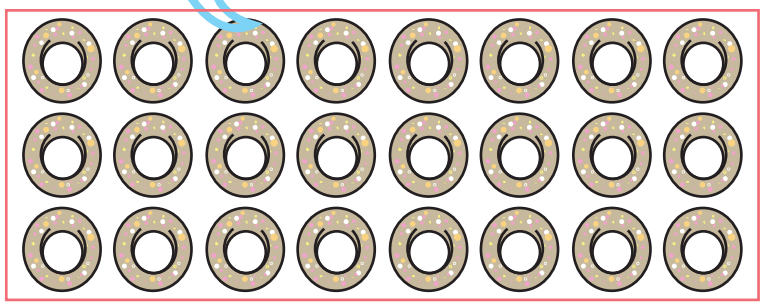
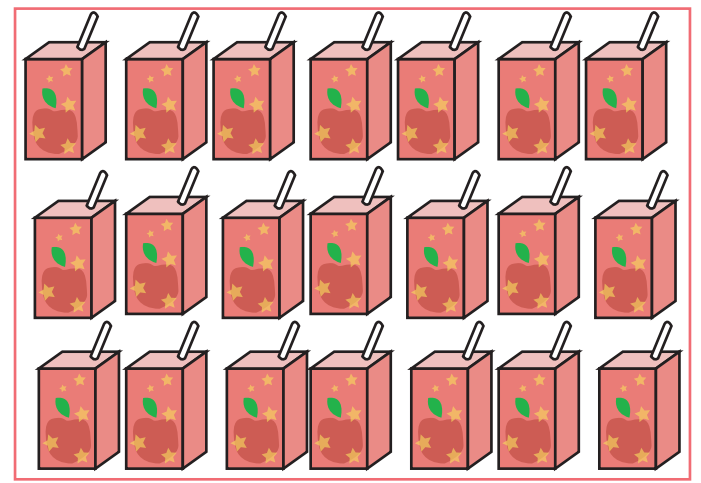
絵を見て、いろいろなわり算の問題をつくりましょう。



Blank speech bubble for writing a problem.

Blank speech bubble for writing a problem.

Blank speech bubble for writing a problem.



Large green-bordered box for drawing or writing.


わり算

0や1のわり算

年 組 番  
 名前



1 <sup>はこ</sup>箱の中に入っているジュースを、3人で同じ数ずつ分けます。1人分は何本になるでしょうか。

6本入っているとき



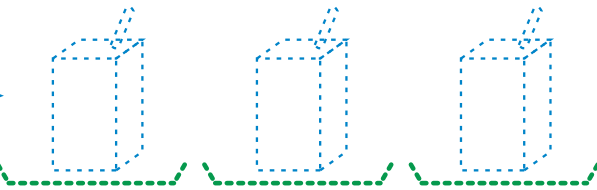
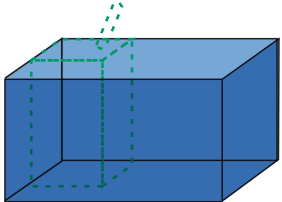
$6 \div 3 = \square$

3本入っているとき



$3 \div 3 = \square$

0本のとき



$0 \div 3 = \square$

0を0でないどんな数でわっても答えはいつも0になります。

2 計算しましょう。

$0 \div 4 = \square$

$3 \div 3 = \square$

$0 \div 9 = \square$

$6 \div 6 = \square$

$0 \div 5 = \square$

$8 \div 8 = \square$




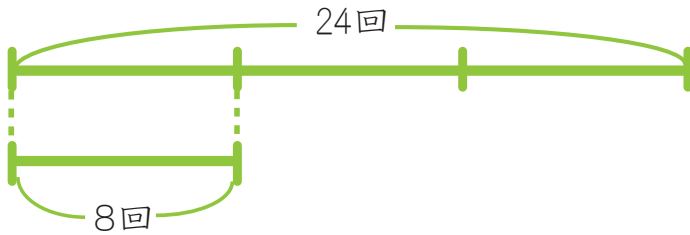
わり算

# 何倍かをもとめる計算

年 組 番  
名前



なわとびで、かのんは24回とびました。もっくは、8回とびました。  
かのんがとんだ回数は、もっくのとんだ回数なんばいの何倍ですか。



式

$$24 \div 8 = \square$$

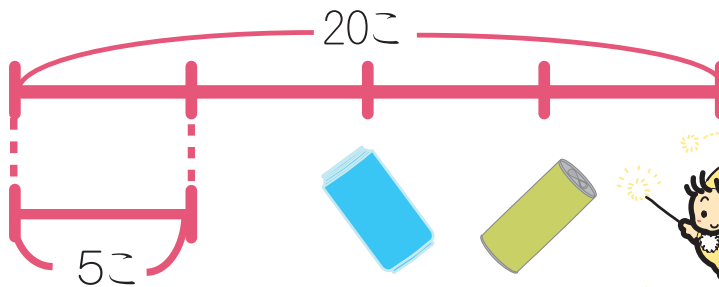
答え

倍

何倍かをもとめるときは、わり算わりを使います。



みずべーたちは、いずみの森で空きかんをひろいました。  
スチールかんを20こ アルミかんを5こ ひろいました。  
ひろったスチールかんは、アルミかんの何倍ですか。



式

答え






わり算

力をつけよう①

年  組  番  
 名前

わり算をしましょう。


÷	1	2							
2	2	4	6	8	10	12	14	16	18



÷									
5	5	10	15	20	25	30	35	40	45



÷									
4	4	36	16	28	12	20	8	24	32



÷									
8	40	16	72	64	48	8	24	32	56





わり算

# 力をつけよう②

	年	組	番
名前			



答えをもとめる式が、 $9 \div 3$ になるものをえらびましょう。

- ① あめが9こあります。友だちに3こあげると、のこりは何こですか。
- ② 1はこに9こ入っているチョコレートが3箱あります。チョコレートは全部で何こありますか。
- ③ 計算を3日間で9問とききました。毎日、同じ問題数をといたとすると、1日何問といたことになりますか。
- ④ ノートが9さつあります。1人に3さつずつ分けると、何人に分けられますか。

答え



計算をしましょう。

- |               |               |               |
|---------------|---------------|---------------|
| ① $54 \div 9$ | ② $9 \div 3$  | ③ $16 \div 8$ |
| ④ $63 \div 7$ | ⑤ $24 \div 6$ | ⑥ $25 \div 5$ |
| ⑦ $72 \div 9$ | ⑧ $14 \div 2$ | ⑨ $32 \div 4$ |



みずべーともっくはザリガニつりに行きました。みずべーはザリガニを18ひき、もっくは6ひきつりました。みずべーのつったザリガニの数は、もっくのつったザリガニの数の何倍ですか。

式

答え




わり算

力をつけよう③

年  組  番  
名前


- 4
- 5
- 6
- 7
- 8
- 14
- 20
- 24
- 35

9つの数カードがあります。この9つの数カードを組みあわせて、わりきれぬわり算の式をつくりましょう。  
(同じカードを何回使ってもよいです。)



<input type="text"/>	÷	<input type="text"/>
<input type="text"/>	÷	<input type="text"/>
<input type="text"/>	÷	<input type="text"/>
<input type="text"/>	÷	<input type="text"/>

<input type="text"/>	÷	<input type="text"/>
<input type="text"/>	÷	<input type="text"/>
<input type="text"/>	÷	<input type="text"/>
<input type="text"/>	÷	<input type="text"/>



ぼくは、4つできたよ！  
きみは、何こできるかな？

