

たし算とひき算の筆算

たし算 くり上がり1回

年 組 番

名前



	1	3	4
+	7	2	8



	3	2	5
+	2	6	9



	4	1	9
+	3	1	8



	4	8	6
+	4	0	5



	3	0	8
+	2	0	5



	1	2	5
+	5	6	5



	4	3	8
+	2	5	7



		5	8
+	1	0	6





たし算とひき算の筆算

たし算 くり上がり2回


年  組  番  
 名前



	5	6	7
+	1	7	8



	1	4	8
+	2	7	8



	1	3	6
+	2	6	8



	3	2	8
+	4	7	2




	4	0	8
+	4	9	3




	5	5	3
+		4	7

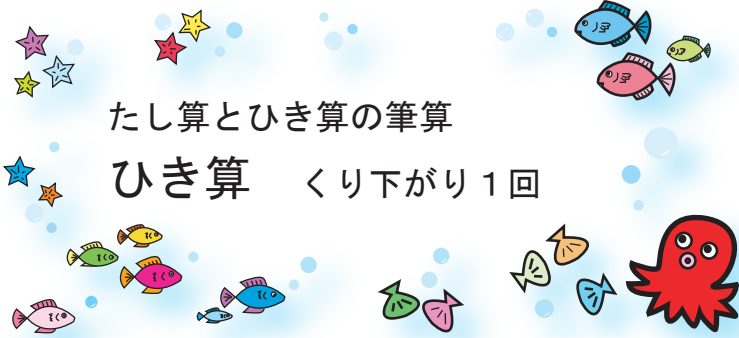


	6	0	8
+	5	9	2



	7	3	6
+	2	6	4





たし算とひき算の筆算

ひき算 くり下がりがり1回

年  組  番  
 名前

1

	4	0	8
-	1	7	6
-----			

2

	4	7	6
-	2	5	8
-----			

3

	7	9	2
-	3	6	6
-----			

4

	8	8	8
-	4	5	9
-----			

5

	5	0	6
-	2	4	5
-----			

6

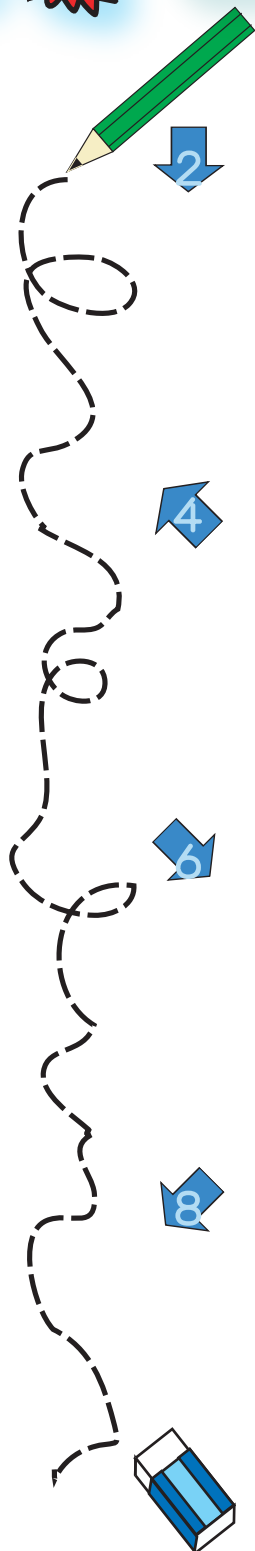
	9	0	8
-	6	5	8
-----			

7

	6	2	9
-		7	2
-----			

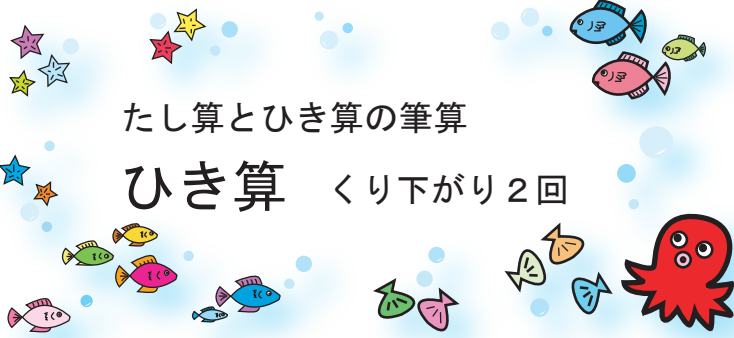
8

	4	1	6
-		2	4
-----			



たし算とひき算の筆算

ひき算 くり下がりがり2回



年 組 番  
名前



	3	0	5
-	1	7	6



	4	0	6
-	2	5	8



	7	0	2
-	3	6	6



	8	0	8
-	4	5	9



	5	0	0
-	2	4	5




	9	0	0
-	6	5	8



	6	0	8
-			9



	4	0	0
-			9



たし算とひき算の筆算

1000の筆算

年 組 番

名前

1 つぎの計算を筆算でしましょう。

①  $1000 - 632$

②  $1000 - 673$

③  $1000 - 49$

④  $1002 - 398$

⑤  $1004 - 75$

⑥  $1006 - 9$

2 答えが1000になる<sup>しき</sup>式を3つつくりましょう。

+  = 1000     +  = 1000

+  = 1000

3 □にあてはまる数を書きましょう。

+ 77 = 1000

+ 163 = 1005



たし算とひき算の筆算

# 大きい数の筆算

年 組 番

名前

0から9までの10まいのカードから8まいのカードをえらんで、4けたの数を2つつくります。これらの数で、たし算とひき算をしましょう。

0	1	2	3	4	5	6	7	8	9
---	---	---	---	---	---	---	---	---	---

ころんは次の数をつくりました。

3	5	7	1	6	2	4	8
---	---	---	---	---	---	---	---

	3	5	7	1
+	6	2	4	8
-----				

	6	2	4	8
-	3	5	7	1
-----				

計算をしましょう。

1

	1	4	3	6
+	2	5	7	8
-----				

2

	6	0	5	4
-	2	8	5	2
-----				

3

	7	3	4	5
+	1	6	5	2
-----				

4


	9	1	0	4
-	7	6	8	5
-----				

5

	4	9	5	7
+			4	3
-----				

6

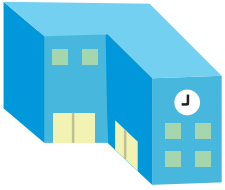
	5	0	3	1
-			4	9
-----				



文章問題

	年	組	番
名前			

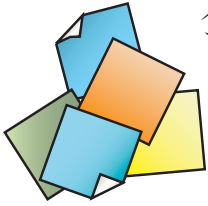
① まさふみくんの学校の子どもは、全部で**1056人**です。  
そのうち男子が**536人**です。女子は、何人でしょう。



式 \_\_\_\_\_

答え \_\_\_\_\_


② ゆかりさんは、**234まい**おり紙を持っています。  
おかあさんが、おり紙を**427まい**くれました。  
全部で何まいになりましたか。



式 \_\_\_\_\_

答え \_\_\_\_\_



③ なみえさんは、おこづかいを**980円**持っています。  
のりこさんは、なみえさんより**168円**だけ少ないそうです。  
のりこさんの持っているお金は、いくらでしょう。



式 \_\_\_\_\_

答え \_\_\_\_\_

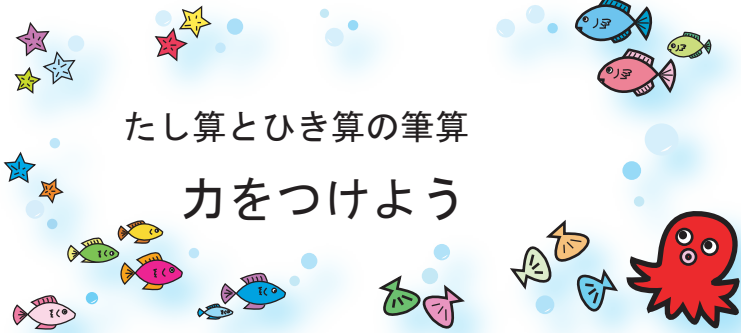

④ 映画館<sup>えいがかん</sup>で1回めに**268人**お客さんが来ました。  
次の回では、**392人**のお客さんが来ました。  
あわせて何人のお客さんが来ましたか。



式 \_\_\_\_\_

答え \_\_\_\_\_



たし算とひき算の筆算

力をつけよう

年  組  番  
 名前

あなのあいってしまったところには、どんな数字がかくされていますか？

1

$$\begin{array}{r}
 \square 5 2 \\
 + 8 \square \\
 \hline
 9 3 6
 \end{array}$$

2

$$\begin{array}{r}
 7 2 \square \\
 + 5 9 \\
 \hline
 \square 8 4
 \end{array}$$

3

$$\begin{array}{r}
 7 8 \\
 + \square 5 1 \\
 \hline
 3 \square 9
 \end{array}$$

4

$$\begin{array}{r}
 2 \square 1 \\
 + 1 5 9 \\
 \hline
 \square 0 0
 \end{array}$$

5

$$\begin{array}{r}
 3 1 \square \\
 - \square 6 \\
 \hline
 3 \square 4
 \end{array}$$

6

$$\begin{array}{r}
 8 \square 0 \\
 - 1 7 \\
 \hline
 7 8 \square
 \end{array}$$

