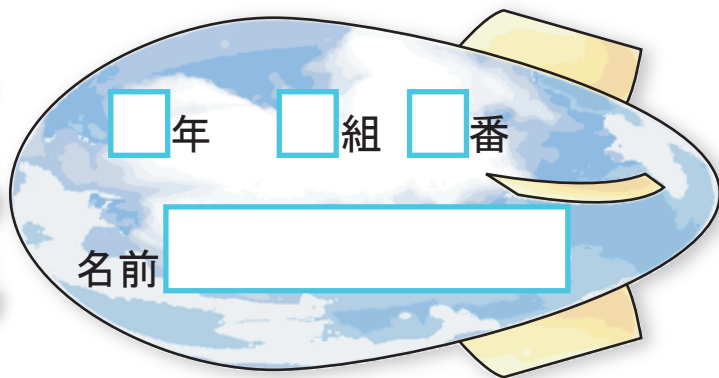




およその面積

およその面積

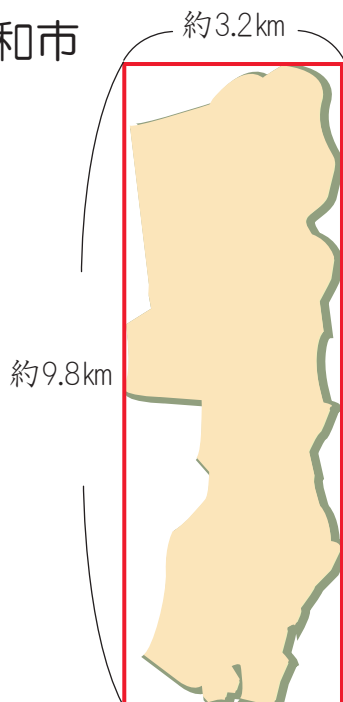


1 大和市は、東西約3.2km、南北約9.8kmです。大和市の面積の求め方を考えましょう。

① 大和市はおよそどんな形と見られますか。

長方形

大和市

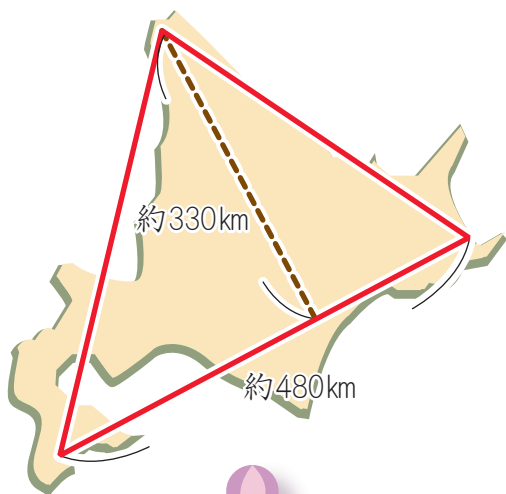


② 大和市のおよその面積を求めましょう。

$$\text{式 } 9.8 \times 3.2 = 31.36$$

約  $31.36\text{km}^2$

2 北海道の形を三角形とみて、およその面積を求めましょう。



$$\text{式 } 480 \times 330 \div 2 = 79200$$

約  $79200\text{km}^2$

