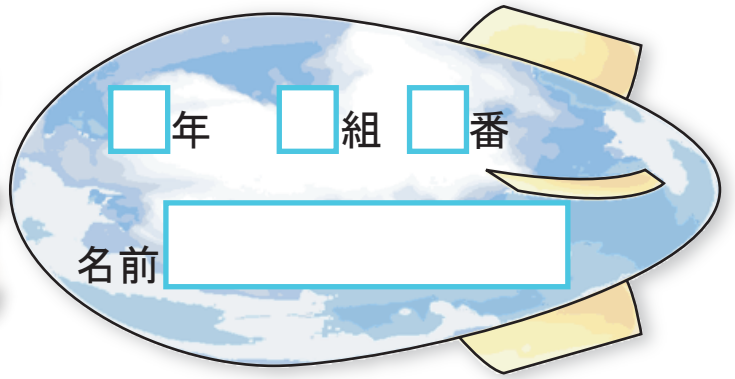




およその面積

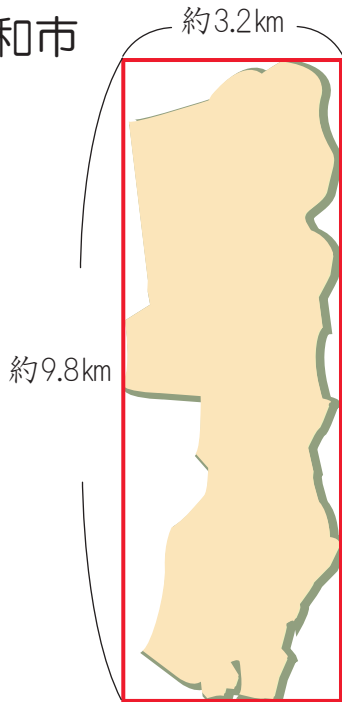
およその面積



1 大和市は、東西約3.2km、南北約9.8kmです。大和市の面積の求め方を考えましょう。

① 大和市はおよそどんな形と見られますか。

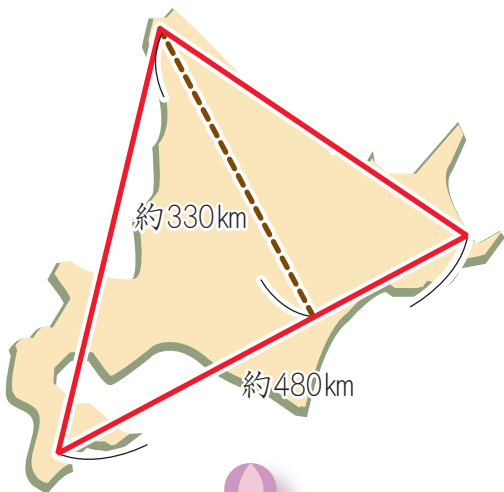
大和市



② 大和市のおよその面積を求めましょう。

式

2 北海道の形を三角形とみて、およその面積を求めましょう。



式

