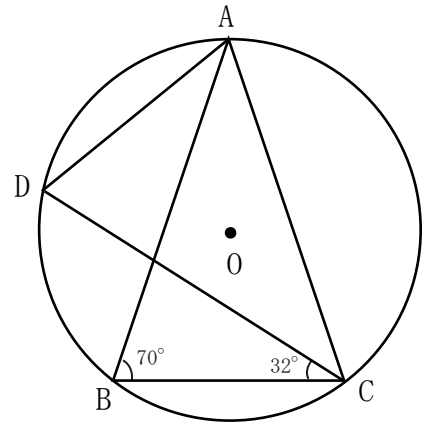


1

次の問いに答えなさい。

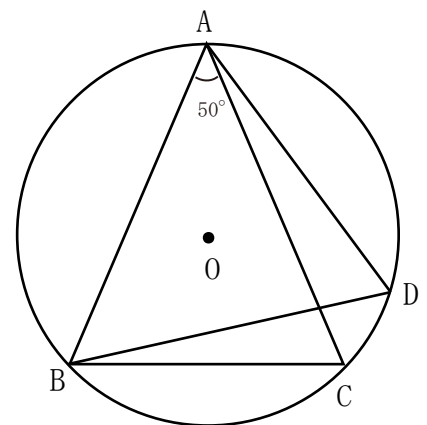
- (1) 右の図1において、3点A、B、Cは円Oの周上の点で、三角形ABCは $AB=AC$ 、 $\angle ABC=70^\circ$ の二等辺三角形である。また、点Dは点Cをふくまない $\widehat{AB}$ 上の点で、 $\angle BCD=32^\circ$ である。このとき、 $\angle CAD$ の大きさを求めなさい。

図1



- (2) 右の図2において、3点A、B、Cは円Oの周上の点で、三角形ABCは $AB=AC$ の二等辺三角形である。また、点Dは点Bをふくまない $\widehat{AC}$ 上の点で、2点A、Cとは異なる点である。 $\angle BAC=50^\circ$ のとき、 $\angle ADB$ の大きさを求めなさい。

図2



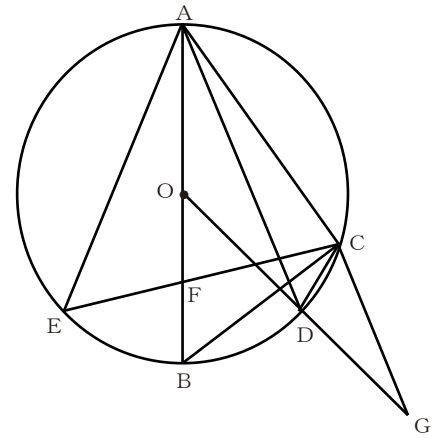
1

次の図のように、線分ABを直径とする円Oの周上に、2点A、Bとは異なる点Cを $AC > BC$ となるようにとり、点Aをふくまない $\widehat{BC}$ 上に2点B、Cとは異なる点Dをとる。

また、点Cをふくまない $\widehat{AB}$ 上に点Eを $\angle BAD = \angle BAE$ となるようにとり、線分ABと線分CEとの交点をFとする。

さらに、線分ODの延長上に点Gを $AD \parallel CG$ となるようにとる

このとき、次の問いに答えなさい。



- (1) 三角形AEFと三角形GCDが相似であることを次のように証明した。空欄にあてはまるものとして、には、最も適する弧を $\widehat{\quad}$ を用いて書き、には最も適する角を記号 $\angle$ を用いて書き、～には、【選択群】から最も適するものをそれぞれ1つずつ選び、その番号を答えなさい。

【証明】

$\triangle AEF$ と $\triangle GCD$ において、

まず  に対する円周角は等しいから、

$$\angle AEC = \angle ADC$$

よって、 $\angle AEF = \angle ADC$  …①

また、 から

$$\angle ADC = \angle GCD$$
 …②

①、②より、 $\angle AEF = \angle GCD$  …③

次に、仮定より

$$\angle BAE = \angle BAD$$

よって、 $\angle EAF = \angle OAD$  …④

また、 $\triangle OAD$ は $OA = OD$ の二等辺三角形だから、

$$\angle OAD = \text{}$$
 …⑤

さらに、 から、

$$\angle ODA = \angle OGC$$
 …⑥

④、⑤、⑥より、 $\angle EAF = \angle OGC$

よって、 $\angle EAF = \angle CGD$  …⑦

③、⑦より、 から

$$\triangle AEF \cong \triangle GCD$$

【選択群】

- 1, 対頂角は等しい
- 2, 平行線の同位角は等しい
- 3, 平行線の錯角は等しい
- 4, 3組の辺の比が等しい
- 5, 2組の辺の比が等しく、その間の角が等しい
- 6, 2組の角がそれぞれ等しい

- (2)  $\angle BAC = 41^\circ$ 、 $\angle BCD = 21^\circ$  のとき、 $\angle AFE$ の大きさを求めなさい。



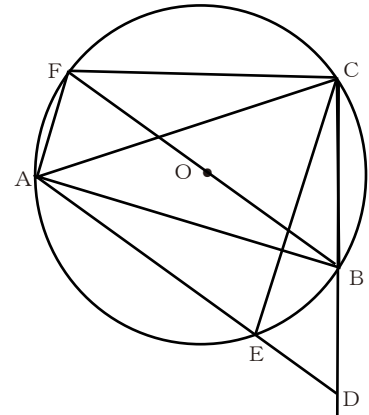
1

次の図のように、円Oの周上に3点A、B、Cを $AB = AC$ 、 $AB > BC$ となるようにとる。

また、線分CBをBの方向にのびした直線上に点Dを $AC = CD$ となるようにとり、線分ADと円Oとの交点で点Aとは異なる点Eとする。

さらに、点Bをふくまない $\widehat{AC}$ 上に点Fを $DA \parallel BF$ となるようにとる。

このとき、次の問いに答えなさい。



- (1) 三角形ACFと三角形DCEが合同であることを次のように証明した。空欄にあてはまるものとして、には、最も適する弧を $\frown$ を用いて書き、には最も適する角を記号 $\angle$ を用いて書き、には【証明】で用いられている②～⑦の中から最も適するものを1つ選んで書きなさい。また、、には、【選択群】から最も適するものをそれぞれ1つずつ選び、その番号を答えなさい。

【証明】

$\triangle ACF$ と $\triangle DCE$ において、  
 まず、仮定から、 $AC = CD$   
 よって、 $AC = DC$  …①  
 次に  に対する円周角は等しいから  
 $\angle ABF = \angle ACF$  …②  
 また、平行線の錯角は等しいから  
 $\angle ABF = \angle BAE$  …③  
 さらに、 $\widehat{BE}$ に対する円周角は等しいから、  
 $\angle BAE = \angle BCE$  …④  
 ②、③、④より、 $\angle ACF = \angle BCE$   
 よって、 $\angle ACF = \angle DCE$  …⑤  
 さらに、 $\widehat{CF}$ に対する円周角は等しいから、  
 $\angle CAF = \angle CBF$  …⑥  
 また、 から、  
  $= \angle CDA$  …⑦  
 ⑥、⑦より、 $\angle CAF = \angle CDE$  …⑧  
 ① 、⑧より、 から、  
 $\triangle ACF \equiv \triangle DCE$

【選択群】

- 1, 平行線の同位角は等しい
- 2, 平行線の錯角は等しい
- 3, 対頂角は等しい
- 4, 3辺がそれぞれ等しい
- 5, 2辺とその間の角がそれぞれ等しい
- 6, 1辺とその両端の角がそれぞれ等しい

- (2)  $\angle BAC = 28^\circ$  のとき、 $\angle ACE$ の大きさを求めなさい。

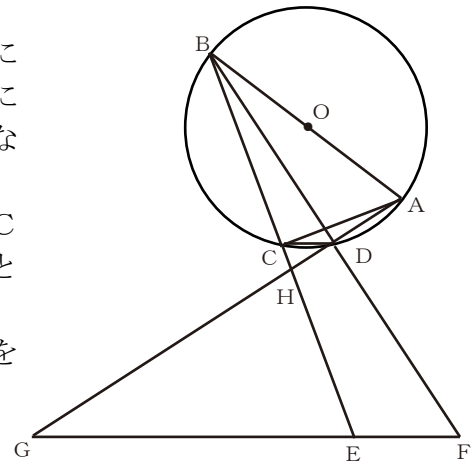
1

次の図のように、線分ABを直径とする円Oの周上に2点A、Bとは異なる点Cを $AC < BC$ となるようにとり、点Bをふくまない $\widehat{AC}$ 上に2点A、Cとは異なる点Dをとり、点Cと点Dを結ぶ。

また、線分BCの延長上に点Bとは異なる点Eを $BC = CE$ となるようにとり、線分BDの延長上に点Bとは異なる点Fを $BD = DF$ となるようにとる。

さらに、線分ADの延長と線分FEの延長との交点をGとし、線分AGと線分BEとの交点をHとする。

このとき、次の問いに答えなさい。



- (1) 三角形ABCと三角形FGDが相似であることを次のように証明した。空欄にあてはまるものとして、 には最も適する弧の記号 $\widehat{\quad}$ を用いて書き、 には最も適する角を記号 $\angle$ を用いて書き、 には最も適する用語を漢字3文字で書き、 には最も適するものを【選択群】から1つ選び、その番号を答えなさい。

【証明】

$\triangle ABC$ と $\triangle FGD$ において、

まず、 に対する円周角は等しいから  
 $\angle BAC = \angle BDC$  …①

ところで、 $\triangle BEF$ において

仮定より、 $BC = CE$ 、 $BD = DF$ であるから、  
 $CD \parallel EF$  …②

②より、平行線の同位角は等しいから、

$= \angle BFE$  …③

①、③より  $\angle BAC = \angle BFE$

よって、 $\angle BAC = \angle GFD$  …④

次に、 $\widehat{AB}$ に対する円周角は等しいから、

$\angle ACB = \angle ADB$  …⑤

また、 は等しいから

$\angle ADB = \angle FDG$  …⑥

⑤、⑥より、 $\angle ACB = \angle FDG$  …⑦

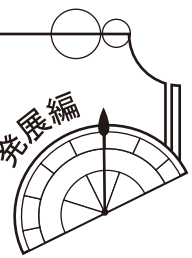
④、⑦より、 から、

$\triangle ABC \sim \triangle FGD$

【選択群】

- 1, 3組の辺の比が等しい
- 2, 2組の辺の比が等しく  
その間の角が等しい
- 3, 2組の角がそれぞれ等しい
- 4, 3辺がそれぞれ等しい

- (2)  $\angle BDC = 48^\circ$ 、 $\angle EHG = 66^\circ$  のとき、 $\angle ABD$ の大きさを求めなさい。



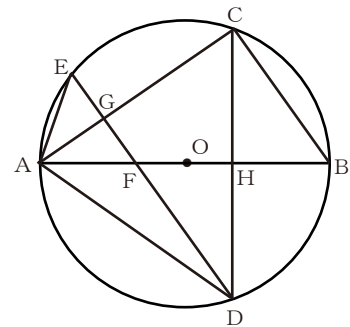
1

次の図のように、線分ABを直径とする円Oの周上に2点A、Bとは異なる点Cを $AC > BC$ となるようにとり、点Cをふくまない $\widehat{AB}$ 上に点Dを $AC = AD$ となるようにとる。

また、点Bをふくまない $\widehat{AC}$ 上に点Eを $BC \parallel DE$ となるようにとり、線分ABと線分DEとの交点をF、線分ACとの交点をGとする。

さらに、線分ABと線分CDとの交点をHとする。

このとき、次の問いに答えなさい。



- (1) 三角形AEGと三角形DFHが相似であることを次のように証明した。空欄にあてはまるものとして、 には最も適する弧の記号 $\widehat{\quad}$ を用いて書き、 には最も適する角を記号 $\angle$ を用いて書き、  には最も適するものを【選択群】から1つ選び、その番号を答えなさい。

【証明】

$\triangle AEG$ と $\triangle DFH$ において、  
 まず、 に対する円周角は等しいから  
 $\angle CAE = \angle CDE$   
 よって、 $\angle EAG = \angle FDH$  …①  
 次に、 $\widehat{AD}$ に対する円周角は等しいから、  
 $\angle AED = \angle ACD$  …②  
 また、 $\triangle ACD$ は、 $AC = AD$ の二等辺三角形だから  
 $\angle ACD =$   …③  
 さらに、 $\widehat{AC}$ に対する円周角は等しいから、  
 $\angle ADC = \angle ABC$  …④  
 ここで、 から、  
 $\angle CBF = \angle BFD$   
 よって、 $\angle ABC = \angle BFD$  …⑤  
 ②、③、④、⑤より、 $\angle AED = \angle BFD$   
 よって、 $\angle AEG = \angle DFH$  …⑥  
 ①、⑥より、 から、  
 $\triangle AEG \sim \triangle DFH$

【選択群】

- 1, 対頂角は等しい
- 2, 平行線の同位角は等しい
- 3, 平行線の錯角は等しい
- 4, 3組の辺の比が等しい
- 5, 2組の辺の比が等しく、その間の角が等しい
- 6, 2組の角がそれぞれ等しい

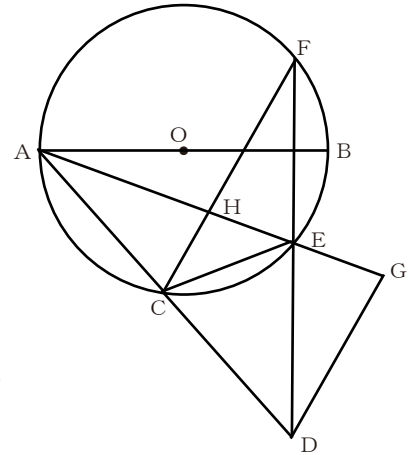
- (2)  $\angle BAE = 64^\circ$  のとき、 $\angle ADE$ の大きさを求めなさい。

1

次の図のように、線分ABを直径とする円Oの周上に2点A、Bとは異なる点Cをとる。線分ACの延長上に点Aとは異なる点Dを、 $AC=CD$ となるようにとる。

また、円Oの周上に点Cとは異なる点Eを $CD=DE$ となるようにとり、線分DEの延長と円Oとの交点で点Eとは異なる点をFとする。

さらに、線分AEの延長上に点Gを $CF \parallel DG$ となるようにとり、線分AEと線分CFとの交点をHとする。このとき、次の問いに答えなさい。



- (1) 三角形ACHと三角形DEGが合同であることを次のように証明した。空欄にあてはまるものとして、 には、最も適する角を記号 $\angle$ を用いて答え、 ~  には最も適するものを【選択群】から、それぞれ1つずつ選び、その番号を書きなさい。

【証明】

$\triangle ACH$ と $\triangle DEG$ において、  
 まず、仮定から、 $AC=CD$  …①  
 同時に、仮定から、 $CD=DE$  …②  
 ①、②より、 $AC=DE$  …③  
 次に、 $\widehat{AF}$ に対する円周角等しいから、  
 $\angle ACF = \angle AEF$  …④  
 また、対頂角は等しいから、  
 $\angle AEF =$   …⑤  
 ④、⑤より、 $\angle ACF = \angle DEG$  …⑥  
 よって、 $\angle ACH = \angle DEG$  …⑥  
 さらに、 から、  
 $\angle CAE = \angle CFE$  …⑦  
 また、 から、  
 $\angle CFD = \angle FDG$   
 よって、 $\angle CFE = \angle EDG$  …⑧  
 ⑦、⑧より、 $\angle CAE = \angle EDG$   
 よって、 $\angle CAH = \angle EDG$  …⑨  
 ③、⑥、⑨より、 から、  
 $\triangle ACH \equiv \triangle DEG$

【選択群】

- 1, 平行線の同位角は等しい
- 2, 平行線の錯角は等しい
- 3, 対頂角は等しい
- 4,  $\widehat{CE}$ に対する円周角は等しい
- 5, 3辺がそれぞれ等しい
- 6, 2辺とその間の角がそれぞれ等しい
- 7, 1辺とその両端の角がそれぞれ等しい

- (2)  $\angle DCE = 71^\circ$  のとき、 $\angle BAE$  の大きさを求めなさい。