



かけ算

かけ算のきまり①

年 組 番

名前

1 下の九九表をかんせいさせましょう。

	1	2	3	4	5	6	7	8	9
1	1	2	3	4	5	6	7	8	9
2	2	4	6	8	10	12	14	16	18
3	3	6	9	12	15	18	21	24	27
4	4	8	12	16	20	24	28	32	36
5	5	10	15	20	25	30	35	40	45
6	6	12	18	24	30	36	42	48	54
7	7	14	21	28	35	42	49	56	63
8	8	16	24	32	40	48	56	64	72
9	9	18	27	36	45	54	63	72	81



2 にあてはまる数を書きましょう。

- ① 7×3 の答えは、 7×2 の答えより 大きい。
- ② 8×4 の答えは、 8×5 の答えより 小さい。
- ③ $5 \times 4 = 5 \times 3 +$
- ④ $7 \times 8 = 7 \times 9 -$

①の考え方は…

○	○	○
○	○	○
○	○	○
○	○	○
○	○	○
○	○	○
○	○	○

7こずつならべると



かけ算

かけ算のきまり②

年 組 番

名前

1 にあてはまる数は何でしょう。

$$\begin{array}{l} \textcircled{1} \quad 4 \times 8 \quad \begin{array}{l} \nearrow 4 \times 5 = 20 \\ \searrow 4 \times 3 = 12 \end{array} \\ \hline \text{あわせて} \quad 32 \end{array}$$

$$\begin{array}{l} \textcircled{2} \quad 7 \times 6 \quad \begin{array}{l} \nearrow 3 \times 6 = 18 \\ \searrow 4 \times 6 = 24 \end{array} \\ \hline \text{あわせて} \quad 42 \end{array}$$

$$\begin{array}{l} \textcircled{3} \quad 5 \times 9 \quad \begin{array}{l} \nearrow 5 \times 4 = 20 \\ \searrow 5 \times 5 = 25 \end{array} \\ \hline \text{あわせて} \quad 45 \end{array}$$

大きな数を
分けるといいね。



2 にあてはまる数は何でしょう。

$$\textcircled{1} \quad 7 \times 3 = 21$$

$$\textcircled{2} \quad 9 \times 5 = 45$$

$$\textcircled{3} \quad 8 \times 4 = 32$$

$$\textcircled{4} \quad 6 \times 2 = 12$$

$$\textcircled{5} \quad 8 \times 7 = 56$$

$$\textcircled{6} \quad 6 \times 6 = 36$$

$$\textcircled{7} \quad 9 \times 3 = 27$$

$$\textcircled{8} \quad 5 \times 2 = 10$$





かけ算

10より大きいかけ算

年	組	番
名前		

いろいろな考え方で、 13×3 の答えをもとめましょう。

$13 \times 1 =$	13
$13 \times 2 =$	26
$13 \times 3 =$	39
$13 \times 4 =$	52
$13 \times 5 =$	65
$13 \times 6 =$	78
$13 \times 7 =$	91
$13 \times 8 =$	104
$13 \times 9 =$	117

$13 + 13 + 13 = 39$



$13 \times 1 = 13$
 $13 \times 2 = 26$
 $13 \times 3 = 39$





かけ算

0のかけ算

年 組 番

名前

1. みずべーが、おはじきゲームをしました。とく点は、下の式でもとめられます。
下の表に数を書いて、とく点の合計をもとめましょう。

3×3 2×1 1×4 0×2

入ったところ	3点	2点	1点	0点	合計
入った数 (こ)	3	1	4	2	10
とく点 (点)	9	2	4	0	15



ぼくの点数を計算してね。

どんな数に0をかけても、答えは0になります。
また、0にどんな数をかけても、答えは0になります。

2. 計算しましょう。

① $3 \times 0 = 0$

② $0 \times 0 = 0$

③ $0 \times 6 = 0$

④ $5 \times 0 = 0$

⑤ $0 \times 9 = 0$

⑥ $1 \times 0 = 0$






かけ算


おはじきゲーム

年 組 番


名前

おはじき入れゲームをやってみましょう。

やり方…  の中におはじきをおいて指^{ゆび}ではじいてみましょう。
はじき終わったら、表に書いてとく点の合計をもとめましょう。



0



0



スタート

入ったところ	3点	2点	1点	0点	合計
入った数 (こ)		略			
とく点 (点)					



かけ算

かけ算九九

年 組 番
 名前

かけ算をしましょう。



×	2	7	5	9	3	6	4	1	8
4	8	28	20	36	12	24	16	4	32
5	10	35	25	45	15	30	20	5	40



×	1	8	4	3	5	9	2	7	6
3	3	24	12	9	15	27	6	21	18
9	9	72	36	27	45	81	18	63	54
1	1	8	4	3	5	9	2	7	6



×	2	5	7	3	1	4	8	6	9
2	4	10	14	6	2	8	16	12	18
7	14	35	49	21	7	28	56	42	63
6	12	30	42	18	6	24	48	36	54
8	16	40	56	24	8	32	64	48	72
0	0	0	0	0	0	0	0	0	0





かけ算

力をつけよう

年 組 番

名前

色をぬりましょう。
 答えが、0 → 黄色 24 → みどり 36 → 赤 99より大きい数 → 青

9 × 9

9 × 4

1 × 1

5 × 9

1 × 10

4 × 9

6 × 6

2 × 12

3 × 8

4 × 6

12 × 3

9 × 4

11 × 10

3 × 5

0 × 9

0 × 0

3 × 0

5 × 4

12 × 10

0 × 1

0 × 8

2 × 0

11 × 11

8 × 8

10 × 11

10 × 3

5 × 5

3 × 9

12 × 2



Blank space for drawing or writing.

